



تدریس خصوصی ریاضی به صورت حضوری و آنلاین با دبیران حرفه ای و پیگیری قدرتمند در مدرسه

۴۴۰۲۵۸۶۰ - ۲۶۵۷۰۸۱۰ - ۸۸۹۰۶۹۰۹ - ۸۸۹۰۴۰۰۲

کد تهران ۰۲۱

۱.

(\leq \geq) مقایسه کنید.

(۷ نمره)

--	--	--	--	--	--	--	--	--	--	--	--	--	--	--	--	--	--	--	--

--	--	--	--	--	--	--	--	--	--	--	--	--	--	--	--	--	--	--	--

$$۲ + ۴ + ۳$$



$$۵ + ۲ + ۱$$

پاسخ :

--	--	--	--	--	--	--	--	--	--	--	--	--	--	--	--	--	--	--	--

--	--	--	--	--	--	--	--	--	--	--	--	--	--	--	--	--	--	--	--

۹



۸

۲.

(۷ نمره)

تعداد انگشت های دست و پای دو نفر چند تا است؟

پاسخ :

۴۰



تدریس خصوصی ریاضی به صورت حضوری و آنلاین با دبیران حرفه ای و پیگیری قدرتمند در مدرسه


۴۴۰۲۵۸۶۰ - ۲۶۵۷۰۸۱۰ - ۸۸۹۰۶۹۰۹ - ۸۸۹۰۴۰۰۲

کد تهران ۰۲۱


۳.

(۷ نمره)

شکل زیر شامل چند ده تایی و چند یکی می باشد؟



پاسخ :



ده تایی	یکی
۳	۶

عدد به رقم : ۳۶

عدد به حروف : سی و شش

۴.

(۶ نمره)

کدام یک از اعداد زیر از ۲۳ کوچکتر و از ۲۱ بزرگتر است؟



تدریس خصوصی ریاضی به صورت حضوری و آنلاین با دبیران حرفه ای و پیگیری قدرتمند در مدرسه

۸۸۹۰۴۰۰۲ - ۸۸۹۰۶۹۰۹ - ۲۶۵۷۰۸۱۰ - ۴۴۰۲۵۸۶۰

کد تهران ۰۲۱

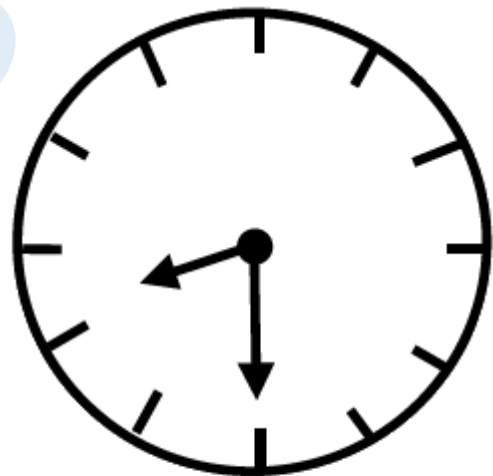
پاسخ :

۲۲

۵.

(۷ نمره)

گزینه مناسب برای جای خالی مقابل را انتخاب کنید.



ساعت از گذشته است.

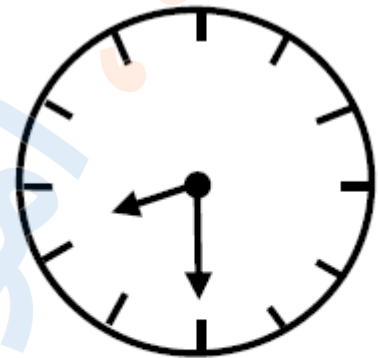
پاسخ :



تدریس خصوصی ریاضی به صورت حضوری و آنلاین با دبیران حرفه ای و پیگیری قدرتمند در مدرسه

۸۸۹۰۴۰۰۲ - ۸۸۹۰۶۹۰۹ - ۲۶۵۷۰۸۱۰ - ۴۴۰۲۵۸۶۰

کد تهران ۰۲۱



ساعت از گذشته است.

۶.

(۶ نمره)

جواد ۳۶ شکلات داشت. ۸ تا را به دوستش علی داد. ۵ تای دیگر را به ایمان داد. حالا چند شکلات برای جواد باقی مانده است؟ (به کمک شکل)

پاسخ:



$$۳۶ - ۸ - ۵ = ۲۳$$

ایمان

علی

۲۳ شکلات برای جواد باقی مانده است.



تدریس خصوصی ریاضی به صورت حضوری و آنلاین با دبیران حرفه ای و پیگیری قدرتمند در مدرسه

۸۸۹۰۴۰۰۲ - ۸۸۹۰۶۹۰۹ - ۲۶۵۷۰۸۱۰ - ۴۴۰۲۵۸۶۰


کد تهران ۰۲۱

. ۷

(۷ نمره)

حسین سه دسته ۱۰ تایی مداد رنگی داشت. پدرش به او ۶ مداد رنگی داد. حسین چند مداد رنگی دارد؟

پاسخ :



اکنون حسین ۳۶ مداد رنگی دارد.

. ۸

(۶ نمره)

چند عدد بین ۶۳ تا ۶۷ وجود دارد؟

پاسخ :



سه عدد بین ۶۳ تا ۶۷ وجود دارد.

. ۹



تدریس خصوصی ریاضی به صورت حضوری و آنلاین با دبیران حرفه ای و پیگیری قدرتمند در مدرسه

۴۴۰۲۵۸۶۰ - ۲۶۵۷۰۸۱۰ - ۸۸۹۰۶۹۰۹ - ۸۸۹۰۴۰۰۲

کد تهران ۰۲۱

(۷ نمره)

شکل مقابل مربوط به کدام یک از عدد های زیر می باشد ؟



پاسخ :

ده تایی	یکی
۳	۶

عدد به رقم: ۳۶

عدد به حروف: سی و شش

(۶ نمره)

.۱۰

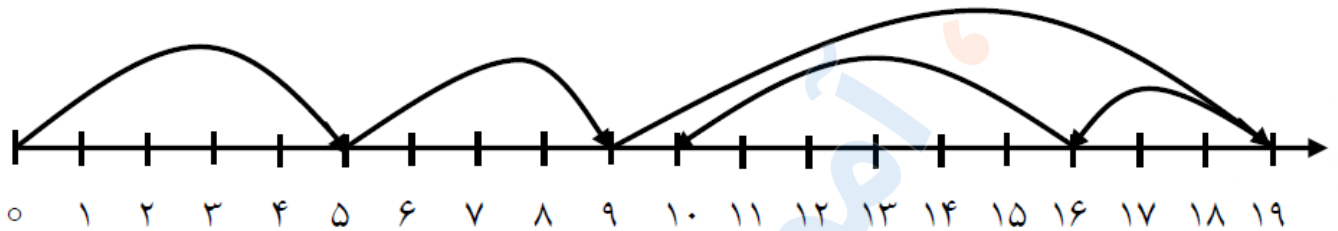


تدریس خصوصی ریاضی به صورت حضوری و آنلاین با دبیران حرفه ای و پیگیری قدرتمند در مدرسه

۸۸۹۰۴۰۰۲ - ۸۸۹۰۶۹۰۹ - ۲۶۵۷۰۸۱۰ - ۴۴۰۲۵۸۶۰

کد تهران ۰۲۱

عملیات مناسب محور مقابل کدام گزینه است؟



پاسخ :

$$5 + 4 + 10 - 3 - 6 = \boxed{10}$$

۱۱.

(۷ نمره)

پارسا ۸ مداد رنگی داشت. ۴ تا از مداد رنگی هایش گم شد. اکنون چند مداد رنگی دارد؟

پاسخ :

$$8 - 4 = \boxed{4}$$

حالا پارسا $\boxed{4}$ مداد رنگی دارد.



تدریس خصوصی ریاضی به صورت حضوری و آنلاین با دبیران حرفه ای و پیگیری قدرتمند در مدرسه

۴۴۰۲۵۸۶۰ - ۲۶۵۷۰۸۱۰ - ۸۸۹۰۶۹۰۹ - ۸۸۹۰۴۰۰۲

کد تهران ۰۲۱

۱۲.

(۷ نمره)

زهرا ۵ شکلات داشت. مادرش به او ۲ شکلات داد. پدرش به او ۱ شکلات داد. اکنون زهرا چند شکلات دارد؟

پاسخ :

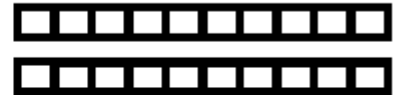

$$۵ + ۲ + ۱ = \boxed{۸}$$

اکنون زهرا $\boxed{۸}$ شکلات دارد.

۱۳.

(۶ نمره)

شکل زیر شامل ده تایی و یکی است.



پاسخ :

ده تایی	یکی
۵	۰

عدد: $\boxed{۵۰}$



تدریس خصوصی ریاضی به صورت حضوری و آنلاین با دبیران حرفه ای و پیگیری قدرتمند در مدرسه

۸۸۹۰۴۰۰۲ - ۸۸۹۰۶۹۰۹ - ۲۶۵۷۰۸۱۰ - ۴۴۰۲۵۸۶۰

کد تهران ۰۲۱

۱۴.

(۷ نمره)

در یک تنگ ۶ ماهی بود. ۳ ماهی مرده اند. حال در تنگ چند ماهی است؟

پاسخ:

$$6 - 3 = 3$$

۱۵.

(۷ نمره)

در بشقاب ششم چند سیب قرار دارد؟



بشقاب اول



بشقاب دوم



بشقاب سوم

پاسخ:

