



تدریس خصوصی ریاضی به صورت حضوری و آنلاین با دبیران حرفه ای و پیگیری قدرتمند در مدرسه

۴۴۰۲۵۸۶۰ - ۲۶۵۷۰۸۱۰ - ۸۸۹۰۶۹۰۹ - ۸۸۹۰۴۰۰۲

کد تهران ۰۲۱

۱.

(۴ نمره)

جاهای خالی را پر کنید.

۱۰ - ۲۰ - ۳۰ - ..... - ..... - .....

۲.

(۵ نمره)

علی ۸ گل دارد یکی بیشتر از گل های او چند تاست؟

۳.

(۷ نمره)

با کمک شکل‌ها جواب دهید.

$$۵۰ - ۲۰ =$$



۴.

(۷ نمره)



تدریس خصوصی ریاضی به صورت حضوری و آنلاین با دبیران حرفه ای و پیگیری قدرتمند در مدرسه

۴۴۰۲۵۸۶۰ - ۲۶۵۷۰۸۱۰ - ۸۸۹۰۶۹۰۹ - ۸۸۹۰۴۰۰۲

کد تهران ۰۲۱

عدد مربوط به شکل داده شده را به حروف نوشته و در جدول ارزش مکانی نشان دهید.

۱۰	۱۰	۱۰	۱۰
۱۰	۱۰	۱۰	

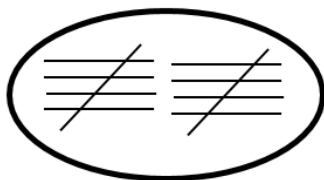
دهتایی	یکی

حروف:


۵.

(۷ نمره)

مانند نمونه برای عدد داده شده، چوب خط بکشید.



= ۱۰

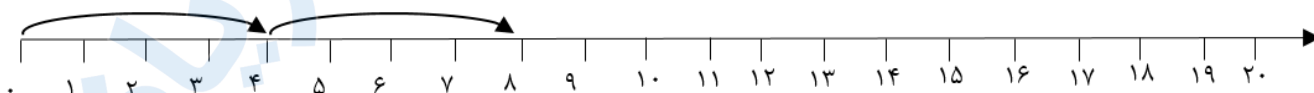


= ۲۵

۶.

(۷ نمره)

مانند نمونه روی محور ادامه بده.



۷.

(۷ نمره)



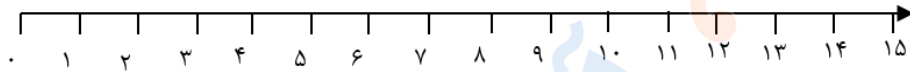
تدریس خصوصی ریاضی به صورت حضوری و آنلاین با دبیران حرفه ای و پیگیری قدرتمند در مدرسه

۸۸۹۰۴۰۰۲ - ۸۸۹۰۶۹۰۹ - ۲۶۵۷۰۸۱۰ - ۴۴۰۲۵۸۶۰

کد تهران ۰۲۱

با کمک محور جواب دهید.

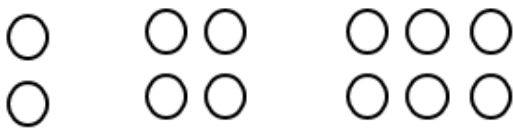
$7 + 5 =$



.۸

(۷ نمره)

مانند الگو ادامه بده.



.۹

(۷ نمره)

جای خالی را پر کن.



اندازه مداد از ..... سنجاق بیشتر و از ..... سنجاق کمتر است.

.۱۰

(۷ نمره)



الگو را ادامه بده.



تدریس خصوصی ریاضی به صورت حضوری و آنلاین با دبیران حرفه ای و پیگیری قدرتمند در مدرسه

۸۸۹۰۴۰۰۲ - ۸۸۹۰۶۹۰۹ - ۲۶۵۷۰۸۱۰ - ۴۴۰۲۵۸۶۰

کد تهران ۰۲۱

. ۱۱


(۷ نمره)

علی زیر میز قایم شده بود که ۴ نفر دور میز نشستند. علی چند پا در زیر میز می بیند؟

. ۱۲

(۷ نمره)

۴ تا کمتر از مثلث ها چند تا است؟



. ۱۳

(۷ نمره)

در الگوی مقابل عدد قبل از ۲۴ چه عددی است؟



. ۱۴

(۷ نمره)

۵ تا سیب بود. علی ۳ سیب خورد. چند سیب باقی مانده است؟ (به کمک شکل)



تدریس خصوصی ریاضی به صورت حضوری و آنلاین با دبیران حرفه ای و پیگیری قدرتمند در مدرسه

۸۸۹۰۴۰۰۲ - ۸۸۹۰۶۹۰۹ - ۲۶۵۷۰۸۱۰ - ۴۴۰۲۵۸۶۰

کد تهران ۰۲۱

۱۵ .

(۷ نمره)

در الگوی زیر به جای مربع چه عددی قرار می گیرد؟



, ۵۰ , ۶۰ , ۷۰