



تدریس خصوصی ریاضی به صورت حضوری و آنلاین با دبیران حرفه ای و پیگیری قدرتمند در مدرسه

۴۴۰۲۵۸۶۰ - ۲۶۵۷۰۸۱۰ - ۸۸۹۰۶۹۰۹ - ۸۸۹۰۴۰۰۲

کد تهران ۰۲۱

۱.

(۴ نمره)

جاهای خالی را پر کنید.

۱۰ - ۲۰ - ۳۰ - - -

پاسخ :

۱۰ - ۲۰ - ۳۰ - ۴۰ - ۵۰ - ۶۰ - ۷۰ - ۸۰ - ۹۰

۲.

(۵ نمره)

علی ۸ گل دارد یکی بیشتر از گل های او چند تاست؟

پاسخ :

۹

۳.

(۷ نمره)



تدریس خصوصی ریاضی به صورت حضوری و آنلاین با دبیران حرفه ای و پیگیری قدرتمند در مدرسه

۸۸۹۰۴۰۰۲ - ۸۸۹۰۶۹۰۹ - ۲۶۵۷۰۸۱۰ - ۴۴۰۲۵۸۶۰

کد تهران ۰۲۱

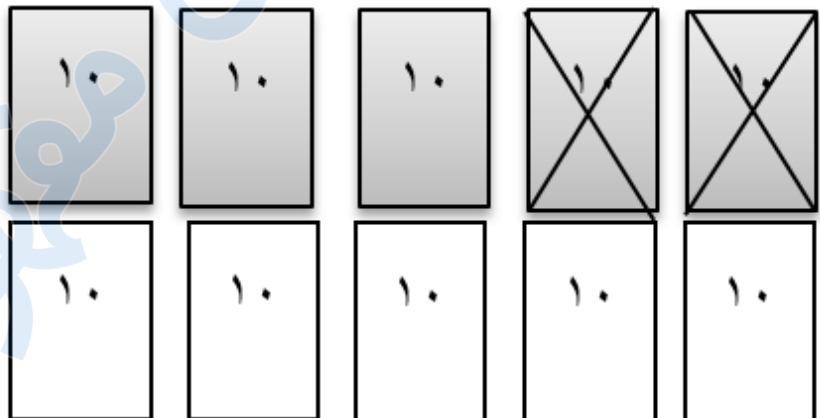
با کمک شکل‌ها جواب دهید.

$$۵۰ - ۲۰ =$$



پاسخ :

$$۵۰ - ۲۰ = ۳۰$$



(۷ نمره)

. ۴



تدریس خصوصی ریاضی به صورت حضوری و آنلاین با دبیران حرفه ای و پیگیری قدرتمند در مدرسه

۴۴۰۲۵۸۶۰ - ۲۶۵۷۰۸۱۰ - ۸۸۹۰۶۹۰۹ - ۸۸۹۰۴۰۰۲

کد تهران ۰۲۱

عدد مربوط به شکل داده شده را به حروف نوشته و در جدول ارزش مکانی نشان دهید.

۱۰	۱۰	۱۰	۱۰
۱۰	۱۰	۱۰	

دهتایی	یکی

حروف:

پاسخ:

دهتایی	یکی
۷	۰

حروف: هفتاد

۵.

(۷ نمره)

مانند نمونه برای عدد داده شده، چوب خط بکشید.



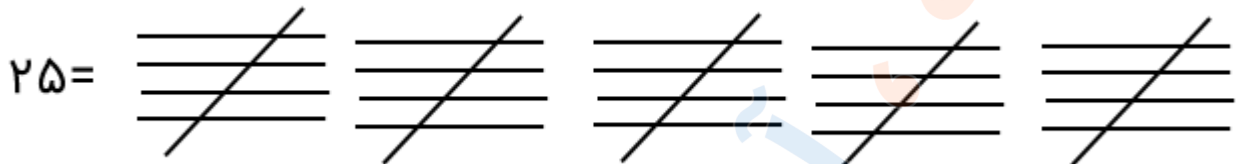
پاسخ:



تدریس خصوصی ریاضی به صورت حضوری و آنلاین با دبیران حرفه ای و پیگیری قدرتمند در مدرسه

۸۸۹۰۴۰۰۲ - ۸۸۹۰۶۹۰۹ - ۲۶۵۷۰۸۱۰ - ۴۴۰۲۵۸۶۰

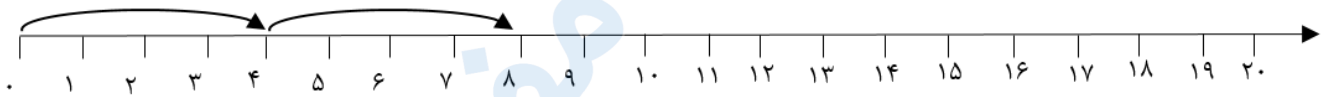
کد تهران ۰۲۱



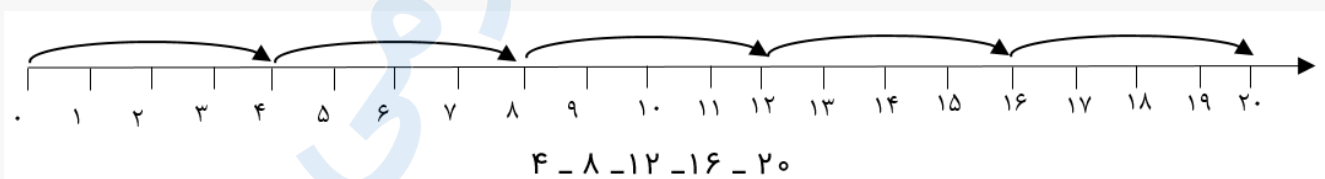
(۷ نمره)

. ۶

مانند نمونه روی محور ادامه بده.



پاسخ :



(۷ نمره)

. ۷



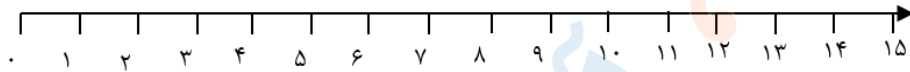
تدریس خصوصی ریاضی به صورت حضوری و آنلاین با دبیران حرفه ای و پیگیری قدرتمند در مدرسه

۸۸۹۰۴۰۰۲ - ۸۸۹۰۶۹۰۹ - ۲۶۵۷۰۸۱۰ - ۴۴۰۲۵۸۶۰

کد تهران ۰۲۱

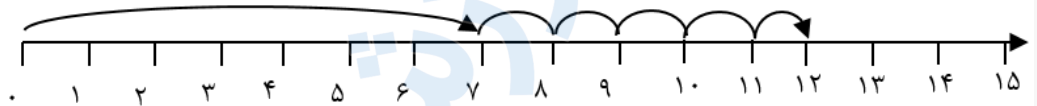
با کمک محور جواب دهید.

$$7 + 5 =$$



پاسخ :

$$7 + 5 = 12$$




۸.

(۷ نمره)

مانند الگو ادامه بده.



پاسخ :





تدریس خصوصی ریاضی به صورت حضوری و آنلاین با دبیران حرفه ای و پیگیری قدرتمند در مدرسه

۴۴۰۲۵۸۶۰ - ۲۶۵۷۰۸۱۰ - ۸۸۹۰۶۹۰۹ - ۸۸۹۰۴۰۰۲

کد تهران ۰۲۱

۹.

(۷ نمره)

جای خالی را پر کن.



اندازه مداد از سنجاق بیشتر و از سنجاق کمتر است.

پاسخ :

اندازه مداد از ۸ سنجاق بیشتر و از ۹ سنجاق کمتر است.

۱۰.

(۷ نمره)



الگو را ادامه بده.

پاسخ :





تدریس خصوصی ریاضی به صورت حضوری و آنلاین با دبیران حرفه ای و پیگیری قدرتمند در مدرسه

۸۸۹۰۴۰۰۲ - ۸۸۹۰۶۹۰۹ - ۲۶۵۷۰۸۱۰ - ۴۴۰۲۵۸۶۰

کد تهران ۰۲۱

۱۱.

(۷ نمره)

علی زیر میز قایم شده بود که ۴ نفر دور میز نشستند. علی چند پا در زیر میز می بیند؟


پاسخ:

۸

۱۲.

(۷ نمره)

۴ تا کمتر از مثلث ها چند تا است؟



پاسخ:

$10 - 4 = 6$

۱۳.

(۷ نمره)



تدریس خصوصی ریاضی به صورت حضوری و آنلاین با دبیران حرفه ای و پیگیری قدرتمند در مدرسه

۴۴۰۲۵۸۶۰ - ۲۶۵۷۰۸۱۰ - ۸۸۹۰۶۹۰۹ - ۸۸۹۰۴۰۰۲

کد تهران ۰۲۱

در الگوی مقابل عدد قبل از ۲۴ چه عددی است؟

..... - ۲۴ - ۳۰ - ۳۶

پاسخ :

۶ - ۱۲ - ۱۸ - ۲۴ - ۳۰ - ۳۶
-۶ -۶ -۶ -۶ -۶

. ۱۴

(۷ نمره)

۵ تا سیب بود. علی ۳ سیب خورد. چند سیب باقی مانده است؟ (به کمک شکل)

پاسخ :



$$5 - 3 = \boxed{2}$$

۲ سیب باقی مانده است.



تدریس خصوصی ریاضی به صورت حضوری و آنلاین با دبیران حرفه ای و پیگیری قدرتمند در مدرسه

۸۸۹۰۴۰۰۲ - ۸۸۹۰۶۹۰۹ - ۲۶۵۷۰۸۱۰ - ۴۴۰۲۵۸۶۰

کد تهران ۰۲۱

۱۵ .

(۷ نمره)

در الگوی زیر به جای مربع چه عددی قرار می گیرد؟

، ۵۰ ، ۶۰ ، ۷۰

پاسخ :

۴۰ ، ۵۰ ، ۶۰ ، ۷۰
-۱۰ -۱۰ -۱۰