



تدریس خصوصی ریاضی به صورت حضوری و آنلاین با دبیران حرفه ای و پیگیری قدرتمند در مدرسه

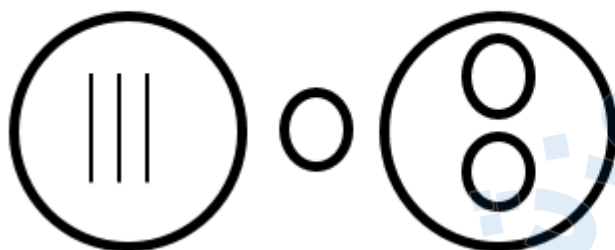
۸۸۹۰۴۰۰۲ - ۸۸۹۰۶۹۰۹ - ۲۶۵۷۰۸۱۰ - ۴۴۰۲۵۸۶۰

کد تهران ۰۲۱

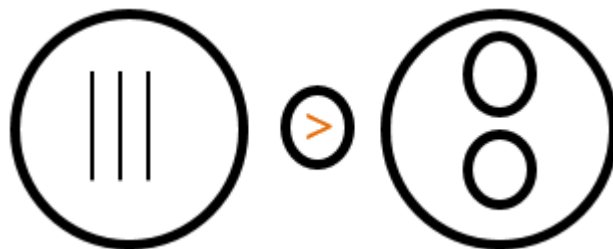
۱.

(۱ نمره)

مقایسه کنید.



پاسخ:



۲.

(۱ نمره)

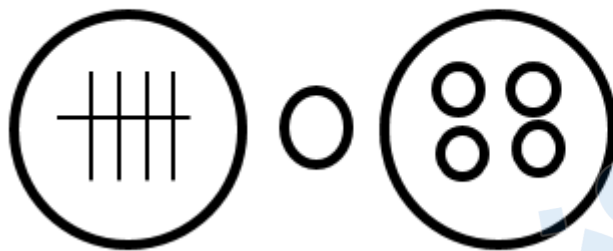


تدریس خصوصی ریاضی به صورت حضوری و آنلاین با دبیران حرفه ای و پیگیری قدرتمند در مدرسه

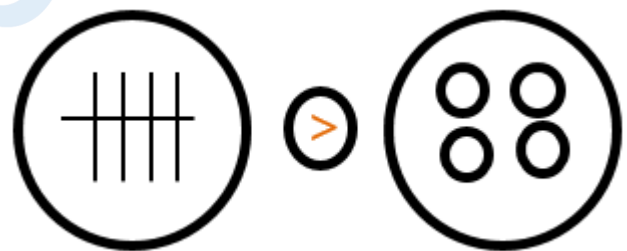
۸۸۹۰۴۰۰۲ - ۸۸۹۰۶۹۰۹ - ۲۶۵۷۰۸۱۰ - ۴۴۰۲۵۸۶۰

کد تهران ۰۲۱

مقایسه کنید. ($<=>$)



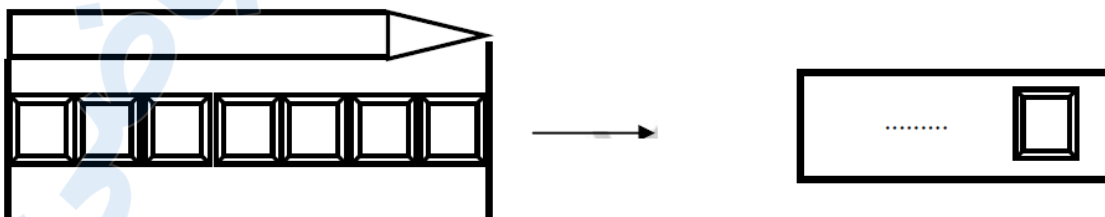
پاسخ :



۳.

(۱ نمره)

اندازه مداد چند شکل کوچک است؟





تدریس خصوصی ریاضی به صورت حضوری و آنلاین با دبیران حرفه ای و پیگیری قدرتمند در مدرسه

۴۴۰۲۵۸۶۰ - ۲۶۵۷۰۸۱۰ - ۸۸۹۰۶۹۰۹ - ۸۸۹۰۴۰۰۲

کد تهران ۰۲۱

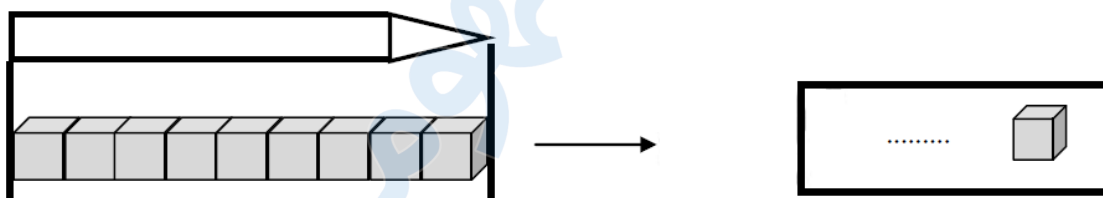
پاسخ :



۴ .

(۱ نمره)

اندازه مداد چند شکل کوچک است؟



پاسخ :





تدریس خصوصی ریاضی به صورت حضوری و آنلاین با دبیران حرفه ای و پیگیری قدرتمند در مدرسه


۴۴۰۲۵۸۶۰ - ۲۶۵۷۰۸۱۰ - ۸۸۹۰۶۹۰۹ - ۸۸۹۰۴۰۰۲

کد تهران ۰۲۱

۵.

(۱ نمره)

کدام گزینه تعداد قلبها را نشان می دهد؟



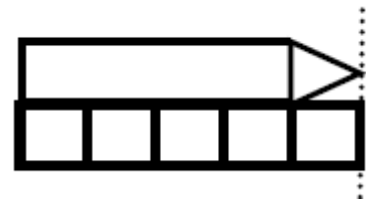
پاسخ :

۹

۶.

(۱ نمره)

طول مداد برابر با چند مربع است؟



پاسخ :

۵ تا



تدریس خصوصی ریاضی به صورت حضوری و آنلاین با دبیران حرفه ای و پیگیری قدرتمند در مدرسه

۸۸۹۰۴۰۰۲ - ۸۸۹۰۶۹۰۹ - ۲۶۵۷۰۸۱۰ - ۴۴۰۲۵۸۶۰

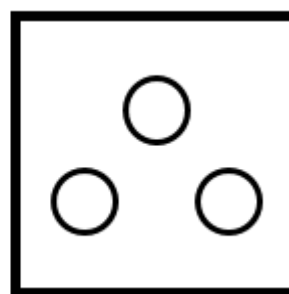
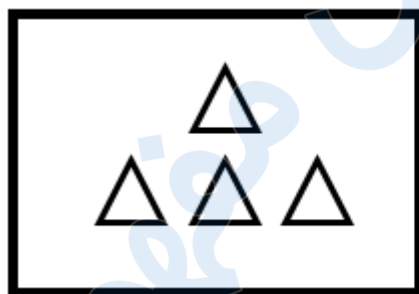
کد تهران ۰۲۱



. ۷

(۱ نمره)

از هر دسته از شکل‌های سمت چپ به اندازه شکل‌های سمت راست کم کنید حاصل آن چند می‌شود؟



=

پاسخ :

$$۴ - ۳ = ۱$$

. ۸

(۴ نمره)



تدریس خصوصی ریاضی به صورت حضوری و آنلاین با دبیران حرفه ای و پیگیری قدرتمند در مدرسه

۸۸۹۰۴۰۰۲ - ۸۸۹۰۶۹۰۹ - ۲۶۵۷۰۸۱۰ - ۴۴۰۲۵۸۶۰

کد تهران ۰۲۱

با روش دلخواه جواب دهید.

$$\underline{\quad} + \underline{\quad} = ۶$$

$$\underline{\quad} + \underline{\quad} = ۶$$

$$\underline{\quad} + \underline{\quad} = ۶$$

$$\underline{\quad} + \underline{\quad} = ۶$$

پاسخ :

با کمک انگشتان یا شکل یا هر روش دلخواه دیگر

$$۰ + ۶ = ۶$$

$$۱ + ۵ = ۶$$



$$۲ + ۴ = ۶$$

$$۳ + ۳ = ۶$$

۹.

(۴ نمره)

مقایسه کنید. ($<=>$)

$$۶ \square ۴$$

$$۱ + ۸ \square ۸$$

پاسخ :



تدریس خصوصی ریاضی به صورت حضوری و آنلاین با دبیران حرفه ای و پیگیری قدرتمند در مدرسه

۸۸۹۰۴۰۰۲ - ۸۸۹۰۶۹۰۹ - ۲۶۵۷۰۸۱۰ - ۴۴۰۲۵۸۶۰

کد تهران ۰۲۱

$$۶ > ۴ \quad ۱ + ۸ = ۹ > ۸$$

(۴ نمره)

کدام عدد جای خالی را درست پر می کند؟

$$۳ + \underline{\quad} = ۶$$

پاسخ :

$$۳ + ۳ = ۶$$



(۴ نمره)

با روش دلخواه جواب دهید.

$$\underline{\quad} + ۵ = ۸$$



تدریس خصوصی ریاضی به صورت حضوری و آنلاین با دبیران حرفه ای و پیگیری قدرتمند در مدرسه

۴۴۰۲۵۸۶۰ - ۲۶۵۷۰۸۱۰ - ۸۸۹۰۶۹۰۹ - ۸۸۹۰۴۰۰۲

کد تهران ۰۲۱

پاسخ :

$$۳ + ۵ = ۸$$



. ۱۲

(۴ نمره)

با روش دلخواه جواب دهید.

$$۶ + ۴ =$$

پاسخ :

$$۶ + ۴ = ۱۰$$



. ۱۳

(۵ نمره)

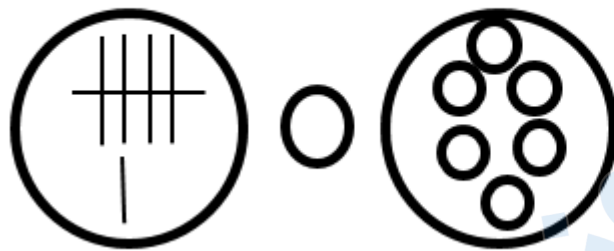


تدریس خصوصی ریاضی به صورت حضوری و آنلاین با دبیران حرفه ای و پیگیری قدرتمند در مدرسه

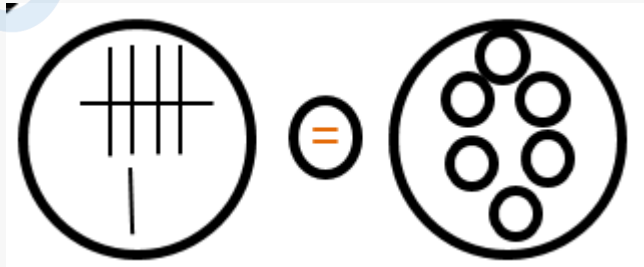
۸۸۹۰۴۰۰۲ - ۸۸۹۰۶۹۰۹ - ۲۶۵۷۰۸۱۰ - ۴۴۰۲۵۸۶۰

کد تهران ۰۲۱

مقایسه کنید. ($\lt = \gt$)



پاسخ :



. ۱۴

(۴ نمره)

جاهای خالی را با چوب خط پر کنید.



پاسخ :



تدریس خصوصی ریاضی به صورت حضوری و آنلاین با دبیران حرفه ای و پیگیری قدرتمند در مدرسه

۴۴۰۲۵۸۶۰ - ۲۶۵۷۰۸۱۰ - ۸۸۹۰۶۹۰۹ - ۸۸۹۰۴۰۰۲

کد تهران ۰۲۱



۱۵.

(۴ نمره)



پاسخ :



۱۶.

(۴ نمره)

کدام شکل مربوط به جمع « $۵ + ۴ = ۹$ » است؟

پاسخ :



تدریس خصوصی ریاضی به صورت حضوری و آنلاین با دبیران حرفه ای و پیگیری قدرتمند در مدرسه

۸۸۹۰۴۰۰۲ - ۸۸۹۰۶۹۰۹ - ۲۶۵۷۰۸۱۰ - ۴۴۰۲۵۸۶۰

کد تهران ۰۲۱



۱۷ .

(۴ نمره)

با رنگ کردن شکل‌ها پاسخ جمع « $۸ + ۲ = \dots$ » را پیدا کن.



پاسخ :



$۸ + ۲ = ۱۰$

۱۸ .

(۴ نمره)



تدریس خصوصی ریاضی به صورت حضوری و آنلاین با دبیران حرفه ای و پیگیری قدرتمند در مدرسه

۸۸۹۰۴۰۰۲ - ۸۸۹۰۶۹۰۹ - ۲۶۵۷۰۸۱۰ - ۴۴۰۲۵۸۶۰

کد تهران ۰۲۱

برای شکل های زیر یک جمع بنویسید:



$$\dots + \dots =$$

پاسخ :

$$۳ + ۴ = ۷$$

. ۱۹

(۴ نمره)

حاصل تفریق زیر چند می شود؟

$$۹ - ۷ = \square$$

پاسخ :

۲

. ۲۰

(۴ نمره)

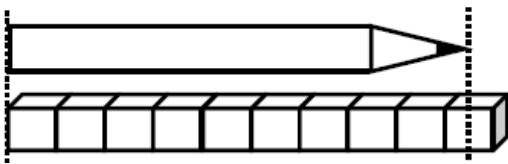


تدریس خصوصی ریاضی به صورت حضوری و آنلاین با دبیران حرفه ای و پیگیری قدرتمند در مدرسه

۸۸۹۰۴۰۰۲ - ۸۸۹۰۶۹۰۹ - ۲۶۵۷۰۸۱۰ - ۴۴۰۲۵۸۶۰

کد تهران ۰۲۱

اندازه‌ی مداد کمی بلندتر از است.



پاسخ :

۹

۲۱ .

(۴ نمره)

عملیات مناسب شکل زیر را انتخاب کنید.



پاسخ :

$$(۳+۲)+(۱+۲)=۸$$

۲۲ .

(۴ نمره)



تدریس خصوصی ریاضی به صورت حضوری و آنلاین با دبیران حرفه ای و پیگیری قدرتمند در مدرسه

۸۸۹۰۴۰۰۲ - ۸۸۹۰۶۹۰۹ - ۲۶۵۷۰۸۱۰ - ۴۴۰۲۵۸۶۰

کد تهران ۰۲۱

سه تا بیش تر از مکعب های زیر چند تا است؟



پاسخ :

$$۵ + ۳ = ۸$$

. ۲۳

(۴ نمره)

برای حاصل جمع زیر شکل مناسب را انتخاب کنید.

$$۳ + ۲ = \square$$

پاسخ :

$$\square\square\square + \square\square = \square\square\square\square\square$$

. ۲۴

(۴ نمره)



تدریس خصوصی ریاضی به صورت حضوری و آنلاین با دبیران حرفه ای و پیگیری قدرتمند در مدرسه

۸۸۹۰۴۰۰۲ - ۸۸۹۰۶۹۰۹ - ۲۶۵۷۰۸۱۰ - ۴۴۰۲۵۸۶۰

کد تهران ۰۲۱

برای شکل زیر یک جمع مناسب انتخاب کنید.



پاسخ :

$$۵ + ۵ = ۱۰$$

. ۲۵

(۴ نمره)

برای شکل زیر تفریق مناسب را انتخاب کنید.



پاسخ :

$$۶ - ۵ = ۱$$

. ۲۶

(۴ نمره)

در جای خالی علامت \leq را قرار دهید.





تدریس خصوصی ریاضی به صورت حضوری و آنلاین با دبیران حرفه ای و پیگیری قدرتمند در مدرسه

۸۸۹۰۴۰۰۲ - ۸۸۹۰۶۹۰۹ - ۲۶۵۷۰۸۱۰ - ۴۴۰۲۵۸۶۰

کد تهران ۰۲۱

پاسخ :

$$۸ = ۸$$

. ۲۷

(۴ نمره)

در جای خالی علامت مناسب \leq قرار دهید.

$$۷ \quad \square \quad ۹$$

پاسخ :

$$۷ < ۹$$

. ۲۸

(۴ نمره)



تدریس خصوصی ریاضی به صورت حضوری و آنلاین با دبیران حرفه ای و پیگیری قدرتمند در مدرسه

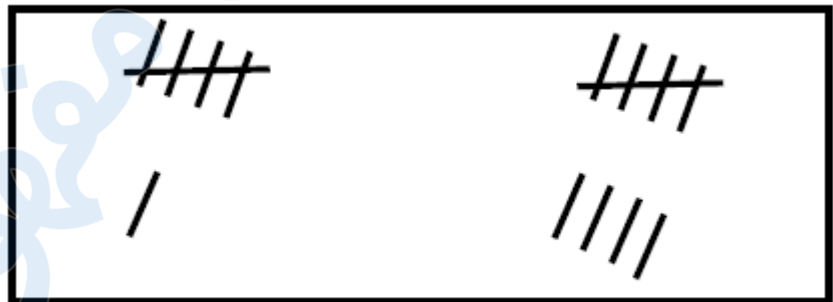
۴۴۰۲۵۸۶۰ - ۲۶۵۷۰۸۱۰ - ۸۸۹۰۶۹۰۹ - ۸۸۹۰۴۰۰۲

کد تهران ۰۲۱

اگر به تعداد شکل های سمت چپ از شکل های سمت راست برداریم چند شکل باقی می ماند؟



پاسخ :



۳

. ۲۹

(۴ نمره)



تدریس خصوصی ریاضی به صورت حضوری و آنلاین با دبیران حرفه ای و پیگیری قدرتمند در مدرسه

۴۴۰۲۵۸۶۰ - ۲۶۵۷۰۸۱۰ - ۸۸۹۰۶۹۰۹ - ۸۸۹۰۴۰۰۲

کد تهران ۰۲۱

اگر به تعداد شکل های سمت چپ از شکل های سمت راست برداریم چند شکل باقی می ماند؟



پاسخ :



۳

. ۳۰

(۴ نمره)



تدریس خصوصی ریاضی به صورت حضوری و آنلاین با دبیران حرفه ای و پیگیری قدرتمند در مدرسه

۸۸۹۰۴۰۰۲ - ۸۸۹۰۶۹۰۹ - ۲۶۵۷۰۸۱۰ - ۴۴۰۲۵۸۶۰

کد تهران ۰۲۱

کدام یک از اعداد زیر می تواند در جای خالی قرار بگیرد تا تساوی صحیح باشد؟

$$۸ \quad \textcircled{<} \quad \dots$$

پاسخ :

$$۸ < ۱۲$$