



تدریس خصوصی ریاضی به صورت حضوری و آنلاین با دبیران حرفه ای و پیگیری قدرتمند در مدرسه

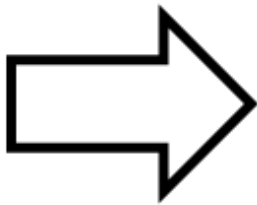
۸۸۹۰۴۰۰۲ - ۸۸۹۰۶۹۰۹ - ۲۶۵۷۰۸۱۰ - ۴۴۰۲۵۸۶۰

کد تهران ۰۲۱

.۱

(۳ نمره)

خط تقارن را رسم کنید.



.۲

(۳ نمره)

مقایسه کنید. ( $\lt \gt$ )

۳  ۵

.۳

(۳ نمره)



تدریس خصوصی ریاضی به صورت حضوری و آنلاین با دبیران حرفه ای و پیگیری قدرتمند در مدرسه

۴۴۰۲۵۸۶۰ - ۲۶۵۷۰۸۱۰ - ۸۸۹۰۶۹۰۹ - ۸۸۹۰۴۰۰۲

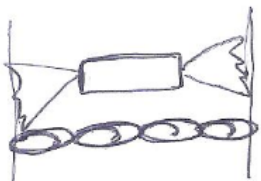
کد تهران ۰۲۱


با رنگ کردن خانه‌های مستطیل جواب دهید.

$$۲ + ۴ =$$

--	--	--	--	--	--	--	--	--	--


(۳ نمره)



برابر است ---  است

.۴

(۳ نمره)



برابر است ---  است

.۵

(۳ نمره)

.۶

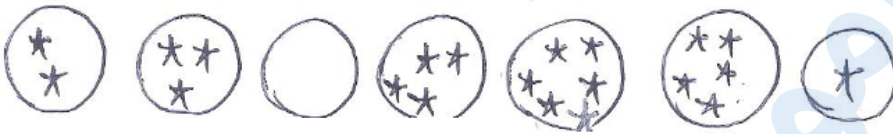


تدریس خصوصی ریاضی به صورت حضوری و آنلاین با دبیران حرفه ای و پیگیری قدرتمند در مدرسه

۸۸۹۰۴۰۰۲ - ۸۸۹۰۶۹۰۹ - ۲۶۵۷۰۸۱۰ - ۴۴۰۲۵۸۶۰

کد تهران ۰۲۱

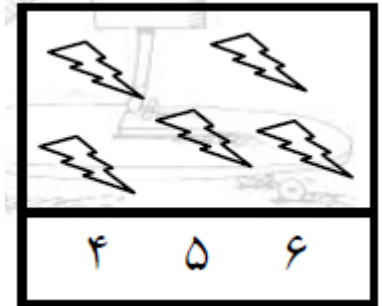
شکل‌ها را به عدد مناسب وصل کن. ۰ - ۲ - ۴ - ۳ - ۵ - ۶ - ۱



۷.

(۳ نمره)

دور عدد درست خط بکش.



۸.

(۳ نمره)

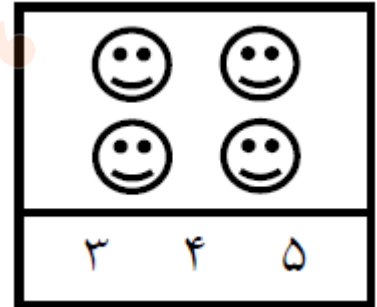


تدریس خصوصی ریاضی به صورت حضوری و آنلاین با دبیران حرفه ای و پیگیری قدرتمند در مدرسه

۴۴۰۲۵۸۶۰ - ۲۶۵۷۰۸۱۰ - ۸۸۹۰۶۹۰۹ - ۸۸۹۰۴۰۰۲

کد تهران ۰۲۱

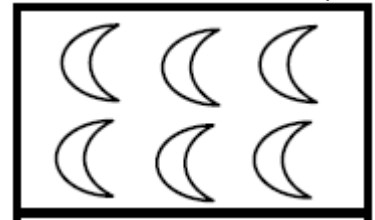
دور عدد درست خط بکش.



۹.

(۳ نمره)

کدام گزینه عدد ماهها را نشان می‌دهد؟



۱۰.

(۳ نمره)

کدام گزینه عدد ستارهها را نشان می‌دهد؟





تدریس خصوصی ریاضی به صورت حضوری و آنلاین با دبیران حرفه ای و پیگیری قدرتمند در مدرسه


۴۴۰۲۵۸۶۰ - ۲۶۵۷۰۸۱۰ - ۸۸۹۰۶۹۰۹ - ۸۸۹۰۴۰۰۲

کد تهران ۰۲۱

. ۱۱

(۳ نمره)

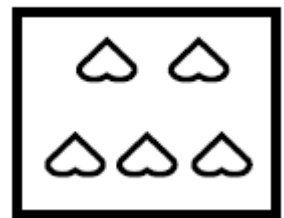
عدد مناسب برای شکل مقابل را انتخاب کنید.



. ۱۲

(۳ نمره)

عدد مناسب برای شکل مقابل را انتخاب کنید.



. ۱۳

(۵ نمره)

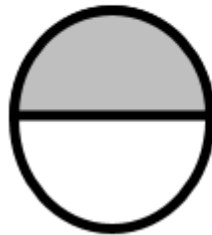


تدریس خصوصی ریاضی به صورت حضوری و آنلاین با دبیران حرفه ای و پیگیری قدرتمند در مدرسه

۸۸۹۰۴۰۰۲ - ۸۸۹۰۶۹۰۹ - ۲۶۵۷۰۸۱۰ - ۴۴۰۲۵۸۶۰

کد تهران ۰۲۱

خط تقارن را رسم کنید.



. ۱۴

(۵ نمره)

مقایسه کنید. ( $\leq$ )

$$۱ + ۲ \square ۲ + ۱$$

. ۱۵

(۵ نمره)

مقایسه کنید.

$$۴ \square ۰ + ۴$$



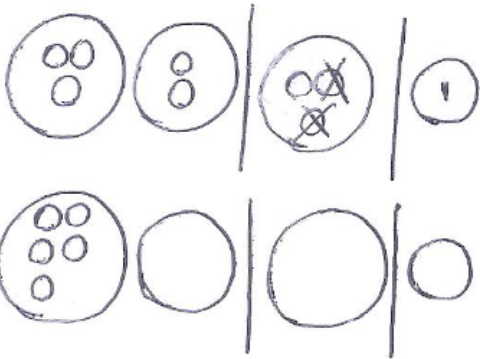


تدریس خصوصی ریاضی به صورت حضوری و آنلاین با دبیران حرفه ای و پیگیری قدرتمند در مدرسه

۴۴۰۲۵۸۶۰ - ۲۶۵۷۰۸۱۰ - ۸۸۹۰۶۹۰۹ - ۸۸۹۰۴۰۰۲


کد تهران ۰۲۱

از هر شکل ۲ تا کم کن و بنویس



(۵ نمره)

. ۲۰



ماترکونه ۲ تا اضافه کن و تعداد آن را بنویس



(۵ نمره)

. ۲۱






تدریس خصوصی ریاضی به صورت حضوری و آنلاین با دبیران حرفه ای و پیگیری قدرتمند در مدرسه

۴۴۰۲۵۸۶۰ - ۲۶۵۷۰۸۱۰ - ۸۸۹۰۶۹۰۹ - ۸۸۹۰۴۰۰۲

کد تهران ۰۲۱

مربع‌ها را طوری رنگ کنید که دو نیمه‌ی مثل هم به وجود آید.



۲۲.

(۵ نمره)

عددی بنویسید که ۴ تا کمتر از ستاره‌ها باشد؟



۲۳.

(۵ نمره)

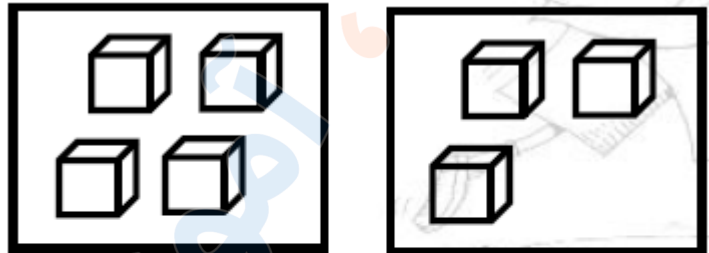


تدریس خصوصی ریاضی به صورت حضوری و آنلاین با دبیران حرفه ای و پیگیری قدرتمند در مدرسه

۸۸۹۰۴۰۰۲ - ۸۸۹۰۶۹۰۹ - ۲۶۵۷۰۸۱۰ - ۴۴۰۲۵۸۶۰

کد تهران ۰۲۱

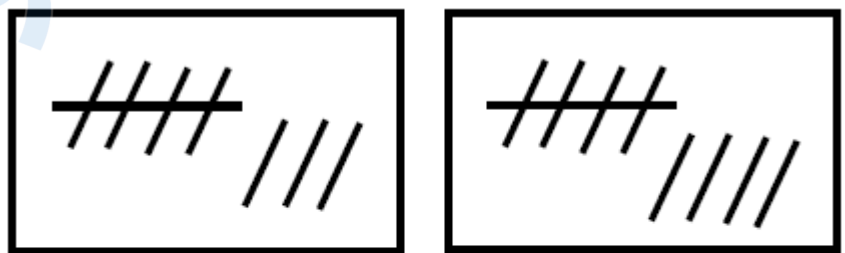
عدد هر قسمت را بنویس و علامت  $<=>$  قرار بده.



. ۲۴

(۵ نمره)

عدد هر قسمت را بنویس و علامت  $<=>$  قرار بده.





تدریس خصوصی ریاضی به صورت حضوری و آنلاین با دبیران حرفه ای و پیگیری قدرتمند در مدرسه

۸۸۹۰۴۰۰۲ - ۸۸۹۰۶۹۰۹ - ۲۶۵۷۰۸۱۰ - ۴۴۰۲۵۸۶۰

کد تهران ۰۲۱

. ۲۵

(۵ نمره)

یک واحد از شکل کم کنید و حاصل را با عدد مشخص کنید.

