



تدریس خصوصی ریاضی به صورت حضوری و آنلاین با دبیران حرفه ای و پیگیری قدرتمند در مدرسه

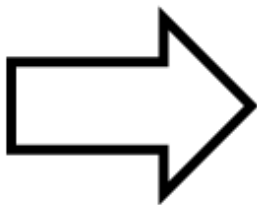
۴۴۰۲۵۸۶۰ - ۲۶۵۷۰۸۱۰ - ۸۸۹۰۶۹۰۹ - ۸۸۹۰۴۰۰۲

کد تهران ۰۲۱

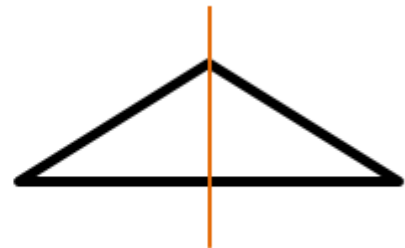
.۱

(۳ نمره)

خط تقارن را رسم کنید.



پاسخ :



.۲

(۳ نمره)



تدریس خصوصی ریاضی به صورت حضوری و آنلاین با دبیران حرفه ای و پیگیری قدرتمند در مدرسه

۴۴۰۲۵۸۶۰ - ۲۶۵۷۰۸۱۰ - ۸۸۹۰۶۹۰۹ - ۸۸۹۰۴۰۰۲

کد تهران ۰۲۱

مقایسه کنید. (\leq)

$$3 \square 5$$

پاسخ :

$$3 \square < 5$$

۳.

(۳ نمره)

با رنگ کردن خانه‌های مستطیل جواب دهید.

$$2 + 4 =$$

--	--	--	--	--	--	--	--	--	--

پاسخ :



تدریس خصوصی ریاضی به صورت حضوری و آنلاین با دبیران حرفه ای و پیگیری قدرتمند در مدرسه

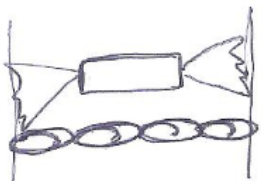
۸۸۹۰۴۰۰۲ - ۸۸۹۰۶۹۰۹ - ۲۶۵۷۰۸۱۰ - ۴۴۰۲۵۸۶۰

کد تهران ۰۲۱

$$۲ + ۴ = ۶$$



(۳ نمره)



برابر است ---

۴.

پاسخ:



(۳ نمره)


۵.



تدریس خصوصی ریاضی به صورت حضوری و آنلاین با دبیران حرفه ای و پیگیری قدرتمند در مدرسه

۴۴۰۲۵۸۶۰ - ۲۶۵۷۰۸۱۰ - ۸۸۹۰۶۹۰۹ - ۸۸۹۰۴۰۰۲

کد تهران ۰۲۱



برابر است

پاسخ :



۶.

(۳ نمره)

شکل‌ها را به عدد مناسب وصل کن.

۰ - ۲ - ۴ - ۳ - ۵ - ۶ - ۱




پاسخ :



تدریس خصوصی ریاضی به صورت حضوری و آنلاین با دبیران حرفه ای و پیگیری قدرتمند در مدرسه

۸۸۹۰۴۰۰۲ - ۸۸۹۰۶۹۰۹ - ۲۶۵۷۰۸۱۰ - ۴۴۰۲۵۸۶۰

کد تهران ۰۲۱



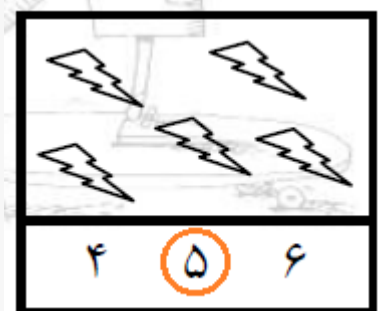
۷.

(۳ نمره)

دور عدد درست خط بکش.



پاسخ:





تدریس خصوصی ریاضی به صورت حضوری و آنلاین با دبیران حرفه ای و پیگیری قدرتمند در مدرسه

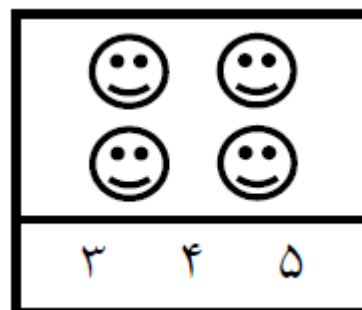
۴۴۰۲۵۸۶۰ - ۲۶۵۷۰۸۱۰ - ۸۸۹۰۶۹۰۹ - ۸۸۹۰۴۰۰۲

کد تهران ۰۲۱

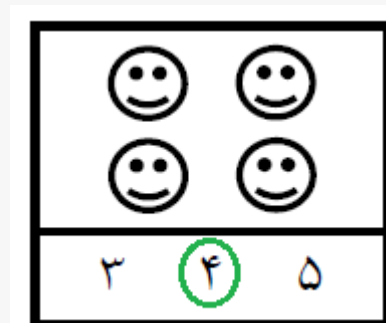
۸.

(۳ نمره)

دور عدد درست خط بکش.



پاسخ:



۹.

(۳ نمره)

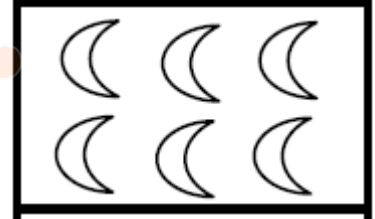


تدریس خصوصی ریاضی به صورت حضوری و آنلاین با دبیران حرفه ای و پیگیری قدرتمند در مدرسه

۴۴۰۲۵۸۶۰ - ۲۶۵۷۰۸۱۰ - ۸۸۹۰۶۹۰۹ - ۸۸۹۰۴۰۰۲

کد تهران ۰۲۱

کدام گزینه عدد ماهها را نشان می‌دهد؟



پاسخ :

۶

. ۱۰

(۳ نمره)

کدام گزینه عدد ستاره‌ها را نشان می‌دهد؟



پاسخ :

۷

. ۱۱



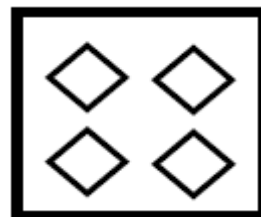
تدریس خصوصی ریاضی به صورت حضوری و آنلاین با دبیران حرفه ای و پیگیری قدرتمند در مدرسه

۸۸۹۰۴۰۰۲ - ۸۸۹۰۶۹۰۹ - ۲۶۵۷۰۸۱۰ - ۴۴۰۲۵۸۶۰

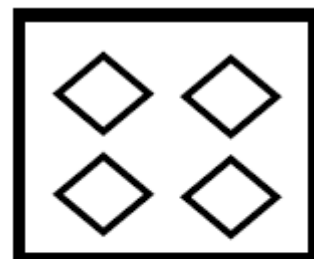
کد تهران ۰۲۱

(۳ نمره)

عدد مناسب برای شکل مقابل را انتخاب کنید.



پاسخ :

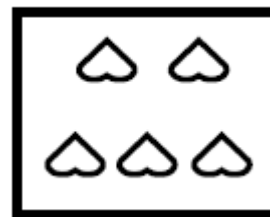


- ۴ -

. ۱۲

(۳ نمره)

عدد مناسب برای شکل مقابل را انتخاب کنید.



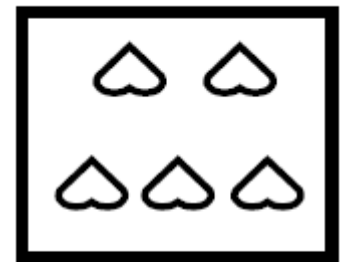


تدریس خصوصی ریاضی به صورت حضوری و آنلاین با دبیران حرفه ای و پیگیری قدرتمند در مدرسه

۴۴۰۲۵۸۶۰ - ۲۶۵۷۰۸۱۰ - ۸۸۹۰۶۹۰۹ - ۸۸۹۰۴۰۰۲

کد تهران ۰۲۱

پاسخ :

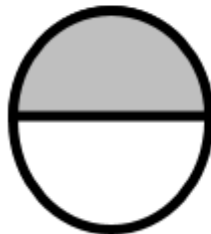


۵

۱۳.

(۵ نمره)

خط تقارن را رسم کنید.



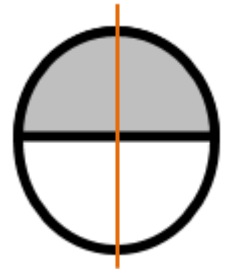
پاسخ :



تدریس خصوصی ریاضی به صورت حضوری و آنلاین با دبیران حرفه ای و پیگیری قدرتمند در مدرسه

۸۸۹۰۴۰۰۲ - ۸۸۹۰۶۹۰۹ - ۲۶۵۷۰۸۱۰ - ۴۴۰۲۵۸۶۰

کد تهران ۰۲۱



۱۴.

(۵ نمره)

مقایسه کنید. (\leq یا \geq)

$$1 + 2 \square 2 + 1$$

پاسخ:

$$1 + 2 = 3 \square 2 + 1 = 3$$

۱۵.

(۵ نمره)



تدریس خصوصی ریاضی به صورت حضوری و آنلاین با دبیران حرفه ای و پیگیری قدرتمند در مدرسه

۴۴۰۲۵۸۶۰ - ۲۶۵۷۰۸۱۰ - ۸۸۹۰۶۹۰۹ - ۸۸۹۰۴۰۰۲

کد تهران ۰۲۱

مقایسه کنید.

$$۴ \square ۰ + ۴$$

پاسخ :

$$۴ \equiv ۰ + ۴$$

.۱۶

(۵ نمره)

با روش دلخواه جواب دهید.

$$۵ + ۲ =$$

پاسخ :

$$۵ + ۲ = ۷$$





تدریس خصوصی ریاضی به صورت حضوری و آنلاین با دبیران حرفه ای و پیگیری قدرتمند در مدرسه

۴۴۰۲۵۸۶۰ - ۲۶۵۷۰۸۱۰ - ۸۸۹۰۶۹۰۹ - ۸۸۹۰۴۰۰۲

کد تهران ۰۲۱

۱۷.

(۵ نمره)

ادامه دهید.



پاسخ:



۱۸.

(۵ نمره)

۰، ۱، ۳، ۵، ۷

جاهای خالی را پر کن.

پاسخ:

۰، ۱، ۲، ۳، ۴، ۵، ۶، ۷



تدریس خصوصی ریاضی به صورت حضوری و آنلاین با دبیران حرفه ای و پیگیری قدرتمند در مدرسه

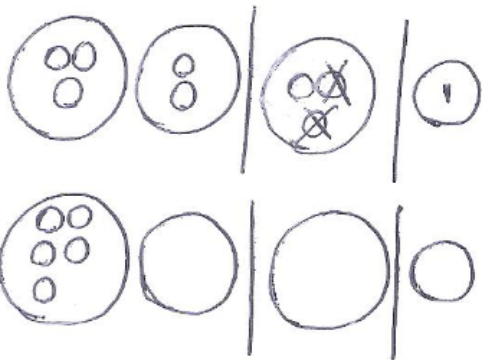
۸۸۹۰۴۰۰۲ - ۸۸۹۰۶۹۰۹ - ۲۶۵۷۰۸۱۰ - ۴۴۰۲۵۸۶۰

کد تهران ۰۲۱

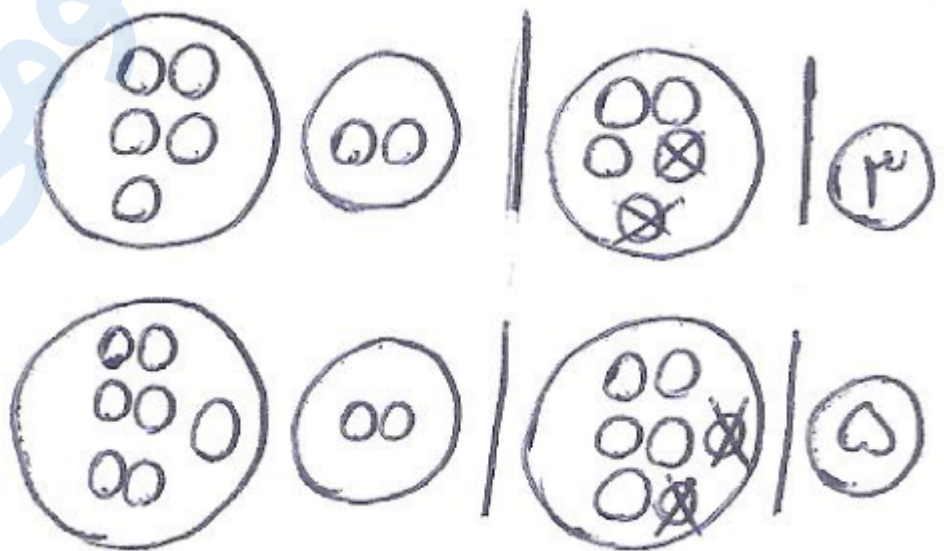
. ۱۹

(۵ نمره)

از هر شکل ۲ تا کم کن و بنویس



پاسخ :





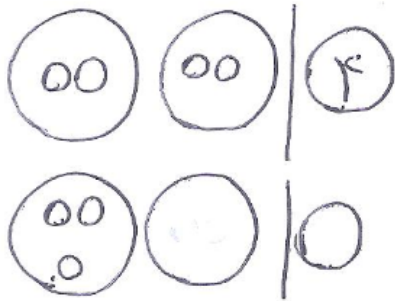
تدریس خصوصی ریاضی به صورت حضوری و آنلاین با دبیران حرفه ای و پیگیری قدرتمند در مدرسه

۸۸۹۰۴۰۰۲ - ۸۸۹۰۶۹۰۹ - ۲۶۵۷۰۸۱۰ - ۴۴۰۲۵۸۶۰

کد تهران ۰۲۱

. ۲۰

(۵ نمره)



مانند نمونه ۱ تا اضافه کن و تعداد آن را بنویس



پاسخ :



. ۲۱

(۵ نمره)




تدریس خصوصی ریاضی به صورت حضوری و آنلاین با دبیران حرفه ای و پیگیری قدرتمند در مدرسه


۴۴۰۲۵۸۶۰ - ۲۶۵۷۰۸۱۰ - ۸۸۹۰۶۹۰۹ - ۸۸۹۰۴۰۰۲

کد تهران ۰۲۱

مربع‌ها را طوری رنگ کنید که دو نیمه‌ی مثل هم به وجود آید.



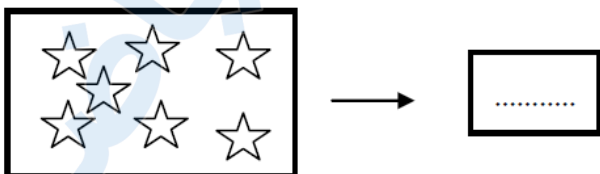
پاسخ :



۲۲ .

(۵ نمره)

عددی بنویسید که ۴ تا کمتر از ستاره‌ها باشد؟



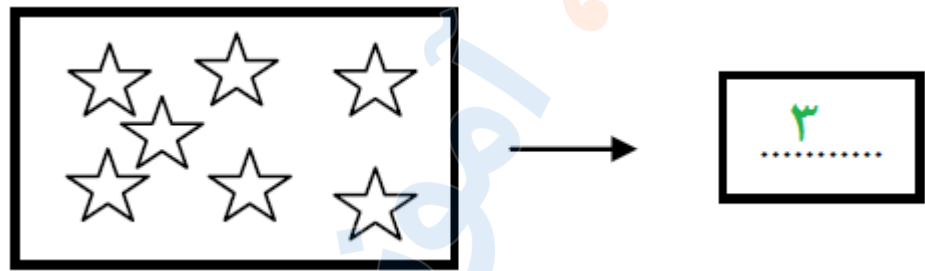


تدریس خصوصی ریاضی به صورت حضوری و آنلاین با دبیران حرفه ای و پیگیری قدرتمند در مدرسه

۸۸۹۰۴۰۰۲ - ۸۸۹۰۶۹۰۹ - ۲۶۵۷۰۸۱۰ - ۴۴۰۲۵۸۶۰

کد تهران ۰۲۱

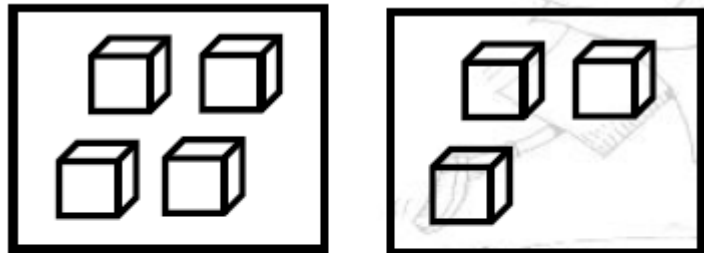
پاسخ :



. ۲۳

(۵ نمره)

عدد هر قسمت را بنویس و علامت <=> قرار بده.



پاسخ :



تدریس خصوصی ریاضی به صورت حضوری و آنلاین با دبیران حرفه ای و پیگیری قدرتمند در مدرسه

۸۸۹۰۴۰۰۲ - ۸۸۹۰۶۹۰۹ - ۲۶۵۷۰۸۱۰ - ۴۴۰۲۵۸۶۰

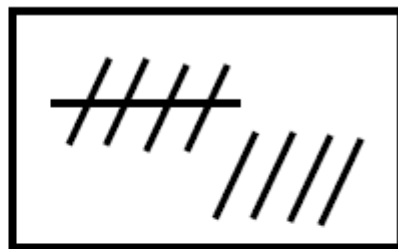
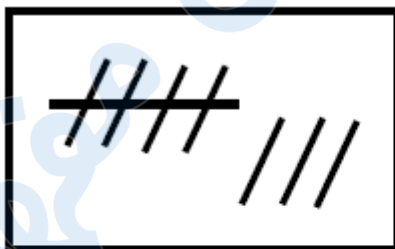
کد تهران ۰۲۱



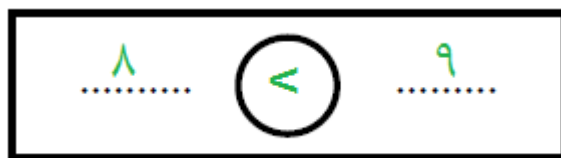
. ۲۴

(۵ نمره)

عدد هر قسمت را بنویس و علامت $<=>$ قرار بده.



پاسخ :





تدریس خصوصی ریاضی به صورت حضوری و آنلاین با دبیران حرفه ای و پیگیری قدرتمند در مدرسه

۸۸۹۰۴۰۰۲ - ۸۸۹۰۶۹۰۹ - ۲۶۵۷۰۸۱۰ - ۴۴۰۲۵۸۶۰

کد تهران ۰۲۱

۲۵.

(۵ نمره)

یک واحد از شکل کم کنید و حاصل را با عدد مشخص کنید.



پاسخ :

