



تدریس خصوصی ریاضی به صورت حضوری و آنلاین با دبیران حرفه ای و پیگیری قدرتمند در مدرسه

۸۸۹۰۴۰۰۲ - ۸۸۹۰۶۹۰۹ - ۲۶۵۷۰۸۱۰ - ۴۴۰۲۵۸۶۰

کد تهران ۰۲۱

۱.

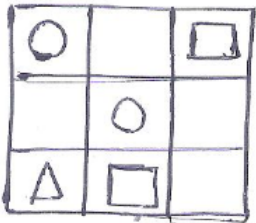
(۲ نمره)

شکل زیر چند گوشه دارد؟



۲.

(۲ نمره)



در هر ردیف یکی از شکل های Δ ، \square یا \circ باشد.

۳.


(۲ نمره)



تدریس خصوصی ریاضی به صورت حضوری و آنلاین با دبیران حرفه ای و پیگیری قدرتمند در مدرسه


۸۸۹۰۴۰۰۲ - ۸۸۹۰۶۹۰۹ - ۲۶۵۷۰۸۱۰ - ۴۴۰۲۵۸۶۰

کد تهران ۰۲۱



مانند نمونه کامل کن

(۲ نمره)



مانند نمونه کامل کن



تدریس خصوصی ریاضی به صورت حضوری و آنلاین با دبیران حرفه ای و پیگیری قدرتمند در مدرسه

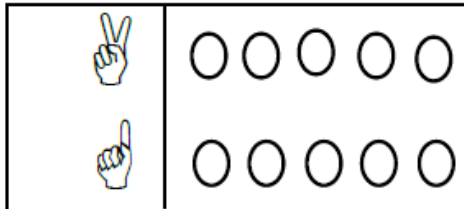
۸۸۹۰۴۰۰۲ - ۸۸۹۰۶۹۰۹ - ۲۶۵۷۰۸۱۰ - ۴۴۰۲۵۸۶۰

کد تهران ۰۲۱

. ۵

(۲ نمره)

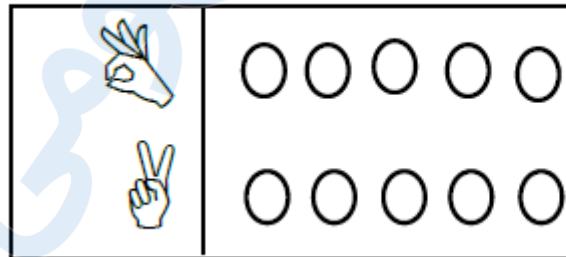
به تعداد انگشتان هر دو دست، از شکل های سمت راست رنگ کن.



. ۶

(۲ نمره)

به تعداد انگشتان هر دو دست، از شکل های سمت راست رنگ کن.



. ۷

(۲ نمره)

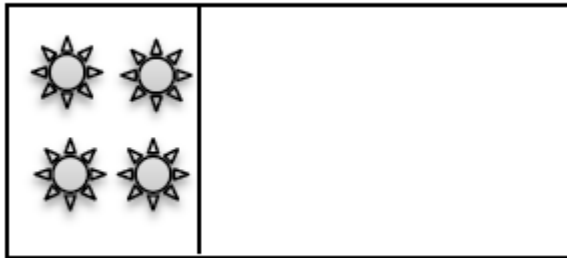


تدریس خصوصی ریاضی به صورت حضوری و آنلاین با دبیران حرفه ای و پیگیری قدرتمند در مدرسه

۴۴۰۲۵۸۶۰ - ۲۶۵۷۰۸۱۰ - ۸۸۹۰۶۹۰۹ - ۸۸۹۰۴۰۰۲

کد تهران ۰۲۱

به تعداد شکل‌ها چوب‌خط بکش.



۸.

(۲ نمره)

به تعداد شکل‌ها چوب‌خط بکش.



۹.

(۲ نمره)

ادامه بده






تدریس خصوصی ریاضی به صورت حضوری و آنلاین با دبیران حرفه ای و پیگیری قدرتمند در مدرسه

۴۴۰۲۵۸۶۰ - ۲۶۵۷۰۸۱۰ - ۸۸۹۰۶۹۰۹ - ۸۸۹۰۴۰۰۲

کد تهران ۰۲۱

. ۱۰

(۲ نمره)

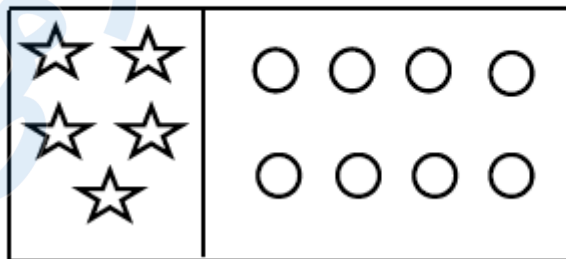


تعداد شکل‌های برابر را به هم وصل کن.

. ۱۱

(۲ نمره)

به تعداد شکل‌های سمت چپ، از دایره‌های سمت راست رنگ کن.



. ۱۲

(۲ نمره)

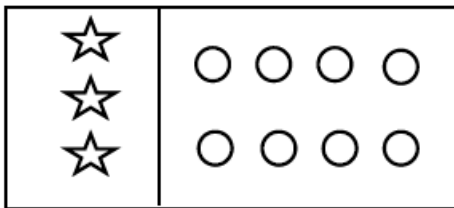


تدریس خصوصی ریاضی به صورت حضوری و آنلاین با دبیران حرفه ای و پیگیری قدرتمند در مدرسه

۸۸۹۰۴۰۰۲ - ۸۸۹۰۶۹۰۹ - ۲۶۵۷۰۸۱۰ - ۴۴۰۲۵۸۶۰

کد تهران ۰۲۱

به تعداد شکل های سمت چپ، از دایره های سمت راست رنگ کن.



۱۳.

(۲ نمره)

$1+1=???$

۱۴.

(۲ نمره)

با توجه به تعداد چوب خط ها، گزینه صحیح را انتخاب کنید.

۱۵.

(۴ نمره)

تعداد گوشه های هر شکل را بنویس.





تدریس خصوصی ریاضی به صورت حضوری و آنلاین با دبیران حرفه ای و پیگیری قدرتمند در مدرسه

۸۸۹۰۴۰۰۲ - ۸۸۹۰۶۹۰۹ - ۲۶۵۷۰۸۱۰ - ۴۴۰۲۵۸۶۰

کد تهران ۰۲۱

۱۶ .

(۴ نمره)

ادامه بده.



۱۷ .

(۴ نمره)

شکل های قبل و بعد را بکش.



۱۸ .

(۴ نمره)

شکل های قبل و بعد را بکش.



۱۹ .

(۴ نمره)

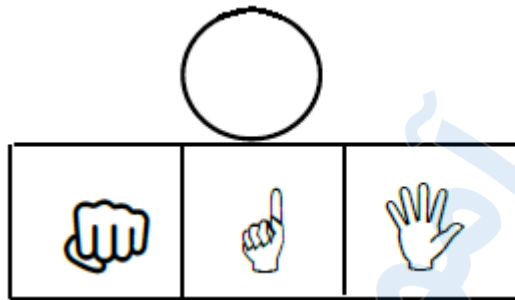


تدریس خصوصی ریاضی به صورت حضوری و آنلاین با دبیران حرفه ای و پیگیری قدرتمند در مدرسه

۸۸۹۰۴۰۰۲ - ۸۸۹۰۶۹۰۹ - ۲۶۵۷۰۸۱۰ - ۴۴۰۲۵۸۶۰

کد تهران ۰۲۱

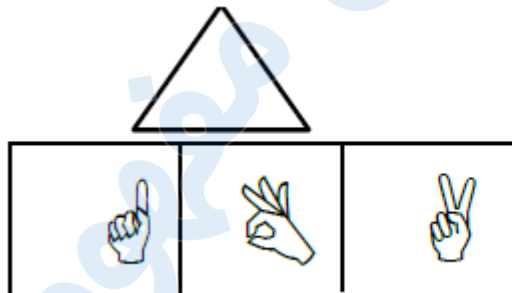
شکل مناسب را وصل کن.



. ۲۰

(۴ نمره)

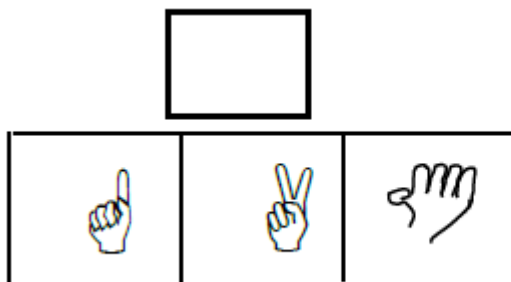
شکل مناسب را وصل کن.



. ۲۱

(۴ نمره)

شکل مناسب را وصل کن.






تدریس خصوصی ریاضی به صورت حضوری و آنلاین با دبیران حرفه ای و پیگیری قدرتمند در مدرسه


۸۸۹۰۴۰۰۲ - ۸۸۹۰۶۹۰۹ - ۲۶۵۷۰۸۱۰ - ۴۴۰۲۵۸۶۰

کد تهران ۰۲۱

۲۲.


(۴ نمره)




به شکل‌ها دو تا  اضافه کن و چوب خط بکش.

۲۳.

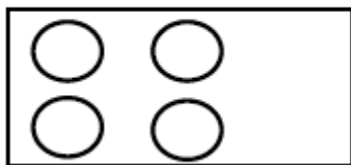
(۴ نمره)



به شکل‌ها دو تا  اضافه کن و چوب خط بکش.

۲۴.

(۴ نمره)



به شکل‌های یکی  اضافه کن و رنگ کن.



تدریس خصوصی ریاضی به صورت حضوری و آنلاین با دبیران حرفه ای و پیگیری قدرتمند در مدرسه

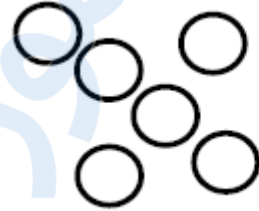
۴۴۰۲۵۸۶۰ - ۲۶۵۷۰۸۱۰ - ۸۸۹۰۶۹۰۹ - ۸۸۹۰۴۰۰۲

کد تهران ۰۲۱

۲۵.

(۴ نمره)

به اندازه چوب خط ها از دایره ها خط بزنید . سپس یک واحد به تعداد باقی مانده اضافه کنید . حاصل چند مربع است؟



۲۶.

(۴ نمره)

به شکل های یکی  اضافه کن و رنگ کن.



۲۷.

(۴ نمره)

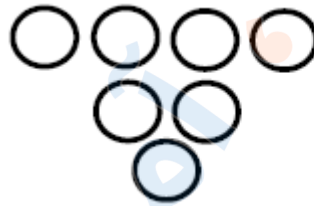


تدریس خصوصی ریاضی به صورت حضوری و آنلاین با دبیران حرفه ای و پیگیری قدرتمند در مدرسه

۴۴۰۲۵۸۶۰ - ۲۶۵۷۰۸۱۰ - ۸۸۹۰۶۹۰۹ - ۸۸۹۰۴۰۰۲

کد تهران ۰۲۱

به اندازه چوب خط ها از دایره ها خط بزنید. سپس یک واحد به تعداد باقی مانده اضافه کنید. حاصل چند مربع است؟



. ۲۸

(۴ نمره)

۴ انگشت از دست راست و ۲ انگشت از دست چپ را باز کرده ایم. حاصل چند است؟

. ۲۹

(۴ نمره)

کدام دسته از شکل های زیر الگو هستند؟

. ۳۰

(۱۲ نمره)

مانند نمونه ادامه دهید:

