

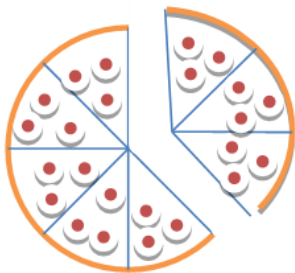


تدریس خصوصی ریاضی به صورت حضوری و آنلاین با دبیران حرفه ای و پیگیری قدرتمند در مدرسه

۸۸۹۰۴۰۰۲ - ۸۸۹۰۶۹۰۹ - ۲۶۵۷۰۸۱۰ - ۴۴۰۲۵۸۶۰

کد تهران ۰۲۱

۱ اگر یک پیتزا را به هشت قسمت مساوی تقسیم کنیم و ۳ قسمت از آن را بخوریم چه کسری از آن را خورده‌ایم؟



ب.  $\frac{3}{8}$

د.  $\frac{5}{8}$

الف.  $\frac{3}{11}$

ج.  $\frac{5}{11}$

پاسخ:

$\frac{3}{8}$



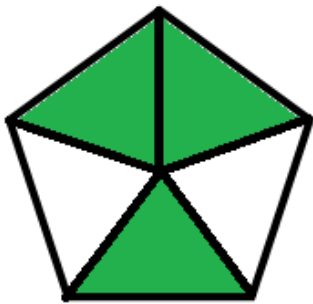
تدریس خصوصی ریاضی به صورت حضوری و آنلاین با دبیران حرفه ای و پیگیری قدرتمند در مدرسه

۴۴۰۲۵۸۶۰ - ۲۶۵۷۰۸۱۰ - ۸۸۹۰۶۹۰۹ - ۸۸۹۰۴۰۰۲

کد تهران ۰۲۱

۲.

شکل داده شده در کدام گزینه کسر  $\frac{3}{5}$  را نمایش می‌دهد؟

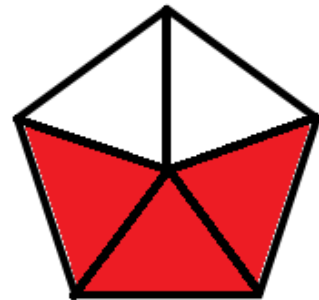


ب.



الف.

د. هر سه گزینه



ج.

پاسخ :

در همه گزینه ها ۳ قسمت از ۵ قسمت مساوی رنگ شده است.

۳. کیانا با دوچرخه‌اش تصادف کرد و زخمی شد او به  $\frac{17}{3}$  واحد خون نیاز دارد. او به چند واحد و چه کسری از یک واحد خون نیاز دارد؟



تدریس خصوصی ریاضی به صورت حضوری و آنلاین با دبیران حرفه ای و پیگیری قدرتمند در مدرسه

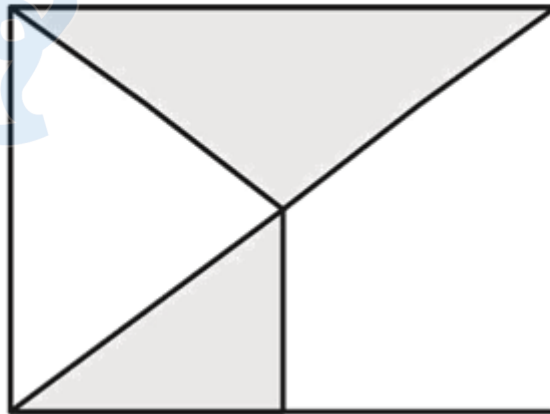
۴۴۰۲۵۸۶۰ - ۲۶۵۷۰۸۱۰ - ۸۸۹۰۶۹۰۹ - ۸۸۹۰۴۰۰۲

کد تهران ۰۲۱

پاسخ :

$$\frac{17}{3} = 5\frac{2}{3}$$

۴. چه کسری از شکل زیر رنگ شده است؟



پاسخ :

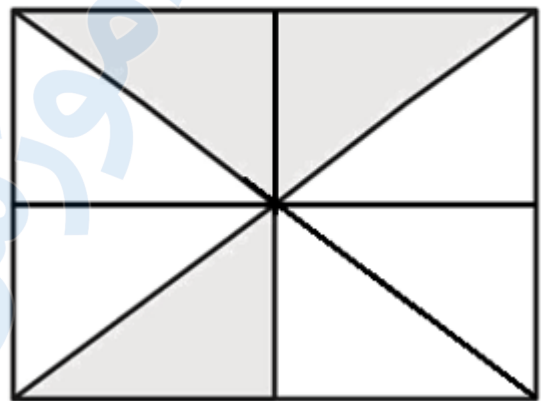


تدریس خصوصی ریاضی به صورت حضوری و آنلاین با دبیران حرفه ای و پیگیری قدرتمند در مدرسه

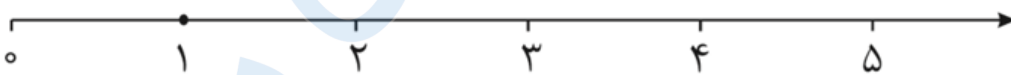
۸۸۹۰۴۰۰۲ - ۸۸۹۰۶۹۰۹ - ۲۶۵۷۰۸۱۰ - ۴۴۰۲۵۸۶۰

کد تهران ۰۲۱

$$\frac{3}{8}$$



مانده به عدد ۵ را روی محور نشان دهید و بگویید آن عدد چند است؟  $\frac{2}{5}$



پاسخ:




تدریس خصوصی ریاضی به صورت حضوری و آنلاین با دبیران حرفه ای و پیگیری قدرتمند در مدرسه

۸۸۹۰۴۰۰۲ - ۸۸۹۰۶۹۰۹ - ۲۶۵۷۰۸۱۰ - ۴۴۰۲۵۸۶۰

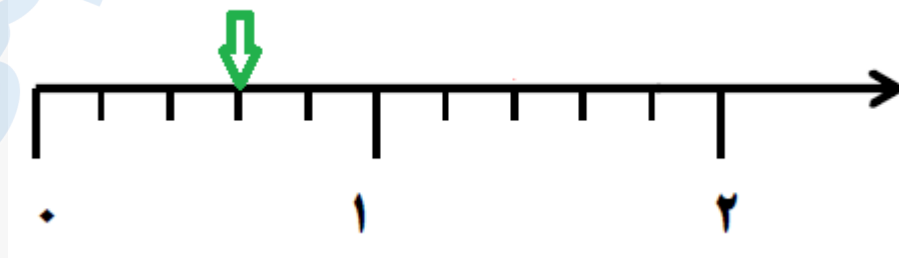
کد تهران ۰۲۱

$$۴ \frac{۳}{۵} = \frac{۲۳}{۵}$$



۶. کسر  $\frac{۳}{۵}$  را روی محور نشان بدهید.

پاسخ:



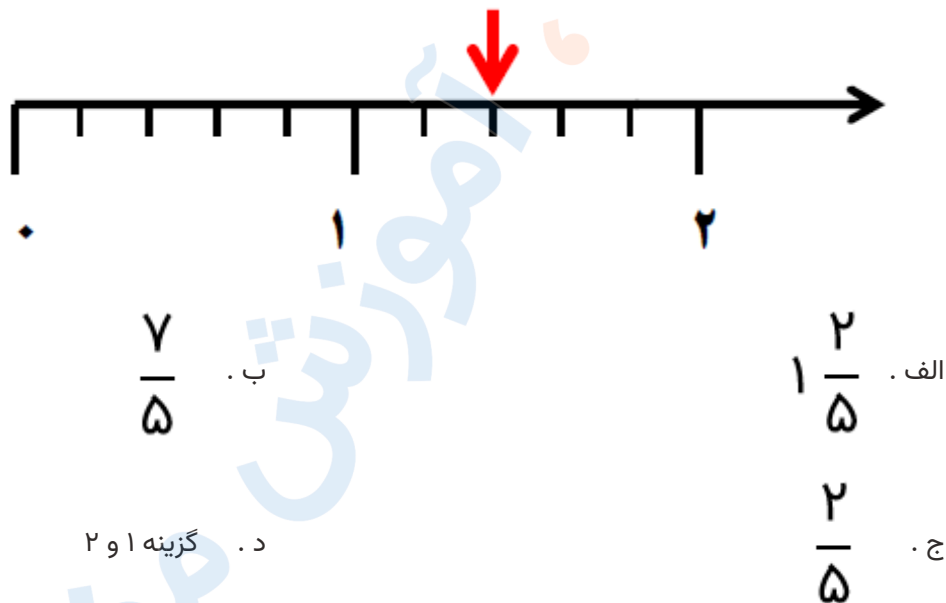


تدریس خصوصی ریاضی به صورت حضوری و آنلاین با دبیران حرفه ای و پیگیری قدرتمند در مدرسه

۸۸۹۰۴۰۰۲ - ۸۸۹۰۶۹۰۹ - ۲۶۵۷۰۸۱۰ - ۴۴۰۲۵۸۶۰

کد تهران ۰۲۱

۷. محور زیر چه کسر یا عدد مخلوطی را نشان می‌دهد؟



پاسخ :

گزینه های ۱ و ۲ درست هستند.

۸. برای کسر  $\frac{3}{5}$  یک شکل مناسب بکشید.

پاسخ :



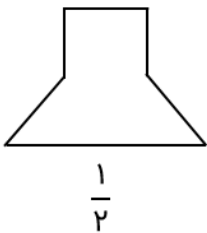
تدریس خصوصی ریاضی به صورت حضوری و آنلاین با دبیران حرفه ای و پیگیری قدرتمند در مدرسه

۸۸۹۰۴۰۰۲ - ۸۸۹۰۶۹۰۹ - ۲۶۵۷۰۸۱۰ - ۴۴۰۲۵۸۶۰

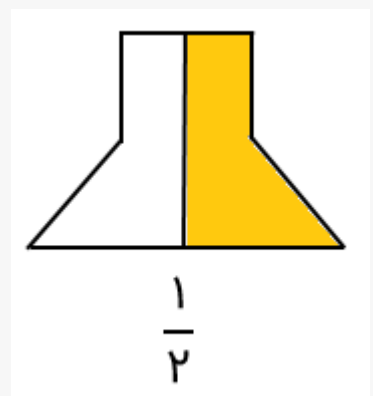
کد تهران ۰۲۱



۹. با تقسیم شکل به قسمت‌های مساوی، کسر داده شده را با رنگ کردن نشان دهید.



پاسخ :



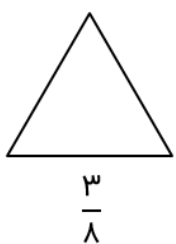


تدریس خصوصی ریاضی به صورت حضوری و آنلاین با دبیران حرفه ای و پیگیری قدرتمند در مدرسه

۴۴۰۲۵۸۶۰ - ۲۶۵۷۰۸۱۰ - ۸۸۹۰۶۹۰۹ - ۸۸۹۰۴۰۰۲

کد تهران ۰۲۱

۱۰ با تقسیم شکل به قسمت‌های مساوی، کسر داده شده را با رنگ کردن نشان دهید.



پاسخ :

