



تدریس خصوصی ریاضی به صورت حضوری و آنلاین با دبیران حرفه ای و پیگیری قدرتمند در مدرسه

۸۸۹۰۴۰۰۲ - ۸۸۹۰۶۹۰۹ - ۲۶۵۷۰۸۱۰ - ۴۴۰۲۵۸۶۰

کد تهران ۰۲۱

۱. باز شده ی عدد زیر کدام گزینه است؟  
 $۸۹۳ =$

ب.  $۸۰۰ + ۳۰ + ۹$

د.  $۸۰۰ + ۹۰ + ۳$

الف.  $۳۰۰ + ۹۰ + ۸$

ج.  $۸۰ + ۹۰ + ۳$

پاسخ :

$$۸۹۳ = ۸۰۰ + ۹۰ + ۳$$

۲. یک ساعت و ۲۰ دقیقه بعد از ساعت ۵ چه ساعتی است ؟

ب.  $۵ : ۴۰$

د.  $۶ : ۲۰$

الف.  $۷ : ۲۰$

ج.  $۶ : ۴۰$

پاسخ :

$$۶ : ۲۰$$

۳. یک ساعت و ۲۰ دقیقه بعد از ساعت ۵ چه ساعتی می شود؟

ب.  $۶ : ۲۰$

د.  $۶ : ۴۰$

الف.  $۵ : ۲۰$

ج.  $۷ : ۲۰$

پاسخ :

$$۶ : ۲۰$$

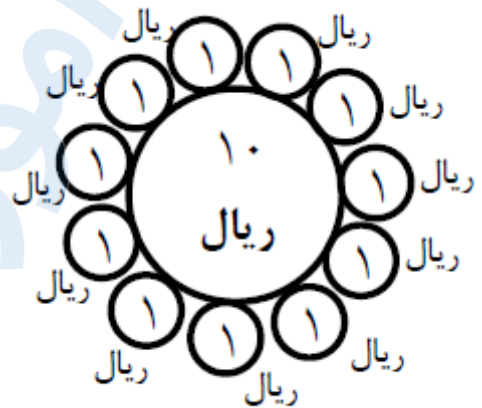


تدریس خصوصی ریاضی به صورت حضوری و آنلاین با دبیران حرفه ای و پیگیری قدرتمند در مدرسه

۸۸۹۰۴۰۰۲ - ۸۸۹۰۶۹۰۹ - ۲۶۵۷۰۸۱۰ - ۴۴۰۲۵۸۶۰

کد تهران ۰۲۱

۴ . ارزش سکه های زیر چند ریال است ؟



الف . ۲۱ ریال

ج . ۳۱ ریال

ب . ۱۱ ریال

د . ۱۸ ریال

پاسخ :

یک سکه ۱۰ ریالی و ۱۱ سکه ۱ ریالی برابر است با ۲۱ ریال.

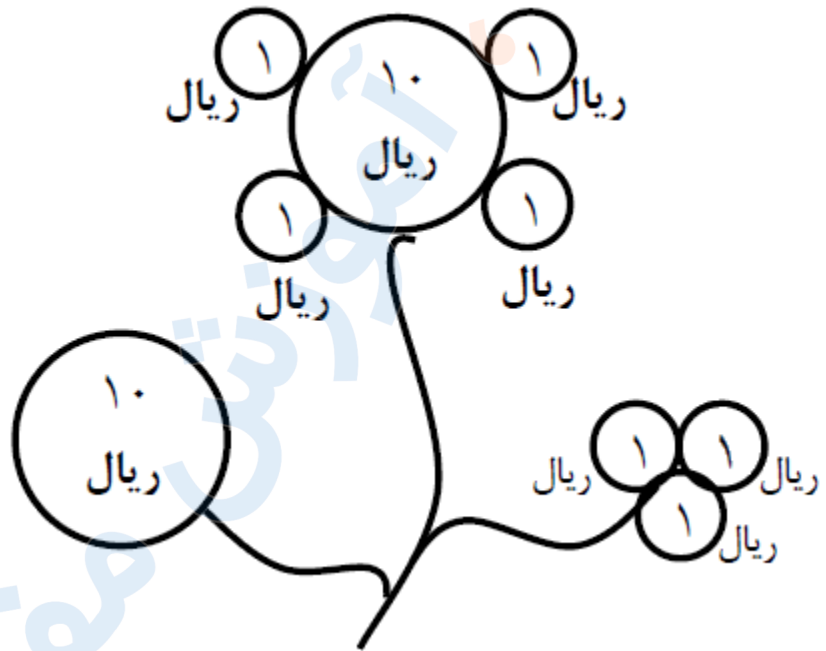


تدریس خصوصی ریاضی به صورت حضوری و آنلاین با دبیران حرفه ای و پیگیری قدرتمند در مدرسه

۴۴۰۲۵۸۶۰ - ۲۶۵۷۰۸۱۰ - ۸۸۹۰۶۹۰۹ - ۸۸۹۰۴۰۰۲

کد تهران ۰۲۱

۵. ارزش سکه های زیر چند ریال است؟



الف . ۲۴ ریال

ج . ۲۷ ریال

ب . ۳۱ ریال

د . ۲۰ ریال

پاسخ :

۲ سکه ۱۰ ریالی و ۷ سکه ۱ ریالی برابر است با ۲۷ سکه ریال.

۶. ۶۰ یعنی ..... صدتایی و ..... یکی و ..... ده تایی.

ب . ۶ صدتایی و ۱ یکی و ۰ ده تایی

د . ۶ صدتایی و ۶ یکی و ۱ ده تایی

الف . ۶ صدتایی و ۰ یکی و ۱ ده تایی

ج . ۱ صدتایی و ۶ یکی و ۰ ده تایی

پاسخ :



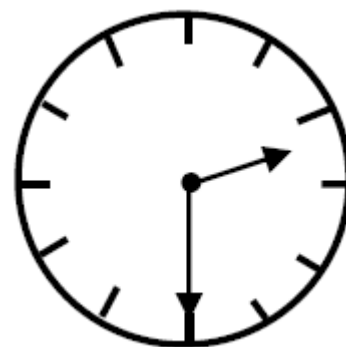
تدریس خصوصی ریاضی به صورت حضوری و آنلاین با دبیران حرفه ای و پیگیری قدرتمند در مدرسه

۴۴۰۲۵۸۶۰ - ۲۶۵۷۰۸۱۰ - ۸۸۹۰۶۹۰۹ - ۸۸۹۰۴۰۰۲

کد تهران ۰۲۱

۶۰۱ یعنی ۶ صدتایی و ۱ یکی و ۰ ده تایی.

۷. ساعت چند است؟



الف . ۱ : ۳۰

ج . ۲ : ۳۰

ب . ۳ : ۳۰

د . ۳

پاسخ :

۲ : ۳۰

۸. ۳ دسته صد تایی و ۵ دسته ده تایی و دو یکی می شود .....

ب . ۳۵۲

د . ۲۳۵

الف . ۵۲۳

ج . ۳۲۵

پاسخ :



تدریس خصوصی ریاضی به صورت حضوری و آنلاین با دبیران حرفه ای و پیگیری قدرتمند در مدرسه

۴۴۰۲۵۸۶۰ - ۲۶۵۷۰۸۱۰ - ۸۸۹۰۶۹۰۹ - ۸۸۹۰۴۰۰۲

کد تهران ۰۲۱

۳ دسته صد تایی و ۵ دسته ده تایی و دو یکی می شود ۳۵۲ .

- ۹ . ۴۵۰ یعنی ..... دسته صد تایی و ..... ده تایی و ..... یکی .
- الف . ۴ دسته صد تایی و ۵ ده تایی و ۰ یکی
- ب . ۵ دسته صد تایی و ۴ ده تایی و ۰ یکی
- ج . ۴ دسته صد تایی و ۵۰ ده تایی و ۰ یکی
- د . ۴ دسته صد تایی و ۰ ده تایی و ۵۰ یکی

پاسخ :

۴۵۰ یعنی ۴ دسته صد تایی و ۵ ده تایی و ۰ یکی .

۱۰ . جای خالی را پر کنید و بگویید عدد داده شده به کدام عدد نزدیکتر است .

$270 \leftarrow 272 \rightarrow \square$

پاسخ :

$270 \leftarrow 272 \rightarrow 280$

به ۲۷۰ نزدیکتر است .