



تدریس خصوصی ریاضی به صورت حضوری و آنلاین با دبیران حرفه ای و پیگیری قدرتمند در مدرسه

۸۸۹۰۴۰۰۲ - ۸۸۹۰۶۹۰۹ - ۲۶۵۷۰۸۱۰ - ۴۴۰۲۵۸۶۰

کد تهران ۰۲۱

۱. شکل مقابل مربوط به کدام یک از عدد های زیر می باشد ؟



ب . ۴۲

د . ۱۸

الف . ۳۶

ج . ۹

پاسخ :

ده تایی	یکی
۳	۶

عدد به رقم: ۳۶

عدد به حروف: سی و شش

۲. چند عدد بین ۶۳ تا ۶۷ وجود دارد؟

ب . ۵

د . ۳

الف . ۲

ج . ۴

پاسخ :



تدریس خصوصی ریاضی به صورت حضوری و آنلاین با دبیران حرفه ای و پیگیری قدرتمند در مدرسه

۴۴۰۲۵۸۶۰ - ۲۶۵۷۰۸۱۰ - ۸۸۹۰۶۹۰۹ - ۸۸۹۰۴۰۰۲

کد تهران ۰۲۱

۶۳ - ۶۴ - ۶۵ - ۶۶ - ۶۷

سه عدد بین ۶۳ تا ۶۷ وجود دارد.

۳. حسین سه دسته ۱۰ تایی مداد رنگی داشت. پدرش به او ۶ مداد رنگی داد. حسین چند مداد رنگی دارد؟

- الف . ۱۶  
ب . ۳۶  
ج . ۱۹  
د . ۲۶

پاسخ :



اکنون حسین ۳۶ مداد رنگی دارد.

۴. جواد ۳۶ شکلات داشت. ۸ تا را به دوستش علی داد. ۵ تای دیگر را به ایمان داد. حالا چند شکلات برای جواد باقی مانده است؟ (به کمک شکل)

- الف . ۲۵  
ب . ۲۳  
ج . ۱۵  
د . ۱۰

پاسخ :



تدریس خصوصی ریاضی به صورت حضوری و آنلاین با دبیران حرفه ای و پیگیری قدرتمند در مدرسه

۸۸۹۰۴۰۰۲ - ۸۸۹۰۶۹۰۹ - ۲۶۵۷۰۸۱۰ - ۴۴۰۲۵۸۶۰

کد تهران ۰۲۱



$$۲۶ - ۸ - ۵ = ۲۲$$



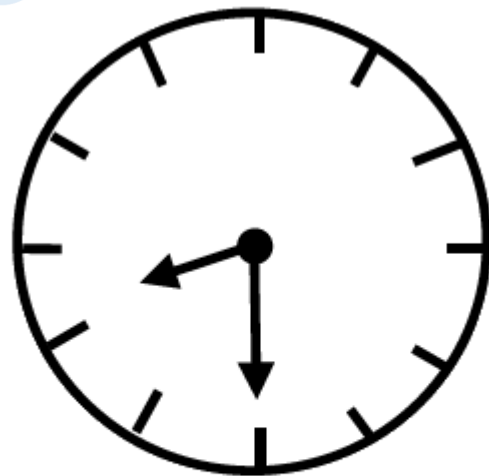
ایمان



علی

۲۳ شکلات برای جواد باقی مانده است.

۵. گزینه مناسب برای جای خالی مقابل را انتخاب کنید.



ساعت از  گذشته است.

ب . ۷

د . ۹

الف . ۶

ج . ۸

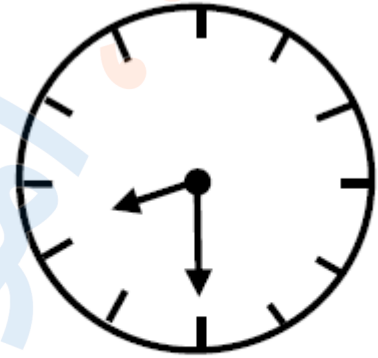
پاسخ :



تدریس خصوصی ریاضی به صورت حضوری و آنلاین با دبیران حرفه ای و پیگیری قدرتمند در مدرسه

۴۴۰۲۵۸۶۰ - ۲۶۵۷۰۸۱۰ - ۸۸۹۰۶۹۰۹ - ۸۸۹۰۴۰۰۲

کد تهران ۰۲۱



ساعت از  گذشته است.

۶. کدام یک از اعداد زیر از ۲۳ کوچکتر و از ۲۱ بزرگتر است؟

ب. ۱۹

الف. ۲۰

د. ۲۴

ج. ۲۲

پاسخ :

۲۲



تدریس خصوصی ریاضی به صورت حضوری و آنلاین با دبیران حرفه ای و پیگیری قدرتمند در مدرسه

۸۸۹۰۴۰۰۲ - ۸۸۹۰۶۹۰۹ - ۲۶۵۷۰۸۱۰ - ۴۴۰۲۵۸۶۰

کد تهران ۰۲۱


۷. شکل زیر شامل چند ده تایی و چند یکی می باشد؟



ب. ۳ ده تایی و شش یکی  
د. ۲ ده تایی و ۵ یکی

الف. ۲ ده تایی و ۱۶ یکی  
ج. ۳ ده تایی و ۴ یکی

پاسخ :



ده تایی	یکی
۳	۶

عدد به رقم : ۳۶

عدد به حروف : سی و شش

۸. تعداد انگشت های دست و پای دو نفر چند تا است؟

ب. ۲۵  
د. ۴۰

الف. ۱۰  
ج. ۲۰



تدریس خصوصی ریاضی به صورت حضوری و آنلاین با دبیران حرفه ای و پیگیری قدرتمند در مدرسه

۸۸۹۰۴۰۰۲ - ۸۸۹۰۶۹۰۹ - ۲۶۵۷۰۸۱۰ - ۴۴۰۲۵۸۶۰

کد تهران ۰۲۱

پاسخ :

۴۰

۹. (<=>) مقایسه کنید.

--	--	--	--	--	--	--	--	--	--	--	--	--	--	--	--	--	--	--	--

--	--	--	--	--	--	--	--	--	--	--	--	--	--	--	--	--	--	--	--

$$۲ + ۴ + ۳$$



$$۵ + ۲ + ۱$$

ب. =

الف . >

ج . <

پاسخ :

--	--	--	--	--	--	--	--	--	--	--	--	--	--	--	--	--	--	--	--

--	--	--	--	--	--	--	--	--	--	--	--	--	--	--	--	--	--	--	--

۹



۸



تدریس خصوصی ریاضی به صورت حضوری و آنلاین با دبیران حرفه ای و پیگیری قدرتمند در مدرسه

۸۸۹۰۴۰۰۲ - ۸۸۹۰۶۹۰۹ - ۲۶۵۷۰۸۱۰ - ۴۴۰۲۵۸۶۰

کد تهران ۰۲۱

۱۰ در بشقاب ششم چند سیب قرار دارد؟



بشقاب اول



بشقاب دوم



بشقاب سوم

پاسخ :

