

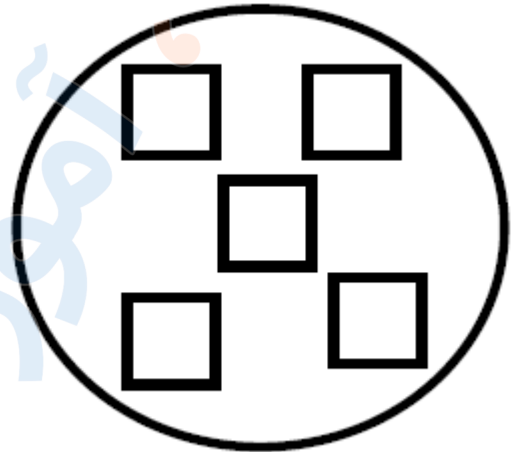


تدریس خصوصی ریاضی به صورت حضوری و آنلاین با دبیران حرفه ای و پیگیری قدرتمند در مدرسه

۸۸۹۰۴۰۰۲ - ۸۸۹۰۶۹۰۹ - ۲۶۵۷۰۸۱۰ - ۴۴۰۲۵۸۶۰

کد تهران ۰۲۱

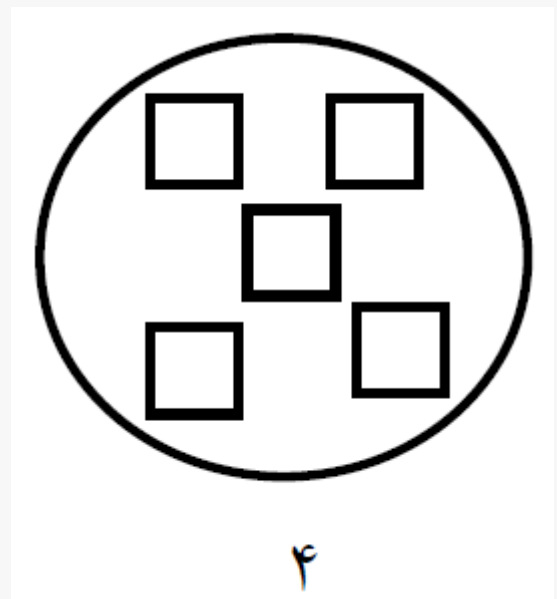
۱. یکی کمتر از عددی که در شکل نشان داده شده است را مشخص کنید.



ب. ۴  
د. ۶

الف. ۳  
ج. ۵

پاسخ:



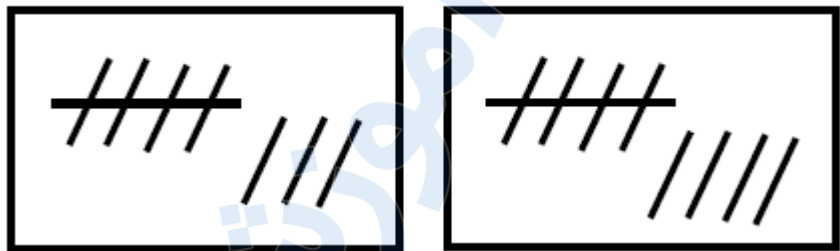


تدریس خصوصی ریاضی به صورت حضوری و آنلاین با دبیران حرفه ای و پیگیری قدرتمند در مدرسه

۴۴۰۲۵۸۶۰ - ۲۶۵۷۰۸۱۰ - ۸۸۹۰۶۹۰۹ - ۸۸۹۰۴۰۰۲

کد تهران ۰۲۱

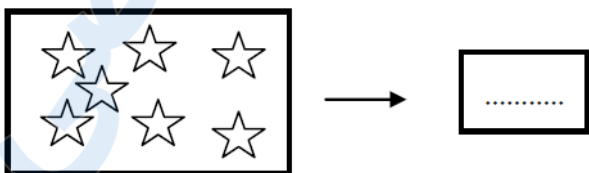
۲. عدد هر قسمت را بنویس و علامت  $<=>$  قرار بده.



پاسخ :



۳. عددی بنویسید که ۴ تا کمتر از ستاره‌ها باشد؟





تدریس خصوصی ریاضی به صورت حضوری و آنلاین با دبیران حرفه ای و پیگیری قدرتمند در مدرسه

۸۸۹۰۴۰۰۲ - ۸۸۹۰۶۹۰۹ - ۲۶۵۷۰۸۱۰ - ۴۴۰۲۵۸۶۰

کد تهران ۰۲۱

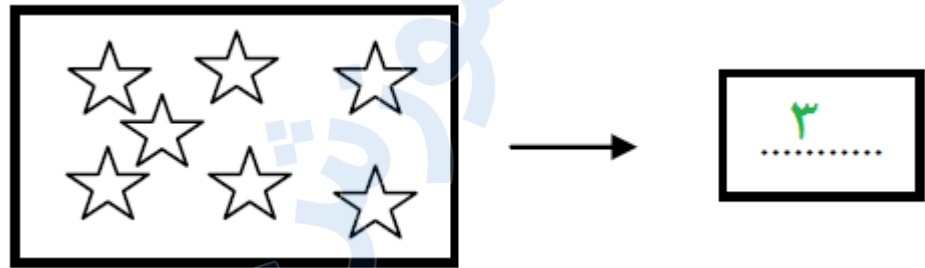
الف . ۲

ب . ۳

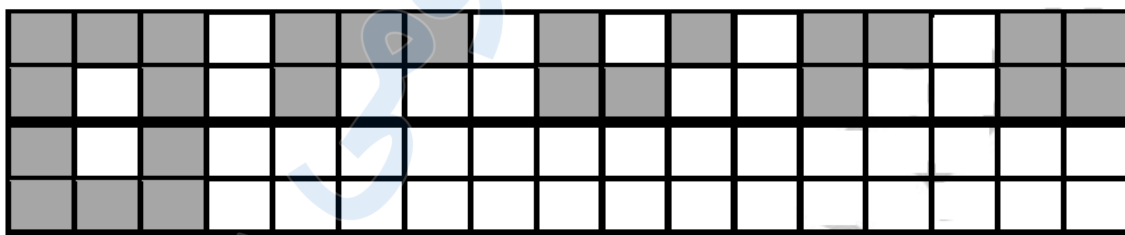
ج . ۴

د . ۵

پاسخ :



۴ مربع‌ها را طوری رنگ کنید که دو نیمه‌ی مثل هم به وجود آید.



پاسخ :

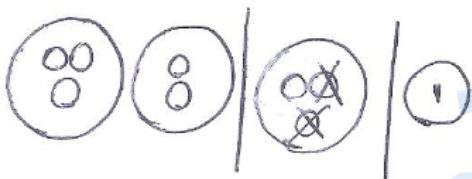


تدریس خصوصی ریاضی به صورت حضوری و آنلاین با دبیران حرفه ای و پیگیری قدرتمند در مدرسه

۸۸۹۰۴۰۰۲ - ۸۸۹۰۶۹۰۹ - ۲۶۵۷۰۸۱۰ - ۴۴۰۲۵۸۶۰

کد تهران ۰۲۱


۵. از هر شکل ۲ تا کم کن و بنویس



پاسخ :



تدریس خصوصی ریاضی به صورت حضوری و آنلاین با دبیران حرفه ای و پیگیری قدرتمند در مدرسه

۸۸۹۰۴۰۰۲ - ۸۸۹۰۶۹۰۹ - ۲۶۵۷۰۸۱۰ - ۴۴۰۲۵۸۶۰

کد تهران ۰۲۱



۶  
حالتی خالی را پر کن.  
۰، ۱، ۲، ۳، ۴، ۵، ۶، ۷

پاسخ:

۰، ۱، ۲، ۳، ۴، ۵، ۶، ۷



تدریس خصوصی ریاضی به صورت حضوری و آنلاین با دبیران حرفه ای و پیگیری قدرتمند در مدرسه

۴۴۰۲۵۸۶۰ - ۲۶۵۷۰۸۱۰ - ۸۸۹۰۶۹۰۹ - ۸۸۹۰۴۰۰۲

کد تهران ۰۲۱

۷ ادامه دهید.



پاسخ:



۸ با روش دلخواه جواب دهید.

$$5 + 2 =$$

پاسخ:

$$5 + 2 = 7$$





تدریس خصوصی ریاضی به صورت حضوری و آنلاین با دبیران حرفه ای و پیگیری قدرتمند در مدرسه

۴۴۰۲۵۸۶۰ - ۲۶۵۷۰۸۱۰ - ۸۸۹۰۶۹۰۹ - ۸۸۹۰۴۰۰۲

کد تهران ۰۲۱

۹.

مقایسه کنید. ( $\leq$ )

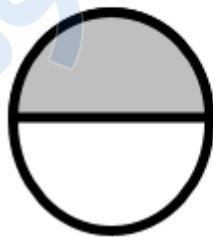
$$1 + 2 \square 2 + 1$$

پاسخ:

$$1 + 2 = 3 \square 2 + 1 = 3$$

۱۰.

خط تقارن را رسم کنید.



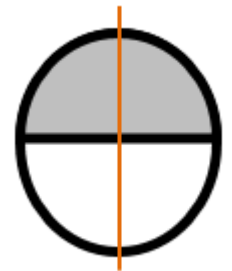
پاسخ:



تدریس خصوصی ریاضی به صورت حضوری و آنلاین با دبیران حرفه ای و پیگیری قدرتمند در مدرسه

۸۸۹۰۴۰۰۲ - ۸۸۹۰۶۹۰۹ - ۲۶۵۷۰۸۱۰ - ۴۴۰۲۵۸۶۰

کد تهران ۰۲۱



مدرسه ، آموزش مفهومی ریاضی