



تدریس خصوصی ریاضی به صورت حضوری و آنلاین با دبیران حرفه ای و پیگیری قدرتمند در مدرسه

۴۴۰۲۵۸۶۰ - ۲۶۵۷۰۸۱۰ - ۸۸۹۰۶۹۰۹ - ۸۸۹۰۴۰۰۲

کد تهران ۰۲۱

۱. در الگوی زیر به جای مربع چه عددی قرار می گیرد؟

، ۵۰ ، ۶۰ ، ۷۰

الف . ۳۰

ب . ۴۰

ج . ۶۰

د . ۲۰

پاسخ :

۴۰ ، ۵۰ ، ۶۰ ، ۷۰
-۱۰ -۱۰ -۱۰

۲. ۵ تا سیب بود. علی ۳ سیب خورد. چند سیب باقی مانده است؟ (به کمک شکل)

الف . ۲

ب . ۱

ج . ۴

د . ۸

پاسخ :



تدریس خصوصی ریاضی به صورت حضوری و آنلاین با دبیران حرفه ای و پیگیری قدرتمند در مدرسه

۸۸۹۰۴۰۰۲ - ۸۸۹۰۶۹۰۹ - ۲۶۵۷۰۸۱۰ - ۴۴۰۲۵۸۶۰

کد تهران ۰۲۱



$$5 - 3 = \boxed{2}$$

۲ سیب باقی مانده است.

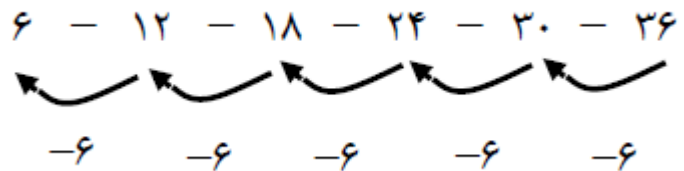
۳. در الگوی مقابل عدد قبل از ۲۴ چه عددی است؟



- ب . ۱۶
- د . ۱۸

- الف . ۱۷
- ج . ۲۰

پاسخ :





تدریس خصوصی ریاضی به صورت حضوری و آنلاین با دبیران حرفه ای و پیگیری قدرتمند در مدرسه

۴۴۰۲۵۸۶۰ - ۲۶۵۷۰۸۱۰ - ۸۸۹۰۶۹۰۹ - ۸۸۹۰۴۰۰۲

کد تهران ۰۲۱

۴ . ۴ تا کمتر از مثلث ها چند تا است؟




ب . ۶
د . ۱۴

الف . ۱۰
ج . ۴

پاسخ :

$$۱۰ - ۴ = ۶$$

۵ . جای خالی را پر کن.



اندازه مداد از سنجاق بیشتر و از سنجاق کمتر است.

پاسخ :

اندازه مداد از ۸ سنجاق بیشتر و از ۹ سنجاق کمتر است.



تدریس خصوصی ریاضی به صورت حضوری و آنلاین با دبیران حرفه ای و پیگیری قدرتمند در مدرسه

۸۸۹۰۴۰۰۲ - ۸۸۹۰۶۹۰۹ - ۲۶۵۷۰۸۱۰ - ۴۴۰۲۵۸۶۰

کد تهران ۰۲۱

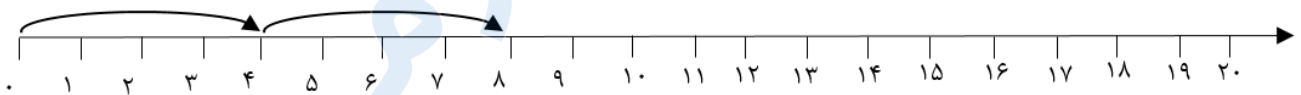
مانند الگو ادامه بده.



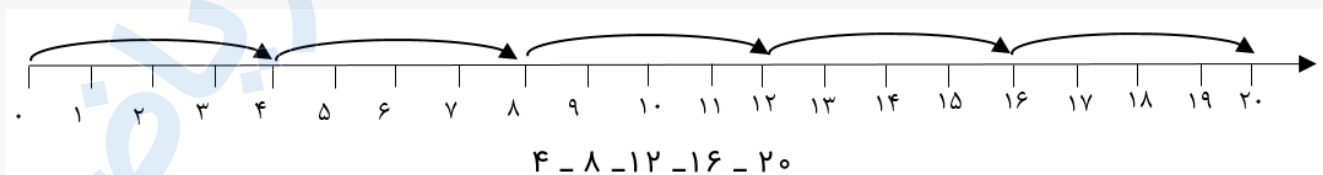
پاسخ :



مانند نمونه روی محور ادامه بده.



پاسخ :



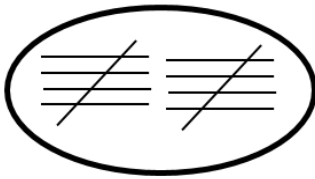


تدریس خصوصی ریاضی به صورت حضوری و آنلاین با دبیران حرفه ای و پیگیری قدرتمند در مدرسه

۴۴۰۲۵۸۶۰ - ۲۶۵۷۰۸۱۰ - ۸۸۹۰۶۹۰۹ - ۸۸۹۰۴۰۰۲

کد تهران ۰۲۱

مانند نمونه برای عدد داده شده، چوب خط بکشید.



= ۱۰

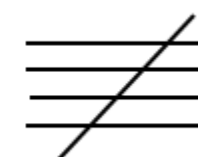


= ۲۵

پاسخ:



۲۵ =



عدد مربوط به شکل داده شده را به حروف نوشته و در جدول ارزش مکانی نشان دهید.

۱۰	۱۰	۱۰	۱۰
۱۰	۱۰	۱۰	

ده تایی	یکی

حروف:

پاسخ:



تدریس خصوصی ریاضی به صورت حضوری و آنلاین با دبیران حرفه ای و پیگیری قدرتمند در مدرسه

۸۸۹۰۴۰۰۲ - ۸۸۹۰۶۹۰۹ - ۲۶۵۷۰۸۱۰ - ۴۴۰۲۵۸۶۰

کد تهران ۰۲۱

دهتایی	یکی
۷	۰

حروف: هفتاد

۱۰ با کمک شکل‌ها جواب دهید.

$$۵۰ - ۲۰ =$$



پاسخ:

$$۵۰ - ۲۰ = ۳۰$$

