



تدریس خصوصی ریاضی به صورت حضوری و آنلاین با دبیران حرفه ای و پیگیری قدرتمند در مدرسه

۸۸۹۰۴۰۰۲ - ۸۸۹۰۶۹۰۹ - ۲۶۵۷۰۸۱۰ - ۴۴۰۲۵۸۶۰

کد تهران ۰۲۱

۱. عدد مناسب برای جاهای خالی مشخص شده با ( الف ) و ( ب ) کدام یک از گزینه های زیر هستند ؟

۹

۵

الف

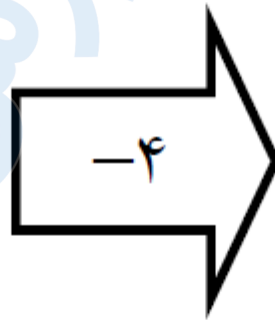
۱

۱۴

۱۰

۲۰

ب



ب . الف : ۰ ، ب : ۱۷

د . الف : ۳ ، ب : ۲۴

الف . الف : ۷ ، ب : ۱۵

ج . الف : ۵ ، ب : ۱۶

پاسخ :



تدریس خصوصی ریاضی به صورت حضوری و آنلاین با دبیران حرفه ای و پیگیری قدرتمند در مدرسه

۸۸۹۰۴۰۰۲ - ۸۸۹۰۶۹۰۹ - ۲۶۵۷۰۸۱۰ - ۴۴۰۲۵۸۶۰

کد تهران ۰۲۱

۹

۵

۵

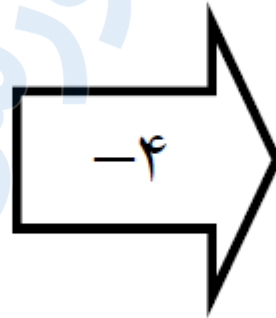
۱

۱۴

۱۰

۲۰

۱۶



۲. اگر همه ی عدد های دو رقمی را که رقم های یکان آن ۵ و دهگان آن ۸ و ۴ باشد را بنویسیم، اختلاف بزرگ ترین و کوچک ترین عددی که نوشته ایم چند می شود؟

ب. ۴۰

الف. ۴۵

د. ۸۵

ج. ۸۰

پاسخ :



تدریس خصوصی ریاضی به صورت حضوری و آنلاین با دبیران حرفه ای و پیگیری قدرتمند در مدرسه

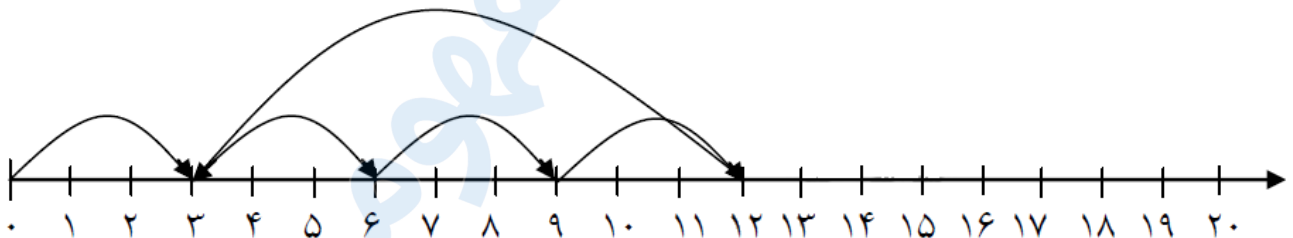
۸۸۹۰۴۰۰۲ - ۸۸۹۰۶۹۰۹ - ۲۶۵۷۰۸۱۰ - ۴۴۰۲۵۸۶۰

کد تهران ۰۲۱

دهگان	یکان		
۴	۰	→	۴۰
۴	۵	→	۴۵
۸	۰	→	۸۰
۸	۵	→	۸۵

$$۸۵ - ۴۰ = ۴۵$$

۳ محور مقابل مربوط به کدام یک از جمع و تفریق های زیر است ؟



الف .  $۳ + ۶ + ۹ + ۱۲ = ۳۰$

ب .  $۱۲ - ۹ = ۳$

ج .  $۳ + ۳ + ۳ + ۳ - ۹ = ۳$

د .  $۳ + ۳ + ۳ + ۳ = ۱۲$

پاسخ :

$$۳ + ۳ + ۳ + ۳ - ۹ = ۳$$

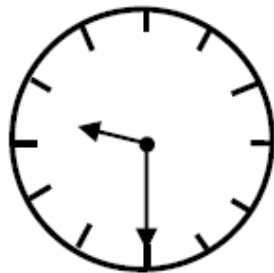


تدریس خصوصی ریاضی به صورت حضوری و آنلاین با دبیران حرفه ای و پیگیری قدرتمند در مدرسه

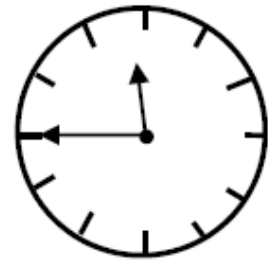
۴۴۰۲۵۸۶۰ - ۲۶۵۷۰۸۱۰ - ۸۸۹۰۶۹۰۹ - ۸۸۹۰۴۰۰۲

کد تهران ۰۲۱

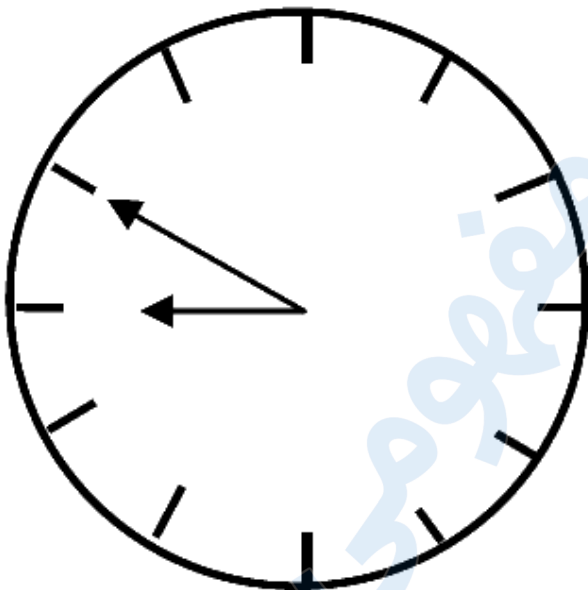
۴. کدام یک از گزینه ها ساعت زیر را نشان می دهد؟  
(۱۰ دقیقه مانده به ۹)



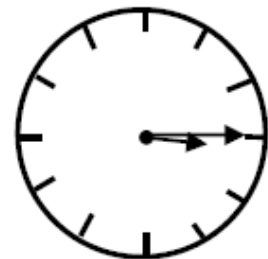
ب.



الف.



د.



ج.

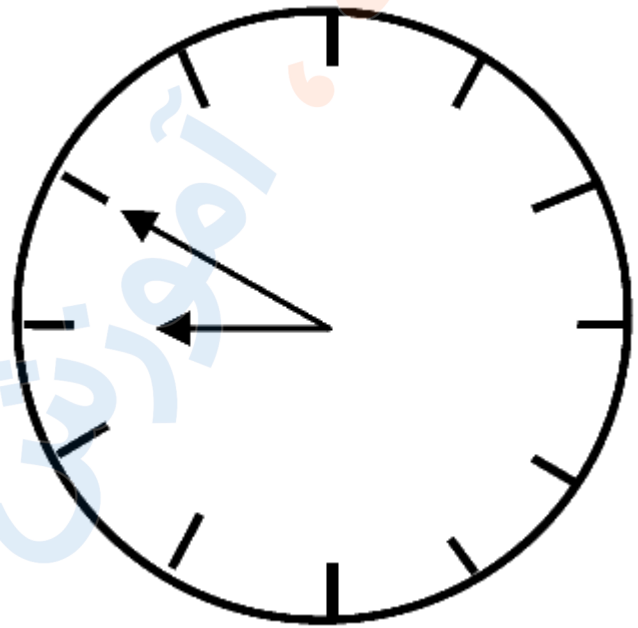
پاسخ:



تدریس خصوصی ریاضی به صورت حضوری و آنلاین با دبیران حرفه ای و پیگیری قدرتمند در مدرسه

۸۸۹۰۴۰۰۲ - ۸۸۹۰۶۹۰۹ - ۲۶۵۷۰۸۱۰ - ۴۴۰۲۵۸۶۰

کد تهران ۰۲۱



۵. سه دسته ده تایی و ۸ یکی به همراه ۵ یکی دیگر می شود .....

ب. ۳۸

د. ۵۱

الف. ۲۵

ج. ۴۳

پاسخ:

$$۳۰ + ۸ + ۵ = ۴۳$$



تدریس خصوصی ریاضی به صورت حضوری و آنلاین با دبیران حرفه ای و پیگیری قدرتمند در مدرسه

۴۴۰۲۵۸۶۰ - ۲۶۵۷۰۸۱۰ - ۸۸۹۰۶۹۰۹ - ۸۸۹۰۴۰۰۲

کد تهران ۰۲۱

۶. برنامه ورزشی اولین دوره علی به این صورت می باشد.  
۳ روز ورزش، ۱ روز استراحت، دوباره ۴ روز ورزش، ۱ روز استراحت  
امروز روز نهم ماه است. اگر علی دیروز ورزش را شروع کرده باشد، این دوره را در چندمین روز ماه تمام می کند؟

- الف . ۱۵  
ب . ۱۹  
ج . ۲۰  
د . ۱۷

پاسخ :

امروز نهم است ← دیروز هشتم بوده است.

$$\textcircled{8} + 3 + 1 + 4 + 1 = \textcircled{17}$$

ورزش استراحت ورزش

۷. در الگوی عددی زیر عدد بعدی کدام است ؟

۱، ۴، ۹، ۱۶،

- الف . ۲۰  
ب . ۲۵  
ج . ۱۹  
د . ۱۷

پاسخ :

$$1 + 3 = 4$$

$$4 + 5 = 9$$

$$9 + 7 = 16$$



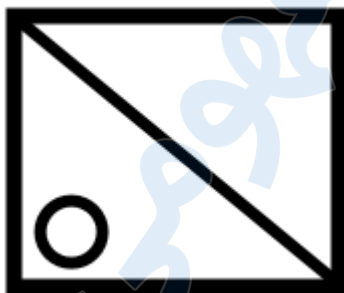
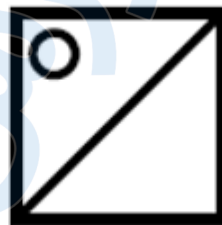
تدریس خصوصی ریاضی به صورت حضوری و آنلاین با دبیران حرفه ای و پیگیری قدرتمند در مدرسه

۴۴۰۲۵۸۶۰ - ۲۶۵۷۰۸۱۰ - ۸۸۹۰۶۹۰۹ - ۸۸۹۰۴۰۰۲

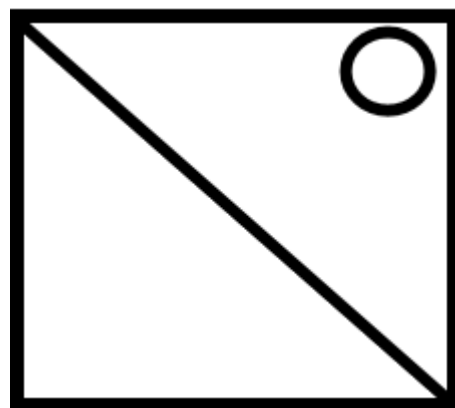
کد تهران ۰۲۱

۱۶۰۹۰۲۵

۸. شکل بعدی در الگوی زیر کدام است؟



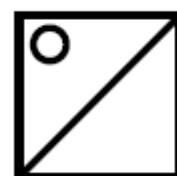
ب.



الف.



د.



ج.

پاسخ:



تدریس خصوصی ریاضی به صورت حضوری و آنلاین با دبیران حرفه ای و پیگیری قدرتمند در مدرسه

۴۴۰۲۵۸۶۰ - ۲۶۵۷۰۸۱۰ - ۸۸۹۰۶۹۰۹ - ۸۸۹۰۴۰۰۲

کد تهران ۰۲۱



۹. عددهای دو رقمی را که یکان آنها ۲ یا ۴ یا ۶ و دهگان آنها ۳ یا ۷ باشد، بنویسید و آنها را از کوچک به بزرگ مرتب کنید.

پاسخ:

۳۲ - ۳۴ - ۳۶ - ۷۲ - ۷۴ - ۷۶

۱۰

با ارقام ۱، ۵، ۴، ۵ چند عدد در رتبی می توان نوشت؟

پاسخ:





تدریس خصوصی ریاضی به صورت حضوری و آنلاین با دبیران حرفه ای و پیگیری قدرتمند در مدرسه

۸۸۹۰۴۰۰۲ - ۸۸۹۰۶۹۰۹ - ۲۶۵۷۰۸۱۰ - ۴۴۰۲۵۸۶۰

کد تهران ۰۲۱

۱۰ - ۱۴ - ۱۵ - ۲۰ - ۲۱ - ۲۵ - ۵۰ - ۵۱ - ۵۴

اگر تکراری را هم ننویسد بهتر است.  
۱۱ - ۲۴ - ۵۵