

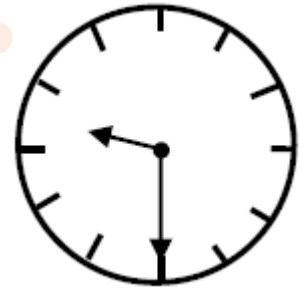


تدریس خصوصی ریاضی به صورت حضوری و آنلاین با دبیران حرفه ای و پیگیری قدرتمند در مدرسه

۴۴۰۲۵۸۶۰ - ۲۶۵۷۰۸۱۰ - ۸۸۹۰۶۹۰۹ - ۸۸۹۰۴۰۰۲

کد تهران ۰۲۱

۱. ساعت زیر چه زمانی را نشان می دهد؟



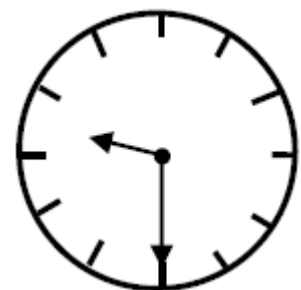
ب. ۶:۴۵

د. ۹:۳۰

الف. ۹:۴۵

ج. ۶:۳۰

پاسخ:



۹:۳۰

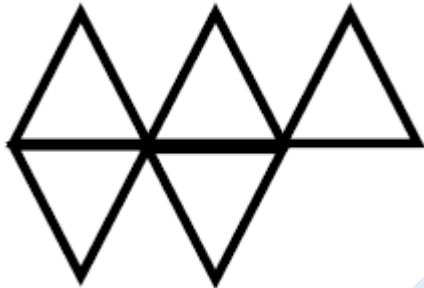


تدریس خصوصی ریاضی به صورت حضوری و آنلاین با دبیران حرفه ای و پیگیری قدرتمند در مدرسه

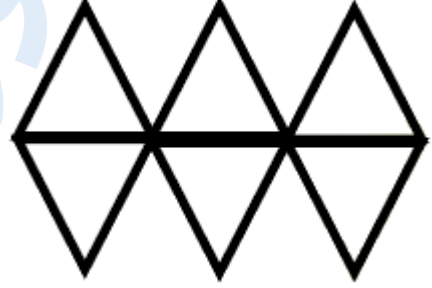
۸۸۹۰۴۰۰۲ - ۸۸۹۰۶۹۰۹ - ۲۶۵۷۰۸۱۰ - ۴۴۰۲۵۸۶۰

کد تهران ۰۲۱


۲. الگوی بعدی در شکل زیر کدام است؟



ب .



الف .

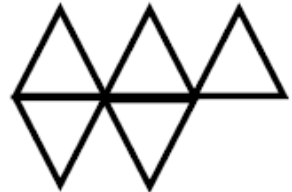


د .



ج .

پاسخ :



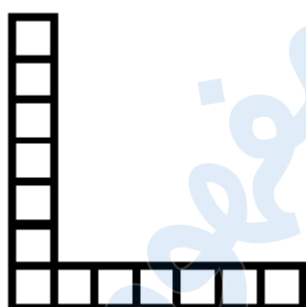
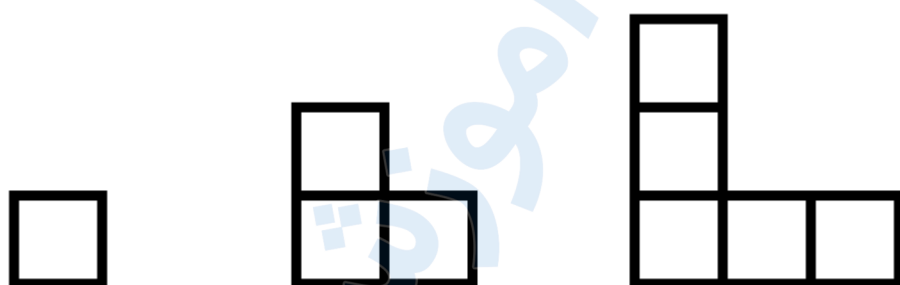


تدریس خصوصی ریاضی به صورت حضوری و آنلاین با دبیران حرفه ای و پیگیری قدرتمند در مدرسه

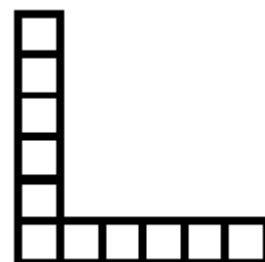
۴۴۰۲۵۸۶۰ - ۲۶۵۷۰۸۱۰ - ۸۸۹۰۶۹۰۹ - ۸۸۹۰۴۰۰۲

کد تهران ۰۲۱

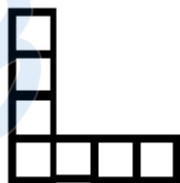
۳. اگر الگوی زیر در هر روز یک مرحله جلو برود، بعد از یک هفته چه شکلی می شود؟



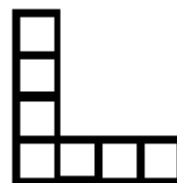
ب.



الف.



د.



ج.

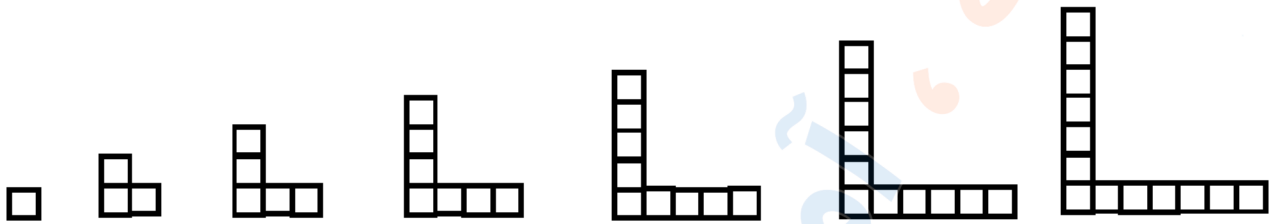
پاسخ:



تدریس خصوصی ریاضی به صورت حضوری و آنلاین با دبیران حرفه ای و پیگیری قدرتمند در مدرسه

۸۸۹۰۴۰۰۲ - ۸۸۹۰۶۹۰۹ - ۲۶۵۷۰۸۱۰ - ۴۴۰۲۵۸۶۰

کد تهران ۰۲۱



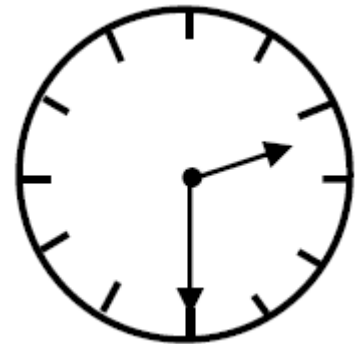
۴ . اگر ضلع های یک مستطیل برابر شوند، چه شکلی حاصل می شود ؟

- الف . مستطیل
ب . مثلث
ج . دایره
د . مربع

پاسخ :

مربع

۵ . عقربه بزرگ چند دقیقه حرکت کند تا ساعت ۳ شود ؟



ب . ۱۵ دقیقه

الف . ۳۰ دقیقه



تدریس خصوصی ریاضی به صورت حضوری و آنلاین با دبیران حرفه ای و پیگیری قدرتمند در مدرسه

۴۴۰۲۵۸۶۰ - ۲۶۵۷۰۸۱۰ - ۸۸۹۰۶۹۰۹ - ۸۸۹۰۴۰۰۲

کد تهران ۰۲۱


د . ۴۰ دقیقه

ج . ۴۵ دقیقه

پاسخ :

۳۰ دقیقه مانده به ۳

۶ . ساعت مناسب شکل را انتخاب کنید.



ب . ۱:۳۰

د . ۲:۳۰

الف . ۴:۱۵

ج . ۶:۱۰

پاسخ :

ساعت ۱ و ۳۰ دقیقه است.




تدریس خصوصی ریاضی به صورت حضوری و آنلاین با دبیران حرفه ای و پیگیری قدرتمند در مدرسه

۸۸۹۰۴۰۰۲ - ۸۸۹۰۶۹۰۹ - ۲۶۵۷۰۸۱۰ - ۴۴۰۲۵۸۶۰

کد تهران ۰۲۱

۷. ساعت مناسب شکل را انتخاب کنید.



الف . ۸:۱۰

ج . ۶:۲۰

ب . ۷:۴۵

د . ۲:۴۰

پاسخ :

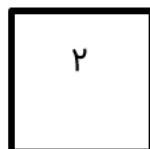
ساعت ۸ و ۱۰ دقیقه است.

۸. شباهت و اختلاف دو شکل را بنویسید.

شباهت:

اختلاف:

پاسخ :





تدریس خصوصی ریاضی به صورت حضوری و آنلاین با دبیران حرفه ای و پیگیری قدرتمند در مدرسه

۴۴۰۲۵۸۶۰ - ۲۶۵۷۰۸۱۰ - ۸۸۹۰۶۹۰۹ - ۸۸۹۰۴۰۰۲

کد تهران ۰۲۱

شباهت: هر دو چهار ضلع دارند.

اختلاف: در شکل ۱ اندازه ضلعها برابر نیست اما در شکل ۲ برابر است.

۹. عقربه‌ها رسم کنید.



یک ربع مانده به ساعت ۵

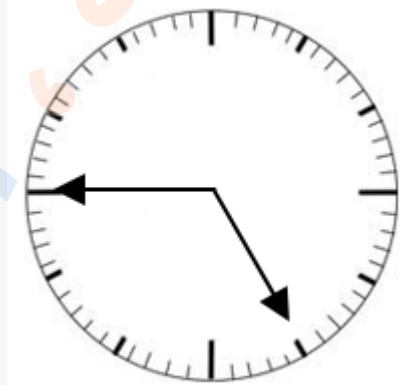
پاسخ :



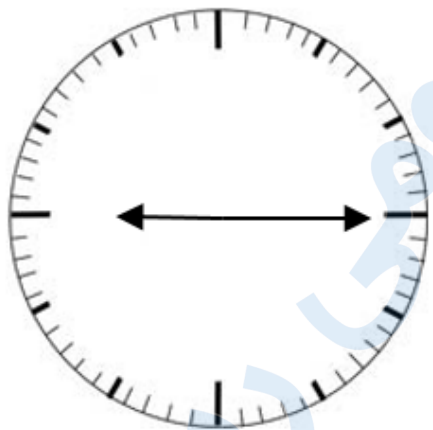
تدریس خصوصی ریاضی به صورت حضوری و آنلاین با دبیران حرفه ای و پیگیری قدرتمند در مدرسه

۴۴۰۲۵۸۶۰ - ۲۶۵۷۰۸۱۰ - ۸۸۹۰۶۹۰۹ - ۸۸۹۰۴۰۰۲

کد تهران ۰۲۱



ساعت نشان داده شده را بیابید.



ب . ۹ و نیم
د . گزینه ۱ و ۳

الف . ۹ و ۱۵ دقیقه
ج . ۹ و ربع

پاسخ :



تدریس خصوصی ریاضی به صورت حضوری و آنلاین با دبیران حرفه ای و پیگیری قدرتمند در مدرسه

۴۴۰۲۵۸۶۰ - ۲۶۵۷۰۸۱۰ - ۸۸۹۰۶۹۰۹ - ۸۸۹۰۴۰۰۲

کد تهران ۰۲۱

ساعت: ۹ و ۱۵ دقیقه یا ۹ و ربع

مدرسه
آموزش مفهومی ریاضی