



تدریس خصوصی ریاضی به صورت حضوری و آنلاین با دبیران حرفه ای و پیگیری قدرتمند در مدرسه

۸۸۹۰۴۰۰۲ - ۸۸۹۰۶۹۰۹ - ۲۶۵۷۰۸۱۰ - ۴۴۰۲۵۸۶۰

کد تهران ۰۲۱

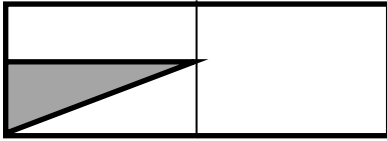
۱- با توجه به شکل و دسته بندی مناسب، جاهای خالی را پر کنید.

$$\begin{array}{cccccc} \bigcirc & \bigcirc & \bigcirc & \bigcirc & \bigcirc & \bigcirc \\ \bigcirc & \bigcirc & \bigcirc & \bigcirc & \bigcirc & \bigcirc \\ \hline _ & \times & _ & = & _ \end{array}$$

$$\begin{array}{cccccc} \bigcirc & \bigcirc & \bigcirc & \bigcirc & \bigcirc & \bigcirc \\ \bigcirc & \bigcirc & \bigcirc & \bigcirc & \bigcirc & \bigcirc \\ \hline _ & \times & _ & = & _ \end{array}$$

$$\begin{array}{cccccc} \bigcirc & \bigcirc & \bigcirc & \bigcirc & \bigcirc & \bigcirc \\ \bigcirc & \bigcirc & \bigcirc & \bigcirc & \bigcirc & \bigcirc \\ \hline _ & \times & _ & = & _ \end{array}$$

۲- چه کسری از شکل رنگی است؟



۳- مقایسه کنید. ($<=>$)

$$\frac{2}{5} \square \frac{2}{7}$$

$$\frac{4}{9} \square \frac{2}{9}$$

$$\frac{5}{5} \square \frac{2}{4}$$

$$\frac{1}{3} \text{ واحد بعد از عدد } 4 \square \frac{1}{5} \text{ واحد بعد از عدد } 4$$

$$4 \text{ کیلوگرم و } 200 \text{ گرم} = _ \text{ گرم}$$

$$3 \text{ متر و } 12 \text{ سانتی متر} = _ \text{ سانتی متر}$$

$$1275 \text{ کیلومتر} = _ \text{ متر و } _ \text{ کیلومتر}$$

۵- عدد را در جدول ارزش مکانی نشان داده، با رقم بنویسید.

چهار هزار و دو

۶- روی محور نشان دهید.

$$5 \times 2 =$$

$$12 \div 3 =$$



تدریس خصوصی ریاضی به صورت حضوری و آنلاین با دبیران حرفه ای و پیگیری قدرتمند در مدرسه

۸۸۹۰۴۰۰۲ - ۸۸۹۰۶۹۰۹ - ۲۶۵۷۰۸۱۰ - ۴۴۰۲۵۸۶۰

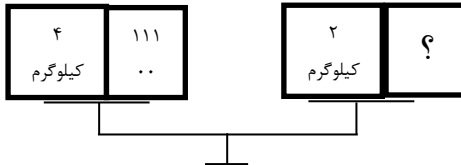
کد تهران ۰۲۱

۷- با کمک شکل دو کسر مساوی بنویسید.

$$\frac{2}{5} = \frac{\quad}{\quad} = \frac{\quad}{\quad}$$

۸- ساعت ۱۱ قبل از ظهر شروع به حرکت کرده و پس از ۶ ساعت به مقصد می رسید. ساعت رسیدن به مقصد را به دو صورت بنویسید.

۹- جعبه روبرو چند گرم است؟


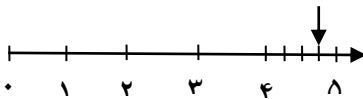


۱۰- همه اعداد سه رقمی را بنویسید که یکان آنها ۲ یا ۵، دهگان آنها ۱ یا ۶ و صدگان آنها ۴ باشد.

۱۱- جاهای خالی را با \square ، Δ ، \circ پر کنید.

$$(\circ + \Delta) \times \square = (\times \circ) + (\times \quad)$$

۱۲- عدد داده شده روی محور را روی محور نشان دهید.



۱۳- امروز یکشنبه، چهارمین روز ماه است، تا آخر ماه چه روزهایی یکشنبه است؟

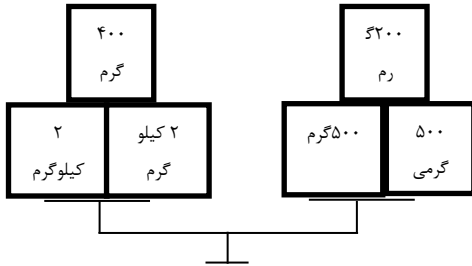


تدریس خصوصی ریاضی به صورت حضوری و آنلاین با دبیران حرفه ای و پیگیری قدرتمند در مدرسه

۴۴۰۲۵۸۶۰ - ۲۶۵۷۰۸۱۰ - ۸۸۹۰۶۹۰۹ - ۸۸۹۰۴۰۰۲

کد تهران ۰۲۱

۱۴- در یک کفه ترازو ۲ وزنه ۲ کیلوگرمی و ۱ وزنه ۴۰۰ گرمی داریم. در کفه دیگر ۲ وزنه ۵۰۰ گرمی و ۱ وزنه ۲۰۰ گرمی داریم کفه اول چقدر از کفه دوم سنگین تر است؟ (می توانید با رسم شکل جواب دهید).



۱۵- ۴ کارتون داریم. در هر کارتون ۳ جعبه است و در هر جعبه ۶ قوطی قرار دارد. اگر بخواهیم قوطی ها را در بسته های ۸ تایی بگذاریم، چند بسته خواهیم داشت؟