

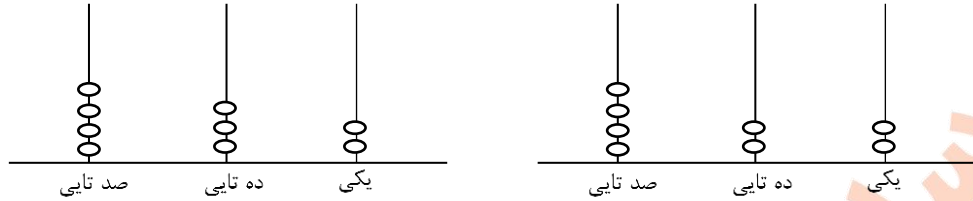


تدریس خصوصی ریاضی به صورت حضوری و آنلاین با دبیران حرفه ای و پیگیری قدرتمند در مدرسه

۸۸۹۰۴۰۰۲ - ۸۸۹۰۶۹۰۹ - ۲۶۵۷۰۸۱۰ - ۴۴۰۲۵۸۶۰

کد تهران ۰۲۱

۱- اعداد مربوط به چرتکه ها را به حروف نوشته و مقایسه کنید.



حروف



حروف

۲- با روش دلخواه جواب دهید.

$$۱۰۰ + ۲۰۰ + ۳۰۰ + ۵۰ + ۵۰ =$$

$$۴۰۰ - ۱۰۰ + ۲۰۰ + ۵۰ =$$

۳- با روش دلخواه جمع و تفریق ها را انجام دهید.

$$\begin{array}{r} ۲۵۳ \\ +۴۴۷ \\ \hline \end{array}$$

$$\begin{array}{r} ۶۲۲ \\ -۳۳۴ \\ \hline \end{array}$$

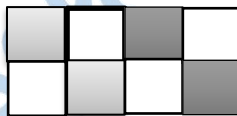
۴- طبق الگوی داده شده ادامه دهید.

$$۱۰۰ - ۱۵۰ - ۲۰۰ - \_\_\_ - \_\_\_ - \_\_\_ - \_\_\_ - \_\_\_$$

$$\_\_\_ - \_\_\_ - \_\_\_ - \_\_\_ - ۴۸۸ - ۴۸۹ - ۴۹۰$$

۵- الف - جاهای خالی را پر کنید.

... قسمت از ... قسمت مساوی رنگ شده است.



ب - شکل را کامل کنید. (۳ نمره)

۱ قسمت از ۳ قسمت مساوی رنگ شده است.



۶- مقدار پول نشان داده شده را در جدول ارزش مکانی نشان داده و به حروف بنویسید.





تدریس خصوصی ریاضی به صورت حضوری و آنلاین با دبیران حرفه ای و پیگیری قدرتمند در مدرسه

۸۸۹۰۴۰۰۲ - ۸۸۹۰۶۹۰۹ - ۲۶۵۷۰۸۱۰ - ۴۴۰۲۵۸۶۰

کد تهران ۰۲۱

۷- قیمت یک کیک، ۲۵۰ تومان است. قیمت شکلات ۲۷۵ تومان از آن بیشتر است، قیمت آبنبات ۱۷۵ تومان از آن کمتر است، قیمت شکلات و آبنبات چند تومان است؟

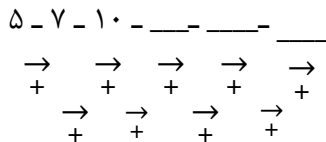
۸- دانش آموزی روز اول ۲۵ صفحه و روز دوم ۳۴ صفحه از کتابی را خوانده است. اگر کتاب او ۱۷۰ صفحه داشته باشد، چند صفحه از کتاب را نخوانده است؟

۹- با توجه به شکل، جاهای خالی را پر کنید.



..... قسمت از ..... قسمت مساوی رنگ شده است.

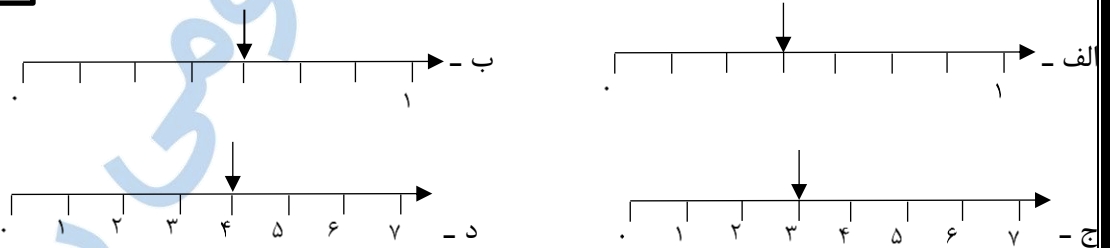
۱۰- طبق الگو ادامه دهید.



۱۱- با توجه به شکل، کدام محور، قسمت های رنگی را درست نشان می دهد؟



..... قسمت از ..... قسمت مساوی یک مستطیل رنگ شده است.



۱۲- سارا یک شکلات به قیمت ۱۵۰ تومان، دو بسته آدامس که قیمت هر کدام ۱۰۰ تومان است خریداری کرد و یک اسکناس ۵۰۰ تومانی به فروشنده داد. فروشنده چقدر به اوس پس داده است؟

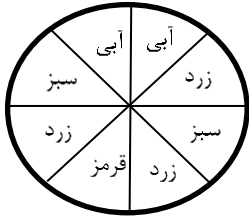


تدریس خصوصی ریاضی به صورت حضوری و آنلاین با دبیران حرفه ای و پیگیری قدرتمند در مدرسه

۸۸۹۰۴۰۰۲ - ۸۸۹۰۶۹۰۹ - ۲۶۵۷۰۸۱۰ - ۴۴۰۲۵۸۶۰

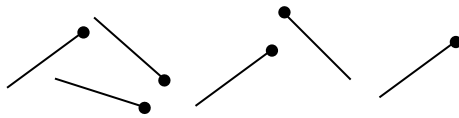
کد تهران ۰۲۱

۱۳- شانس ایستادن عقربه روی کدام رنگ های چرخنده برابر است؟ شانس ایستادن عقربه روی کدام رنگ های چرخنده از همه کمتر است؟ شانس ایستادن عقربه روی کدام رنگ های چرخنده از همه بیشتر است؟



۱۴- دانش آموزی با چوب کبریت های زیر یک چند ضلعی می سازد. او چند چوب کبریت دیگر لازم دارد تا شکلی بسازد که

۱۵ گوشه داشته باشد؟ (با راهنمایی)



۱۵- سارا و مریم دو کیک یکسان خریدند. سارا کیک خود را ۳ قسمت کرد و ۲ قسمت آن را خورد. مریم کیک خود را ۴ قسمت کرد و ۳ قسمت آن را خورد. کدام یک کیک بیشتری خورده است؟ (با کمک شکل)