



تدریس خصوصی ریاضی به صورت حضوری و آنلاین با دبیران حرفه ای و پیگیری قدرتمند در مدرسه

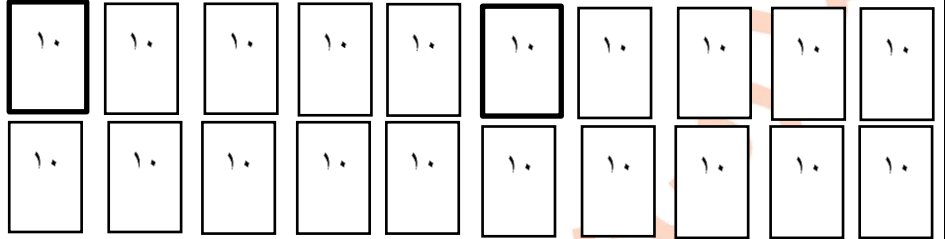
۸۸۹۰۴۰۰۲ - ۸۸۹۰۶۹۰۹ - ۲۶۵۷۰۸۱۰ - ۴۴۰۲۵۸۶۰

کد تهران ۰۲۱

۹ - با کمک شکل ها جواب دهید.

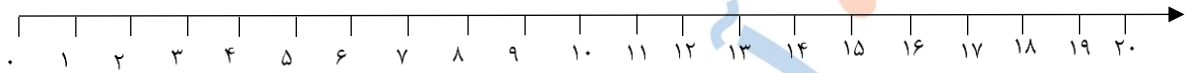
۲۰ + ۱۰ + ۳۰ =

۵۰ - ۲۰ =



۱۰ - با کمک محور جواب دهید.

۱۲ + ۴ + ۳ =

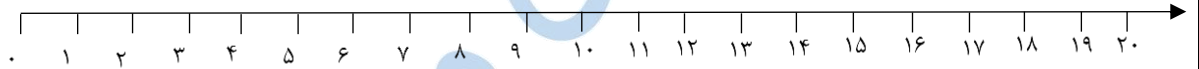


۱۱ - عددهای قبلی را با روش دلخواه بنویس

..... - ۱۵ - ۱۸ - ۲۱

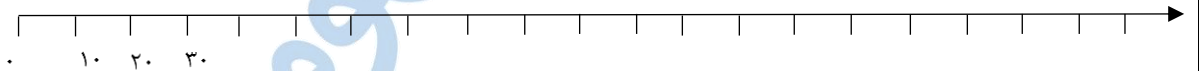
۱۲ - روی محور نشان داده و جواب دهید.

۵ + ۷ - ۲ + ۴ =



۱۳ - روی محور نشان دهید و جواب را بنویسید. (محور را کامل کنید)

۶۰ + ۲۰ - ۳۰ =



۱۴ - ۱۵ سیب در سبد است. مریم و زهرا هر کدام ۳ سیب بر می دارند. سارا ۴ سیب به سبد اضافه می کند. اکنون چند سیب در سبد است؟

۱۵ - در بشقاب ششم چند سیب قرار دارد؟



بشقاب اول



بشقاب دوم



بشقاب سوم