



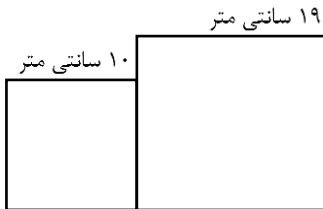
تدریس خصوصی ریاضی به صورت حضوری و آنلاین با دبیران حرفه ای و پیگیری قدرتمند در مدرسه

۸۸۹۰۴۰۰۲ - ۸۸۹۰۶۹۰۹ - ۲۶۵۷۰۸۱۰ - ۴۴۰۲۵۸۶۰

کد تهران ۰۲۱

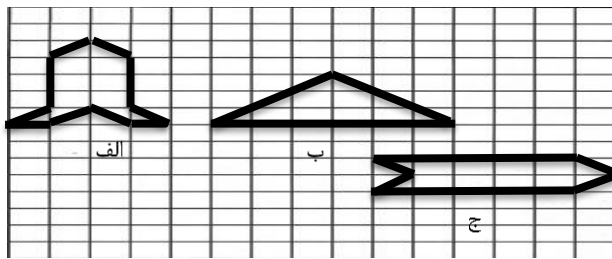
۱- یک گونیا شیشه ای توپر چند زاویه تند دارد؟

۲- محیط شکل رو به رو را بدست آورید؟ (شکل ها مربع هستند)

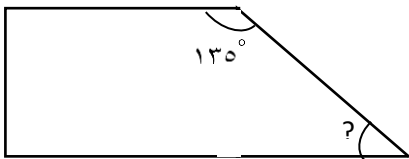


۳- مجموع طول و عرض متوازی الاضلاع برابر با ۸ سانتی متر است، محیط این متوازی الاضلاع چقدر است؟

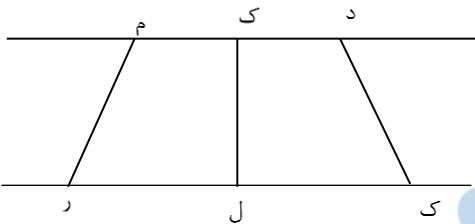
۴- کدام شکل ها مساحت برابر دارند؟ نام ببرید.



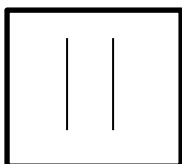
۵- اندازه زاویه خواسته شده در شکل مقابل را بدست آورید.



۶- پاره خطی که فاصله دو خط موازی زیر را نشان می دهد نام ببرید.



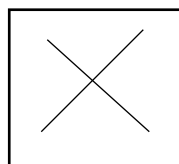
۷- در چند شکل از اشکال زیر دو خط موازی دیده نمی شود؟ نام ببرید؟



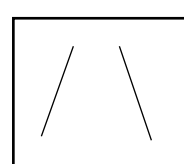
د



ج



ب



الف



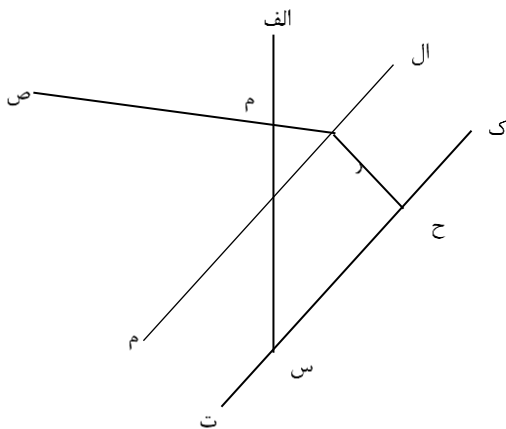
تدریس خصوصی ریاضی به صورت حضوری و آنلاین با دبیران حرفه ای و پیگیری قدرتمند در مدرسه

۸۸۹۰۴۰۰۲ - ۸۸۹۰۶۹۰۹ - ۲۶۵۷۰۸۱۰ - ۴۴۰۲۵۸۶۰

کد تهران ۰۲۱

۸- برای آنکه با کمک گونیا خطی رسم کنید که با خط (م ن) موازی باشد، چند بار از گونیا استفاده می کنیم؟

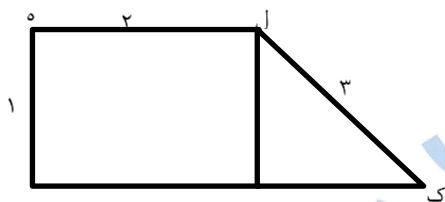
۹- فاصله راس یک مثلث از ضلع مقابل به آن چه نامیده می شود؟



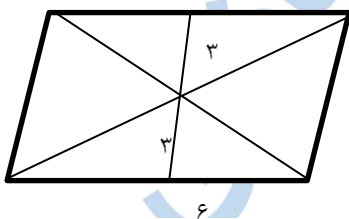
۱۰- بنابر شکل زیر فاصله دو خط موازی را نام ببرید.

۱۱- از یک نقطه خارج یک خط چند عمود می توان بر آن رسم کرد؟

۱۲- در شکل مقابل فاصله نقطه ک از پاره خط (ه ن) پنج برابر فاصله دو ضلع موازی است. محیط شکل را بدست آورید.



۱۳- در شکل مساحت هاشور خورده چند سانتی متر مربع است؟



تدریس حضوری ریاضی در تهران و آنلاین سراسر کشور ۰۲۱۴۴۰۲۵۸۶۰ و ۰۲۱۸۸۹۰۴۰۰۲

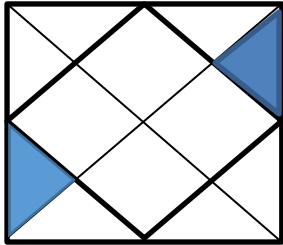
مدرسه ، آینده را تصاحب کن



تدریس خصوصی ریاضی به صورت حضوری و آنلاین با دبیران حرفه ای و پیگیری قدرتمند در مدرسه

۸۸۹۰۴۰۰۲ - ۸۸۹۰۶۹۰۹ - ۲۶۵۷۰۸۱۰ - ۴۴۰۲۵۸۶۰

کد تهران ۰۲۱



۱۴- چه کسری از شکل هاشور خورده است؟

۱۵- مشاحت شکل زیر را بدست آورید؟

