



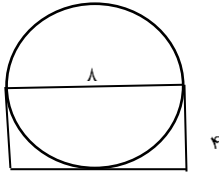
تدریس خصوصی ریاضی به صورت حضوری و آنلاین با دبیران حرفه ای و پیگیری قدرتمند در مدرسه

۸۸۹۰۴۰۰۲ - ۸۸۹۰۶۹۰۹ - ۲۶۵۷۰۸۱۰ - ۴۴۰۲۵۸۶۰

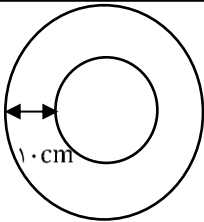
کد تهران ۰۲۱

۱- محیط ربع دایره ای که شعاع آن ۱۰ متر است چند متر می باشد.

۲- قطر دایره ای رو به رو ۸ سانتی متر است. محیط مستطیل چقدر می باشد.

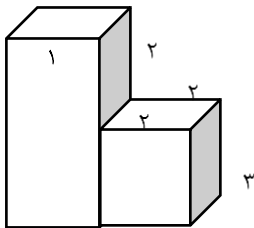


۳- دو دایره هم مرکز مطابق شکل داریم. اختلاف محیط های این دو دایره تقریباً برابر چیست؟



۴- حجم مکعبی به ابعاد ۱۶، ۱۲، ۸ سانتی متر چند برابر حجم مکعبی به ضلع ۴ سانتی متر است؟

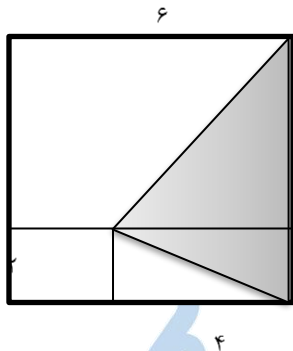
۵- گنجایش یک مکعب به ابعاد ۱۰ سانتی متر برابر با چند لیتر است؟



۶- حجم شکل مقابل را بنویسید؟

۷- برای ساختن مکعب مستطیلی به ابعاد ۲، ۴، ۴ چند قطعه مکعب با ضلع ۱ باید به شکل زیر اضافه شود.

۸- در شکل ضلع مربعه کوچک ۲ و ضلع مربع بزرگ ۶ متر است. مساحت مثلث رنگی چند متر مربع است؟





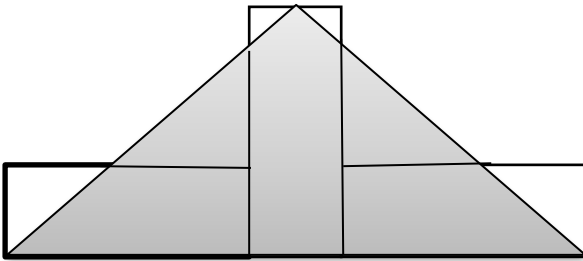
تدریس خصوصی ریاضی به صورت حضوری و آنلاین با دبیران حرفه ای و پیگیری قدرتمند در مدرسه

۸۸۹۰۴۰۰۲ - ۸۸۹۰۶۹۰۹ - ۲۶۵۷۰۸۱۰ - ۴۴۰۲۵۸۶۰

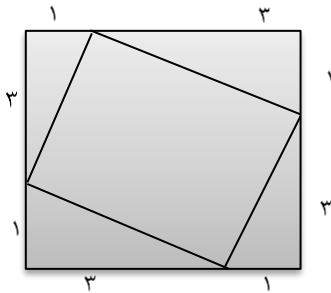
کد تهران ۰۲۱

۹- برای پر کردن کارتنی به ابعاد ۳، ۲۰، ۴۰ با مکعب های توپر هم اندازه حداقل چند مکعب لازم است؟

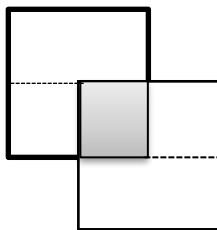
۱۰- سه مستطیل با طول و عرض ۱۲ و ۶ سانتی متر در کنار هم قرار گرفته اند. مساحت مثلث رنگی کدام است؟



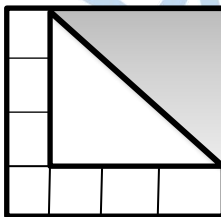
۱۱- نسبت مساحت مربع خارجی به مساحت مربع داخلی چقدر است؟



۱۲- مساحت قسمت هاشور خورده چه کسری از شکل است؟



۱۳- مساحت مثلث هاشور خورده کدام است. اگر مساحت هر یک از ۷ مربع کوچک برابر ۴ باشد و دو مثلث برابر باشند؟



تدریس خصوصی ریاضی و مشاوره تحصیلی ۰۲۱-۴۴۰۲۵۸۶۰ و ۰۲۱-۸۸۹۰۴۰۰۲

مدرسه ، آینده را تصاحب کن



تدریس خصوصی ریاضی به صورت حضوری و آنلاین با دبیران حرفه ای و پیگیری قدرتمند در مدرسه

۸۸۹۰۴۰۰۲ - ۸۸۹۰۶۹۰۹ - ۲۶۵۷۰۸۱۰ - ۴۴۰۲۵۸۶۰

کد تهران ۰۲۱

۱۴ - تفاوت حجم مکعبی بر ضلع ۵ سانتی متر با حجم شکل رو به رو که ابعاد آن بر حسب سانتی متر است را بدست آورید.

تدریس خصوصی ریاضی و مشاوره تحصیلی ۰۲۱-۴۴۰۲۵۸۶۰ و ۰۲۱-۸۸۹۰۴۰۰۲

مدرسه ، آینده را تصاحب کن