



تدریس خصوصی ریاضی به صورت حضوری و آنلاین با دبیران حرفه ای و پیگیری قدرتمند در مدرسه

۸۸۹۰۴۰۰۲ - ۸۸۹۰۶۹۰۹ - ۲۶۵۷۰۸۱۰ - ۴۴۰۲۵۸۶۰

کد تهران ۰۲۱

۱- الف - در جدول ارزش مکانی نشان دهید.

دو هزار و بیست و پنج

ب - به حروف بنویسید.

۴۱۰۷

۲- مقایسه کنید

هزار و دو  دو هزار و یک  ۱۰۰۳  ۱۰۲۳  ۴۲۷۰  ۴۷۲۰  ۹۰۲۰  ۹۸۵

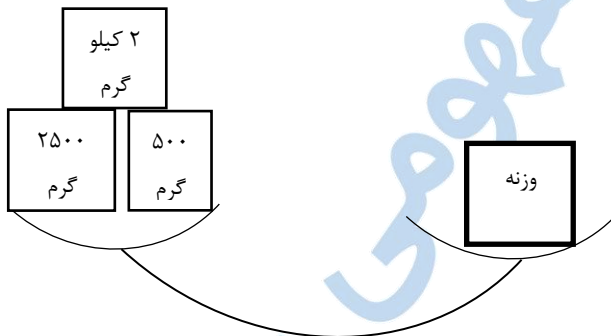
۳- با کمک شکل نشان دهید.

$$۳ \times ۴ = ۴ \times ۳$$

۴- ۴ گلدان داریم. در هر گلدان ۵ گل قرار دارد. هر گل ۳ گلبرگ دارد. تعداد گلبرگ های گل ها چند عدد است؟


۵- ۲ بسته ۱۰ تایی شکلات را بین ۴ نفر پخش می کنیم. به هر کس چند شکلات می رسد؟

۶- وزنه چه عددی را نشان می دهد؟



۷- مسیری، ۴ کیلومتر و ۴۰۰ متر است. ۳۲۰۰ متر را طی کردیم. چقدر از مسیر باقی مانده است؟

۸- با توجه به علامت، جاهای خالی را پر کنید.



تدریس خصوصی ریاضی و مشاوره تحصیلی ۰۲۱-۴۴۰۲۵۸۶۰ و ۰۲۱-۸۸۹۰۴۰۰۲

مدرسه ، آینده را تصاحب کن

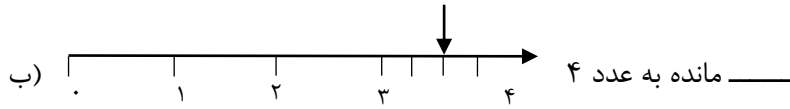


تدریس خصوصی ریاضی به صورت حضوری و آنلاین با دبیران حرفه ای و پیگیری قدرتمند در مدرسه

۸۸۹۰۴۰۰۲ - ۸۸۹۰۶۹۰۹ - ۲۶۵۷۰۸۱۰ - ۴۴۰۲۵۸۶۰

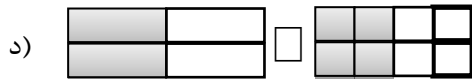
کد تهران ۰۲۱

الف)



۹ - مقایسه کنید.

الف)  $\frac{2}{7} \square \frac{2}{5}$  ب)  $\frac{1}{8} \square \frac{4}{8}$  ج) دو سوم  $\square \frac{2}{3}$



۱۰ - تقسیم را انجام داده و خارج قسمت و باقی مانده آن را مشخص کنید.

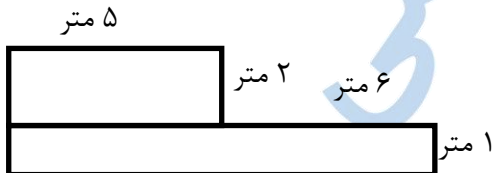
$29 \overline{) 4}$

باقی مانده:

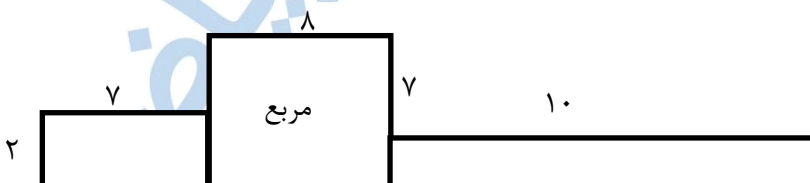
خارج قسمت:

۱۱ - ۶ بسته دو تایی مداد را بین ۵ نفر تقسیم می کنیم. به هر نفر چند مداد می رسد؟ اگر ۱ نفر برود، چند مداد اضافه می ماند؟

۱۲ - دور باغچه ای به شکل روبرو را نرده کشیدیم. چند متر نرده لازم است؟



۱۳ - مساحت شکل چند سانتی متر مربع است؟





تدریس خصوصی ریاضی به صورت حضوری و آنلاین با دبیران حرفه ای و پیگیری قدرتمند در مدرسه

۴۴۰۲۵۸۶۰ - ۲۶۵۷۰۸۱۰ - ۸۸۹۰۶۹۰۹ - ۸۸۹۰۴۰۰۲

کد تهران ۰۲۱

۱۴- در شکل رو به رو، اگر بخواهیم مساحت باقی مانده ۹ سانتی متر مربع باشد، طول ضلع قسمت جدا شده، چند سانتی متر مربع است؟



۱۵- با توجه به جدول فراوانی، نمودار دایره ای بکشید.

نوع شکلات	سفید	قهوه ای	نارنگیلی	فندقی
تعداد	۲۰	۳۰	۱۵	۱۵