



تدریس خصوصی ریاضی به صورت حضوری و آنلاین با دبیران حرفه ای و پیگیری قدرتمند در مدرسه

۸۸۹۰۴۰۰۲ - ۸۸۹۰۶۹۰۹ - ۲۶۵۷۰۸۱۰ - ۴۴۰۲۵۸۶۰

کد تهران ۰۲۱

۱- الف - در جدول ارزش مکانی نمایش دهید.

صدتایی	ده تایی	یکی

هفتصد و چهل و دو

ب - به حروف بنویسید. ۳۲۵

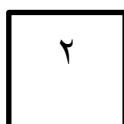
۲- مقایسه کنید.

نهد و نه نهد و نود ۳۲۲ ۳۴۲ ۱۰۷ ۷۰۱ ۱۵۲ ۱۲۵

۳- قد مریم ۱۲۵ سانتی متر است. سارا از او ۱۲ سانتی متر بلندتر است. قد سارا چند سانتی متر است؟

۴- فاطمه ۲۷۵ تومان دارد، زهرا ۱۲۰ تومان از او کمتر دارد. زهرا چند تومان دارد؟

۵- شباهت و اختلاف دو شکل را بنویسید.



شباهت:

اختلاف:

۶- ۱۲۵ میلی متر = _____ سانتی متر و _____ میلی متر

۷ سانتی متر و ۴ میلی متر = _____ میلی متر

۷- الف - چقدر از شکل رنگ شده است؟



_____ قسمت از _____ قسمت مساوی

ب - شکل مناسبی را رسم کن



۱ قسمت از ۳ قسمت مساوی رنگ شده است.

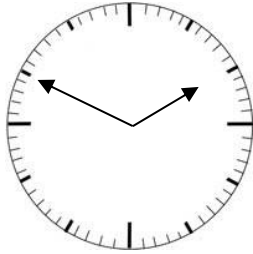


تدریس خصوصی ریاضی به صورت حضوری و آنلاین با دبیران حرفه ای و پیگیری قدرتمند در مدرسه

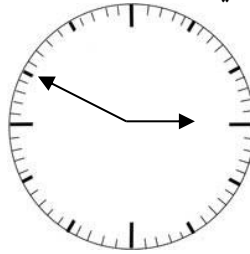
۸۸۹۰۴۰۰۲ - ۸۸۹۰۶۹۰۹ - ۲۶۵۷۰۸۱۰ - ۴۴۰۲۵۸۶۰

کد تهران ۰۲۱

۸- ساعت های نشان داده شده را بنویسید یا عقربه رسم کنید



ساعت:



ساعت:



یک ربع مانده به ساعت ۵

۹- ساعت ۴ و نیم است. ۲ ساعت و نیم بعد، ساعت چند است؟

۱۰- با توجه به جدول فراوانی، نمودار رسم کنید.

تاریخی	تخیلی	علمی	داستانی	کتاب های مدرسه
۸	۱۵	۲۰	۱۰	تعداد

۱۱- با کمک حدس و آزمایش جواب دهید.

$$۷۲ + \square = ۹۰$$

$$۵۳ - \square = ۲۷$$

۱۲- با کمک رقم های ۰ - ۳ - ۲ عددهای سه رقمی بنویسید. اختلاف بزرگترین و کوچکترین عدد را حساب کنید.



تدریس خصوصی ریاضی به صورت حضوری و آنلاین با دبیران حرفه ای و پیگیری قدرتمند در مدرسه

۸۸۹۰۴۰۰۲ - ۸۸۹۰۶۹۰۹ - ۲۶۵۷۰۸۱۰ - ۴۴۰۲۵۸۶۰

کد تهران ۰۲۱

۱۳- در کدام کیسه احتمال بیرون آمدن مهره سفید بیشتر است؟

کیسه اول: ۲۰ مهره سیاه و سفید - ۴ مهره سفید.

کیسه دوم: ۱۰ مهره سیاه و سفید - ۴ مهره سفید.

۱۴- ساعت ۱۵:۲ است. ۳ ساعت و ۲۰ دقیقه قبل، ساعت چند بوده است؟

۱۵- امروز روز دوم از ماه و یکشنبه است. تا آخر ماه، روزهای سه شنبه، چه تاریخ هایی خواهند بود؟