

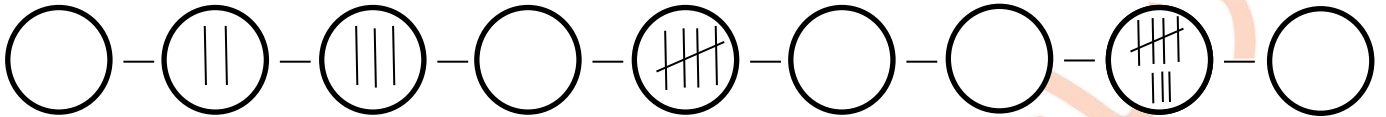


تدریس خصوصی ریاضی به صورت حضوری و آنلاین با دبیران حرفه ای و پیگیری قدرتمند در مدرسه

۸۸۹۰۴۰۰۲ - ۸۸۹۰۶۹۰۹ - ۲۶۵۷۰۸۱۰ - ۴۴۰۲۵۸۶۰

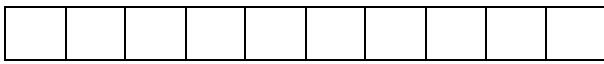
کد تهران ۰۲۱

۱- جاهای خالی را با چوب خط پر کنید.

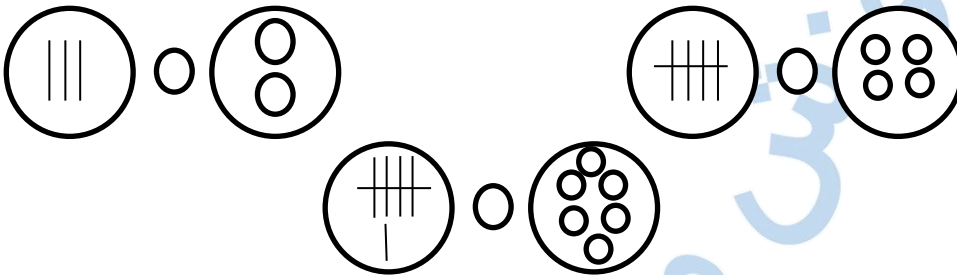


۲- با رنگ کردن خانه های مستطیل جواب دهید.

$$۲ + ۴ =$$



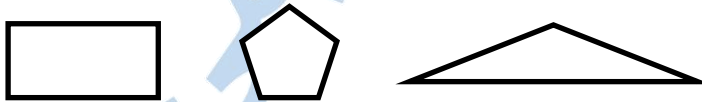
۳- مقایسه کنید. ۶ نمره (<=>)



۴- ادامه دهید.



۵- تعداد گوشه های هر شکل را بنویس.



۶- با روش دلخواه جواب دهید.

$$۵ + ۲ =$$

$$۶ + ۴ =$$



تدریس خصوصی ریاضی به صورت حضوری و آنلاین با دبیران حرفه ای و پیگیری قدرتمند در مدرسه

۸۸۹۰۴۰۰۲ - ۸۸۹۰۶۹۰۹ - ۲۶۵۷۰۸۱۰ - ۴۴۰۲۵۸۶۰

کد تهران ۰۲۱

۷- با روش دلخواه جواب دهید.

$$__ + 5 = 8$$

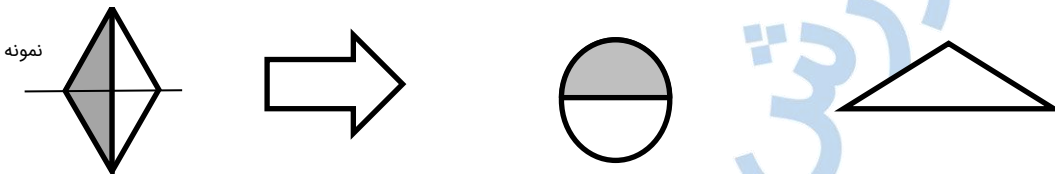
$$3 + __ = 6$$

۸- مقایسه کنید. ($<=>$)

$$3 \square 5 \quad 6 \square 4 \quad 1 + 8 \square 8$$

$$1 + 2 \square 2 + 1 \quad 4 \square 0 + 4$$

۹- خط تقارن را رسم کنید.



۱۰- با روش دلخواه جواب دهید.

$$__ + __ = 6$$

$$__ + __ = 6$$

$$__ + __ = 6$$

$$__ + __ = 6$$

۱۱- با روش دلخواه جواب دهید و جای خالی را پر کنید. (راهنمایی معلم)

$$1 + 4 + 0 + 1 + \square = 2 + 2 + 1 + 1 + 2$$

۱۲- با روش دلخواه جواب دهید.

+	۳	۴
۲		
۴		



تدریس خصوصی ریاضی به صورت حضوری و آنلاین با دبیران حرفه ای و پیگیری قدرتمند در مدرسه

۸۸۹۰۴۰۰۲ - ۸۸۹۰۶۹۰۹ - ۲۶۵۷۰۸۱۰ - ۴۴۰۲۵۸۶۰

کد تهران ۰۲۱

۱۳- شکلی بکش که دو خط تقارن داشته باشد. (راهنمایی معلم)

۱۴- ادامه بده (راهنمایی معلم)

۰	۱	۲
---	---	---

۲	۳	۴
---	---	---

۴		
---	--	--

--	--	--

۱۵- ۲ جعبه داریم که در هر جعبه ۳ عدد کیک است. چند جعبه دیگر بخریم تا ۹ کیک داشته باشیم؟ (با روش دلخواه جواب دهید.) (راهنمایی معلم)