



تدریس خصوصی ریاضی به صورت حضوری و آنلاین با دبیران حرفه ای و پیگیری قدرتمند در مدرسه

۸۸۹۰۴۰۰۲ - ۸۸۹۰۶۹۰۹ - ۲۶۵۷۰۸۱۰ - ۴۴۰۲۵۸۶۰

کد تهران ۰۲۱

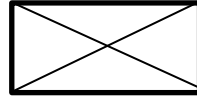
۱- الف - (+) ب - (-) ج - (X) د - (÷)



پنج قطر



ندارد



دو قطر



بیشمار قطر

۲-

۳- مخلوط: کلاه تولد، نوک مداد استوانه: قوطی - نی نوشابه

۴- الف - > ب - < ج - < د - =

۵-

الف - سانتی متر ۲۶ = ۴ + ۱۰ + ۱۲ ب - سانتی متر ۱۶ = ۶ + ۶ + ۴

۶-

چوب کبریت ۳۰ = ۱۰ × ۳

۷-

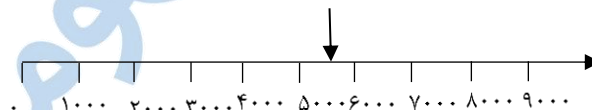


متر سانتی مربع ۴ = ۲ × ۲ و ۸ ÷ ۴ = ۲

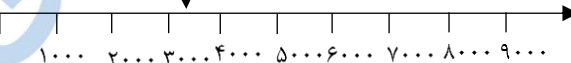
۸- نمی دانیم ممکن است رو یا پشت بیاید.

۹-

$$۲۲۰۰ + ۳۴۰۰ = ۵۶۰۰$$



$$۷۴۰۰ - ۴۰۰۰ = ۳۴۰۰$$



۱۰-

الف) $(۱۰ ÷ ۵) + (۴ × ۳) = ۲ + ۱۲ = ۱۴$

ب) $(۸ - ۲) × (۷ - ۳) = ۶ × ۴ = ۲۴$

ج) $۵ × (۴ + ۵) = ۵ × ۹ = ۴۵$

د) $۸ ÷ (۵ - ۳) = ۸ ÷ ۲ = ۴$



تدریس خصوصی ریاضی به صورت حضوری و آنلاین با دبیران حرفه ای و پیگیری قدرتمند در مدرسه

۸۸۹۰۴۰۰۲ - ۸۸۹۰۶۹۰۹ - ۲۶۵۷۰۸۱۰ - ۴۴۰۲۵۸۶۰

کد تهران ۰۲۱

$$۳ \times \square + ۱۰ = ۳۷, ۳ \times \square = ۲۷ \rightarrow \square = ۹ - ۱۱$$

- ۱۲

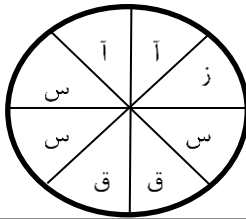
$$\square \times \square = ۱۲ \text{ مساحت } \text{ و } ۲ \times (\square + \square) = ۱۶ \text{ محیط}$$

$$\text{حدس: (ص) } ۶ \times ۲ \quad ۱ \times ۱۲ (خ) \quad ۳ \times ۴ (خ)$$

- ۱۳

$$۴ \times ۲ = ۸ \quad ۳ \times ۴ = ۱۲ \quad ۸ + ۱۲ = ۲۰ \quad ۲۰ \div ۵ = ۴ \text{ به هر کس می رسد}$$

۱۴- آ: آبی، ق: قرمز، س: سبز، ز: زرد



۱۵- هر شکل ۴ تا از قبلی بیشتر دارد. شکل ۲۱، ۸ چوب کبریت بیشتر از ۱۹ دارد.

$$۱۹ \xrightarrow{+۴} ۲۰ \xrightarrow{+۴} ۲۱$$