



تدریس خصوصی ریاضی به صورت حضوری و آنلاین با دبیران حرفه ای و پیگیری قدرتمند در مدرسه

۸۸۹۰۴۰۰۲ - ۸۸۹۰۶۹۰۹ - ۲۶۵۷۰۸۱۰ - ۴۴۰۲۵۸۶۰

کد تهران ۰۲۱

۱.

(۲۰ نمره)

جاهای خالی را پر کنید.

پاسخ :

۲.

(۱۰ نمره)

به شکل‌های یکی اضافه کن و رنگ کن.



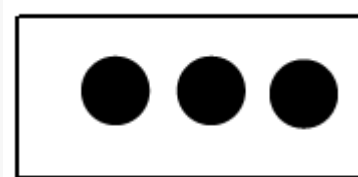


تدریس خصوصی ریاضی به صورت حضوری و آنلاین با دبیران حرفه ای و پیگیری قدرتمند در مدرسه

۸۸۹۰۴۰۰۲ - ۸۸۹۰۶۹۰۹ - ۲۶۵۷۰۸۱۰ - ۴۴۰۲۵۸۶۰


کد تهران ۰۲۱

پاسخ :



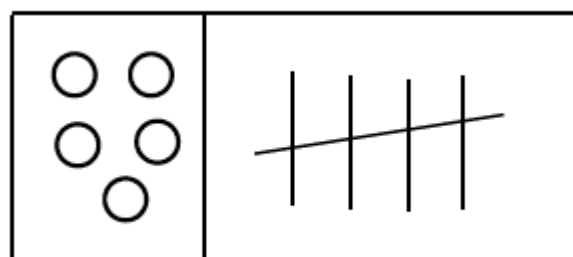
۳ .

(۵ نمره)



به تعداد شکل‌ها چوب‌خط بکش.

پاسخ :





تدریس خصوصی ریاضی به صورت حضوری و آنلاین با دبیران حرفه ای و پیگیری قدرتمند در مدرسه

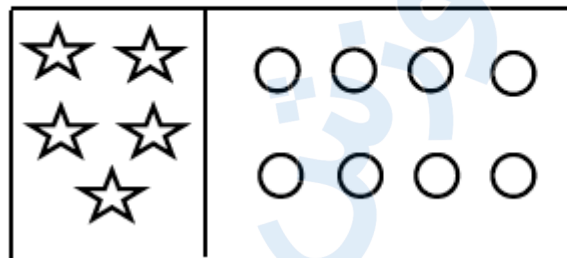
۸۸۹۰۴۰۰۲ - ۸۸۹۰۶۹۰۹ - ۲۶۵۷۰۸۱۰ - ۴۴۰۲۵۸۶۰

کد تهران ۰۲۱

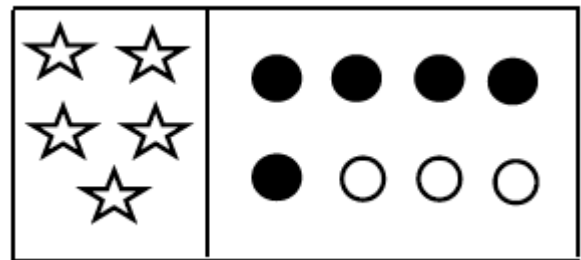
. ۴

(۵ نمره)

به تعداد شکل های سمت چپ، از دایره های سمت راست رنگ کن.



پاسخ :



. ۵

(۲۰ نمره)



تدریس خصوصی ریاضی به صورت حضوری و آنلاین با دبیران حرفه ای و پیگیری قدرتمند در مدرسه

۸۸۹۰۴۰۰۲ - ۸۸۹۰۶۹۰۹ - ۲۶۵۷۰۸۱۰ - ۴۴۰۲۵۸۶۰

کد تهران ۰۲۱

مانند نمونه ادامه دهید:



پاسخ :



۶.

(۱۰ نمره)

شکل های قبل و بعد را بکش.



پاسخ :





تدریس خصوصی ریاضی به صورت حضوری و آنلاین با دبیران حرفه ای و پیگیری قدرتمند در مدرسه

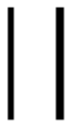
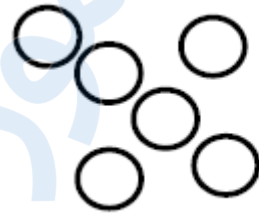
۴۴۰۲۵۸۶۰ - ۲۶۵۷۰۸۱۰ - ۸۸۹۰۶۹۰۹ - ۸۸۹۰۴۰۰۲

کد تهران ۰۲۱

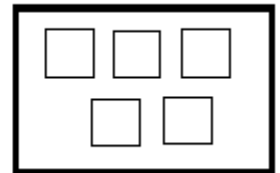
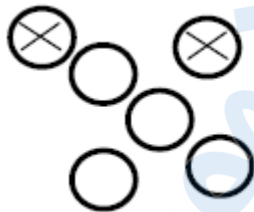
۷ .

(۱۰ نمره)

به اندازه چوب خط ها از دایره ها خط بزنید . سپس یک واحد به تعداد باقی مانده اضافه کنید . حاصل چند مربع است؟



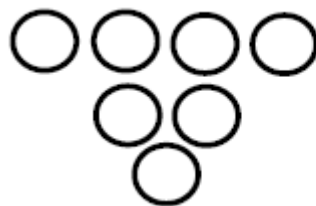
پاسخ :



۸ .

(۱۰ نمره)

به اندازه چوب خط ها از دایره ها خط بزنید . سپس یک واحد به تعداد باقی مانده اضافه کنید . حاصل چند مربع است؟



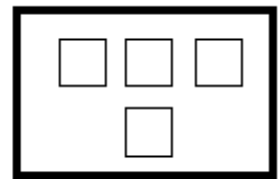
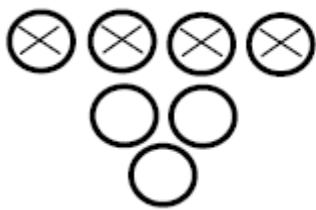


تدریس خصوصی ریاضی به صورت حضوری و آنلاین با دبیران حرفه ای و پیگیری قدرتمند در مدرسه

۸۸۹۰۴۰۰۲ - ۸۸۹۰۶۹۰۹ - ۲۶۵۷۰۸۱۰ - ۴۴۰۲۵۸۶۰

کد تهران ۰۲۱

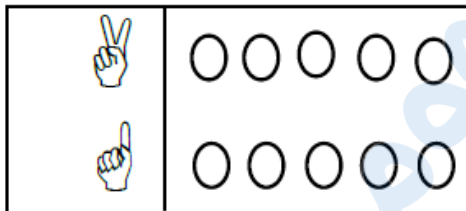
پاسخ :



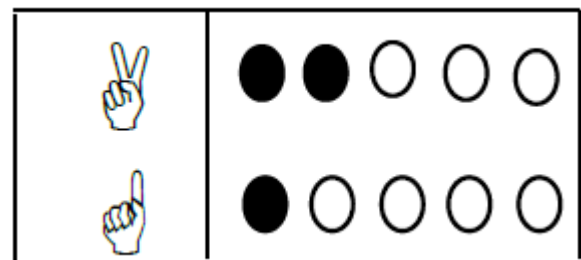
۹.

(۵ نمره)

به تعداد انگشتان هر دو دست، از شکل‌های سمت راست رنگ کن.



پاسخ :





تدریس خصوصی ریاضی به صورت حضوری و آنلاین با دبیران حرفه ای و پیگیری قدرتمند در مدرسه


۸۸۹۰۴۰۰۲ - ۸۸۹۰۶۹۰۹ - ۲۶۵۷۰۸۱۰ - ۴۴۰۲۵۸۶۰

کد تهران ۰۲۱

۱۰.

(۵ نمره)

شکل مناسب را وصل کن.



پاسخ :

