



تدریس خصوصی ریاضی به صورت حضوری در تهران و آنلاین در سراسر دنیا با بهترین دبیران در مدرسه

۷۷۱۸۱۳۹۹ - ۷۷۱۸۱۳۳۶ - ۶۶۷۱۳۴۷۲ - ۶۶۵۷۵۹۵۱ - ۸۸۹۰۶۹۰۹ - ۸۸۹۰۴۰۰۲

کد تهران ۰۲۱

۱-

عدد ۲۰۷۸۵۰۷۶ به حروف

به رقم چهارصد و هشتاد و دو میلیون و ده هزار و چهل

۲- در عدد زیر، رقم ۶ و رقم ۰ در چه مرتبه ای قرار دارند؟

۶ ۴ ۷ ۰ ۸ ۲ ۱ ۹
↑ ↑

۳- ۱۰۰۰۰۰۰ ریال می شود تومان

۱۰ تا ۱۰۰۰۰۰۰ ریال می شود ریال = تومان

۴- اگر در عدد رو به رو، به جای رقم های طبقه یک و هزار ۰ بگذاریم، عدد چند می شود؟

۷۲۸۵۶۴۲۱ به حروف به رقم

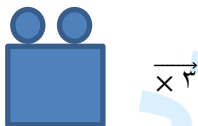
۵- علامت مناسب بگذارید < = >

۴۱۲۴۸۵ ۲۶۵۳۷۰۱ ۱۸۲۰۰۰ ۱۰۰۰۰۰ + ۸۰۰۰۰ + ۲۰۰۰ ۴۰۰۰۰ ۲ × ۲۰۰۰

۶- گسترده اعداد را بنویسید.

۴۸۰۲۷۶۳ = + + + +

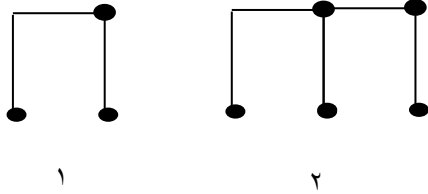
۷- ۲ تا صد هزار تا + ۱۰ تا ده هزار تایی + ۴ صد تایی + ۲ ده تایی + ۶ =



۸- با توجه به شکل کامل کنید. (شکل جدید)

$\div 2$

۹- شکل پنجم کدام است؟

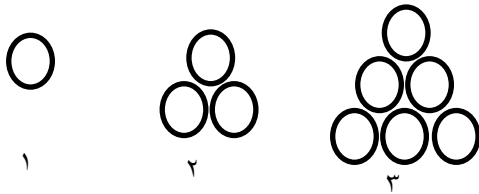


۱۰- تساوی زیر را کامل کنید.

صد میلیون = تا ۱ میلیون = صد هزار تا

صد تا ده هزار تا = صد هزار تا = میلیون

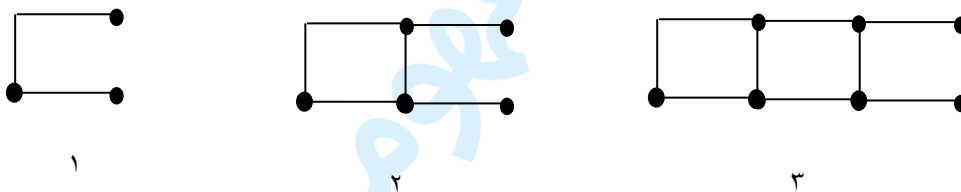
۱۱- اگر شکل دهم ۵۵ دایره داشته باشد، شکل ۱۲ ام چند دایره دارد؟



۱۲- بزرگترین عدد فرد ۵ رقمی که ارقام ۰، ۱، ۴ در آن به کار برود (ارقام غیر تکراری)

۱۳- اگر زهرا ۲۱ ساله باشد، سن زهرا از نصف سن پدرش ۴ سال کمتر است. پدر او چند سال دارد؟

۱۴- شکل ۲۰ ام چند چوب کبریت دارد؟



۱۵- فردی برای باغبانی بین هر دو درخت کاج، سه شمشاد کاشته است اگر در این باغ چهل کاج باشد چند شمشاد کاشته شده است؟