


به نام خدا



تدریس خصوصی ریاضی به صورت حضوری در تهران و آنلاین در سراسر دنیا با بهترین دبیران در مدرسه  
۷۷۱۸۱۳۹۹ - ۷۷۱۸۱۳۳۶ - ۶۶۷۱۳۴۷۲ - ۶۶۵۷۵۹۵۱ - ۸۸۹۰۶۹۰۹ - ۸۸۹۰۴۰۰۲

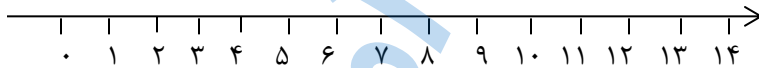
کد تهران ۰۲۱

آزمون و آموزش رایگان با عضویت در پنل مدرسه

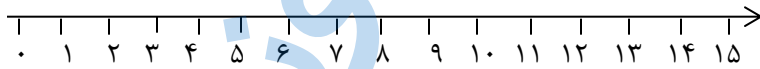


۱- جمع و تفریق زیر را روی محور نشان داده و جواب آن را بنویسید. ۶ نمره

$7 + 5 =$



$10 - 3 =$



۲- اعداد را در جدول ارزش مکانی بنویسید و به حروف بگویید. ۶ نمره

ده تایی	یکی
۲۵	
حروف	

ده تایی	یکی
۸	
حروف	

۳- با توجه به تعداد دسته‌ها، عدد را به رقم و به حروف بنویسید. ۶ نمره



رقم: .....  
حروف: .....

۴- سارا ۵ گل رز سفید و ۴ گل رز قرمز در گلدان دارد. اگر ۲ گل به دوستش بدهد، چند گل برایش باقی می‌ماند؟ ۶ نمره

۵- علامت مناسب بگذارید. ۶ نمره

$27 \bigcirc 22$

$12 \bigcirc (10 + 2)$

$85 \bigcirc 79$

۶- در اعداد داده شده رقم یکان و دهگان را بگویید. ۱۰ نمره

یکان ..... ۸

یکان ..... ۲۰

یکان ..... ۸۲

دهگان .....

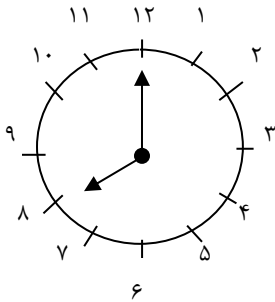
دهگان .....

دهگان .....

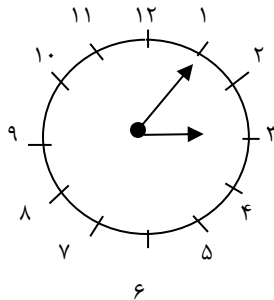
۴ ، ۸ ، ۱۲ ، .....  
 ۸۰ ، ۸۲ ، ۸۴ ، .....

۱۰ + ۲۰ + ۵ + ۵ + ۳۰ + ۵ = .....  
 ۴۰ - ۱۰ + ۵ + ۵ + ۲۰ = .....

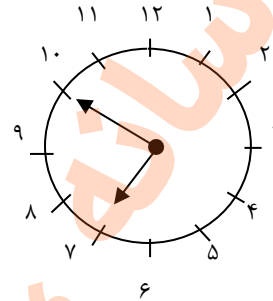
۸- ۱۰ نمره



ساعت ..... گذشته



ساعت کمی از ..... گذشته



ساعت کمی به ..... مانده

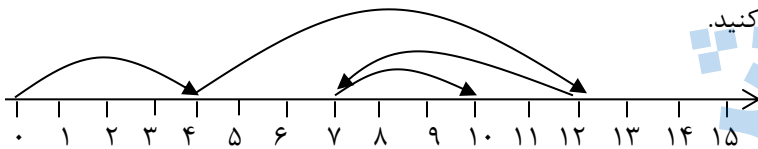
۹- ساعت را بگویید.

۱۰ نمره

۱۰- خانه‌های قبلی را پر کنید. ۱۰ نمره

..... ، ..... ، ۷۰ ، ۷۲ ، ۷۴  
 ..... ، ..... ، ۲۰ ، ۲۵ ، ۳۰

۱۱- برای محور عملیات جمع و تفریق مناسب را نوشته و مسئله را کامل کنید.



۱۲ نمره

در یک اتاق ..... نفر بودند. بعد از مدتی ..... نفر به آنها اضافه شدند، بعد از یک ساعت ..... نفر از اتاق بیرون رفتند، اما ..... نفر از آنها برگشتند. اکنون ۱۰ نفر در اتاق هستند.

۱۲- دانش آموزی ۲ آدامس خرید که قیمت هر کدام ۴۰ تومان است و ۱۰ تومان برایش باقی ماند. اگر او به جای دو آدامس، یک شکلات ۳۰ تومانی می‌خرید چند برایش باقی می‌ماند؟

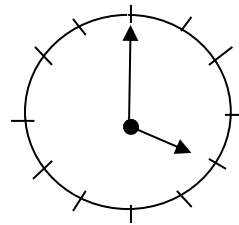
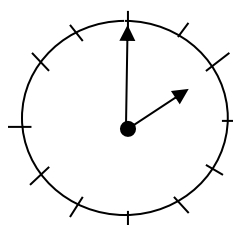
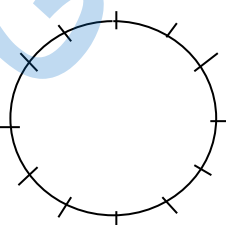
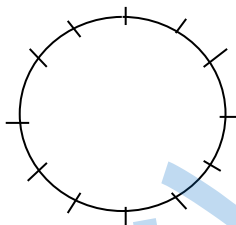
۱۲ نمره

+ ۵ - ۲ + ۴ = ۱۰

۱۲ نمره

۱۳-  چه عددی است؟

۱۴- عقربه ساعت‌های قبلی را رسم کن. ۲۵ نمره



۲۵ نمره

۱۵- چند عدد دو رقمی می‌توان نوشت که دهگان آن ۱، ۲، ۳ و یکان آن ۴، ۵ باشد؟ آنها را بنویس.