




تدریس خصوصی ریاضی به صورت حضوری در تهران و آنلاین در سراسر دنیا با بهترین دبیران در مدرسه

۷۷۱۸۱۳۹۹ - ۷۷۱۸۱۳۳۶ - ۶۶۷۱۳۴۷۲ - ۶۶۵۷۵۹۵۱ - ۸۸۹۰۶۹۰۹ - ۸۸۹۰۴۰۰۲

کد تهران ۰۲۱


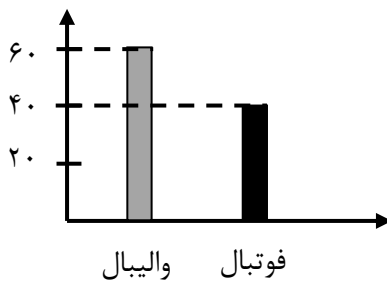
آزمون و آموزش رایگان با عضویت در پتل مدرسه



ثبت نام: ۸۸۹۰۴۰۰۲

زمان: (۶۰ دقیقه)

۱ - اطلاعات نمودار ستونی را با رنگ کردن، در نمودار دایره‌ای نشان دهید. (۸ نمره)



۲ - با توجه به اطلاعات مربوط به تعداد و نوع کتاب‌ها، نمودار ستونی زیر را کامل کنید. (۸ نمره)

نوع	علمی	مذهبی	تاریخی	هنری
تعداد	۶۰	۳۰	۲۰	۴۰



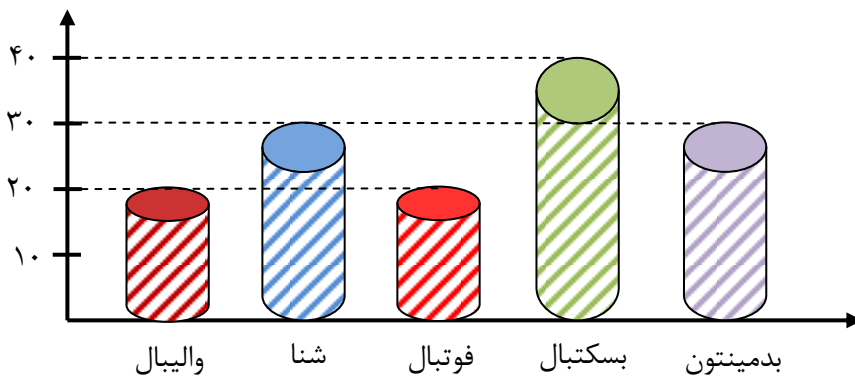
علمی : سبز

مذهبی : صورتی

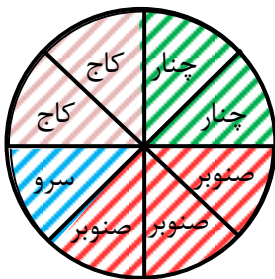
تاریخی : زرد

هنری : آبی

۳ - با توجه به نمودار زیر، در مجموع چند دانش آموز در رشته‌های شنا، بدمینتون و بسکتبال ثبت نام کرده اند؟ (۸ نمره)



۴ - با توجه به نمودار جدول را کامل کنید. (۹ نمره)



تعداد	چنار	سرو	کاج	صنوبر
نوع درخت		۶۰		

۵ - بزرگ‌ترین عدد ۴ رقمی زوج را بنویسید که رقم مرتبه‌ی یکان آن دو برابر رقم مرتبه‌ی صدگان آن باشد. (۸ نمره)

۶ - اگر عددهای ۳ و ۹ نشان دهنده‌ی تعداد دسته‌ها و عددهای ۲ و ۷ نشان دهنده‌ی تعداد اشیاء هر دسته باشند، چند

عملیات ضرب می‌توانیم بنویسیم؟ (۱۰ نمره)

تمامی عبارتهای ضرب را بنویسید و بزرگ‌ترین حاصل ضرب را مشخص کنید.

۷ - تساوی‌های زیر را کامل کنید. (۸ نمره)

$$۱ \times ۲۵ = \square$$

$$۴۰۰ \times ۳۰ = \square$$

$$\square \times ۸ = ۸$$

$$۷۰ \times ۲۰ \times ۱۰ = \square$$

۸ - حسین روزی ۲۰ صفحه مطالعه می‌کند. او در آبان چند صفحه مطالعه می‌کند؟ (۸ نمره)

۹ - فاطمه هر هفته ۳ بار کلاس علوم دارد و هر بار ۲ ساعت علوم می‌خواند. فاطمه در ۵ هفته چند ساعت علوم می‌خواند؟ (۸ نمره)

۱۰ - باقی‌مانده‌ی هر تقسیم را مشخص کنید. (۸ نمره)

$$۷۳ \overline{) ۹}$$

$$۴۵ \overline{) ۷}$$

۱۱ - حاصل هر ضرب را به روش فرایندی به دست آورید. (۸ نمره)

$$\begin{array}{r} ۴۳ \\ \times ۷ \\ \hline \end{array}$$

$$\begin{array}{r} ۵۱ \\ \times ۴ \\ \hline \end{array}$$

۱۲ - باغبانی در ۷ روز ۵۶ نهال می‌کارد. اگر تعداد نهال‌هایی که هر روز می‌کارد مساوی باشد، او در هر روز چند نهال می‌کارد؟ (۹ نمره)

۱۳ - در جای خالی عدد مناسب بنویسید. (۵۰ نمره)

$$۳۰ \times ۸۰ \times \square \times ۱ = ۴۸۰۰۰$$

۱۴ - عبارت زیر را با نوشتن عدد مناسب کامل کنید. (۵۰ نمره)

$$۱۰ \times ۵۰ \times ۱۳ \times ۱۷ \times ۰ \times ۴۰ = \square \times ۵۰ \times ۱۷$$



تدریس خصوصی ریاضی به صورت حضوری در تهران و آنلاین در سراسر دنیا با بهترین دبیران در مدرسه

۷۷۱۸۱۳۹۹ - ۷۷۱۸۱۳۳۶ - ۶۶۷۱۳۴۷۲ - ۶۶۵۷۵۹۵۱ - ۸۸۹۰۶۹۰۹ - ۸۸۹۰۴۰۰۲

کد تهران ۰۲۱



موفق باشید.