

۵ - چند عدد بین ۶۳ تا ۶۷ وجود دارد؟ آن اعداد را بنویسید. (۶ نمره)

۶ - حسین سه دسته‌ی ۱۰ تایی مداد رنگی داشت. پدرش به او ۶ مداد رنگی داد. اکنون حسین چند مداد رنگی دارد؟ (۸ نمره)

۷ - حاصل هر عبارت را بنویسید. (۸ نمره)

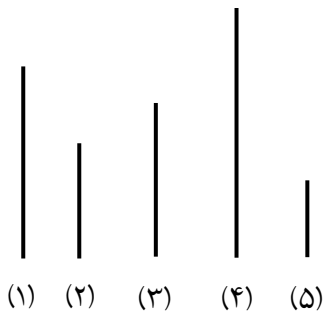
$$۲۰ + ۶ + ۱۰ = \square$$

$$۲۰ + ۱۰ + ۲ + ۳ + ۵ = \square$$

$$۱۰ + ۱۰ + ۱۰ + ۵ + ۵ = \square$$

$$۲۰ + ۳۰ + ۶ + ۴ = \square$$

۸ - به خط‌های زیر نگاه کنید: (۹ نمره)




الف) خط شماره‌ی (۱) کوتاه‌تر از خط شماره‌ی است.

ب) خط شماره‌ی (۲) بلندتر از خط شماره‌ی است.

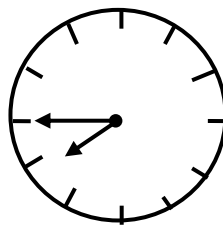
ج) خط شماره‌ی بلندترین خط است.

۹ - کامل کنید: (۹ نمره)



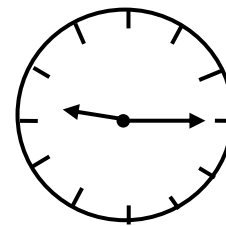
زمان بین

ساعت و است.



زمان بین

ساعت و است.



زمان بین

ساعت و است.

۱۰ - کامل کنید. (۸ نمره)

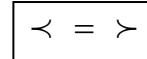
(الف) - - - ۲۴ - ۳۰ - ۳۶

.....

(ب) - - - ۲۵ - ۳۰ - ۳۵

.....

۱۱ - مقایسه کنید. (۹ نمره)



$۱۰ + ۳۰$ $۵ + ۵ + ۱۰ + ۲۰$

$۴۵ + ۵$ $۳۵ + ۱۰$

$۸ + ۶ + ۱۰$ $۲۰ + ۵ + ۲$

۱۲ - جواد ۳۶ شکلات داشت. ۸ تا را به دوستش علی داد. ۵ تای دیگر را به ایمان داد. حالا چند شکلات دیگر برای جواد باقی مانده است؟ (به کمک شکل) (۱۰ نمره)

۱۳ - کتابی ۲۸ صفحه دارد. مریم ۱۵ صفحه از این کتاب را خوانده است. چند صفحه باقی مانده است؟ (۵۰ نمره)

۱۴ - زهرا ۲۵ شکلات فندقی، ۱۰ شکلات گردویی و ۲۰ شکلات کره ای دارد. اگر زهرا ۳۰ شکلات به دوستش بدهد، چند شکلات برایش باقی می ماند؟ (۵۰ نمره)