




تدریس خصوصی ریاضی به صورت حضوری در تهران و آنلاین در سراسر دنیا با بهترین دبیران در مدرسه

۷۷۱۸۱۳۹۹ - ۷۷۱۸۱۳۳۶ - ۶۶۷۱۳۴۷۲ - ۶۶۵۷۵۹۵۱ - ۸۸۹۰۶۹۰۹ - ۸۸۹۰۴۰۰۲

کد تهران ۰۲۱


آزمون و آموزش رایگان با عضویت در پتل مدرسه



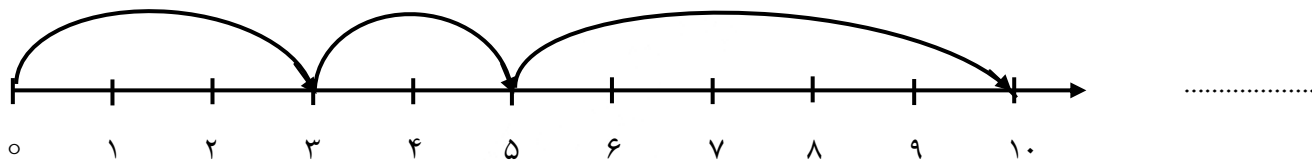
زمان: (۶۰ دقیقه)

۱ - جمع زیر را روی محور نشان دهید و حاصل جمع را بنویسید. (۸ نمره)

$$6 + 2 = \square$$



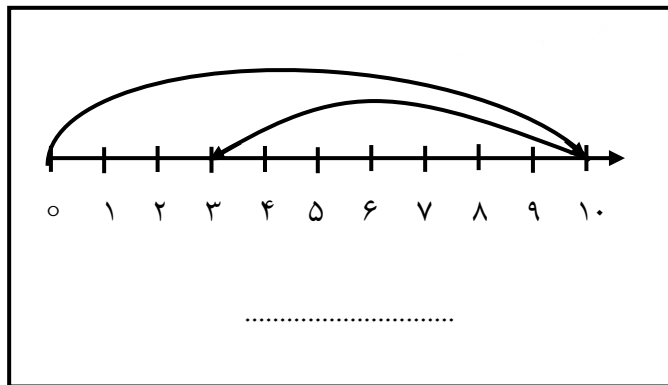
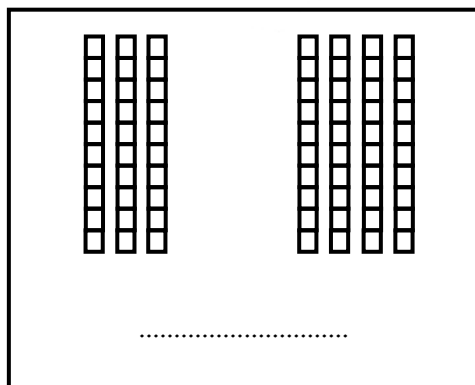
۲ - برای محور زیر عملیات مناسب بنویسید. سپس حاصل را به دست آورید. (۸ نمره)



۳ - الگوی عددی زیر را ادامه دهید. (۹ نمره)

$$0 - 4 - 8 - \bigcirc - \bigcirc - \bigcirc$$

۴ - برای هر شکل یا محور جمع یا تفریق مناسب بنویسید. (۸ نمره)



۵ - در یک تنگ ۶ ماهی کوچک بود. ۳ ماهی مردند. حالا چند ماهی در تنگ است؟ (۶ نمره)

۶ - حاصل هر جمع را بنویسید. (۹ نمره)

$$۳۰ + ۳۰ + ۱۰ = \square$$

$$۵۰ + ۴۰ = \square$$

$$۴۰ + ۲۰ = \square$$

۷ - عددی که شکل زیر نشان می دهد را داخل جدول بنویسید. سپس عدد این شکل را کنار آن بنویسید. (۶ نمره)



ده تایی	یکی
.....

عدد:

۸ - الگوی زیر را کامل کنید. (۸ نمره)

\square , \square , \square , \square , ۵۰ , ۶۰ , ۷۰

۹ - زهرا ۵ شکلات داشت. مادرش به او ۲ شکلات داد. پدرش به او ۱ شکلات داد. اکنون زهرا چند شکلات دارد؟ (۱۰ نمره)

۱۰ - علامت $\langle = \rangle$ قرار دهید. (۱۰ نمره)

$$۵۰ \square ۳۰$$


$$۵۰ - ۲۰ \square ۴۰ - ۱۰$$

$$۶۰ \square ۷۰$$

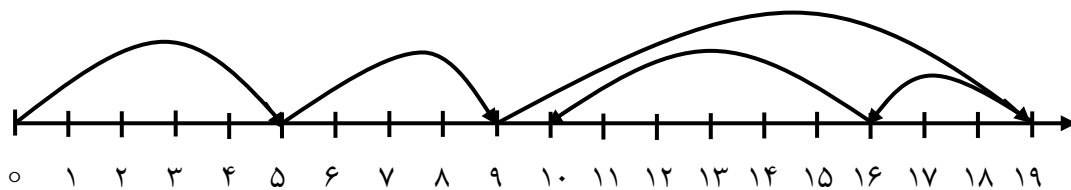
$$۲۰ + ۴۰ \square ۱۰ + ۱۰ + ۳۰$$

۱۱ - پارسا ۸ مداد رنگی داشت. ۴ تا از مدادهای او گم شد. حالا پارسا چند مداد رنگی دارد؟ (۹ نمره)

۱۲ - در الگوی زیر شکل بعدی را رسم کنید. (۹ نمره)



۱۳ - برای محور زیر عملیات مناسب بنویسید (۵۰ نمره)



۱۴ - شکل اول را رسم کنید. (۵۰ نمره)

