


آزمون و آموزش رایگان با عضویت در پتل مدرسه



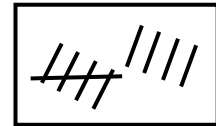
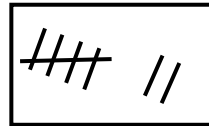
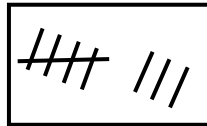
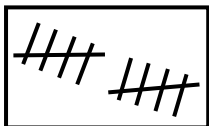
تدریس خصوصی ریاضی به صورت حضوری در تهران و آنلاین در سراسر دنیا با بهترین دبیران در مدرسه

۷۷۱۸۱۳۹۹ - ۷۷۱۸۱۳۳۶ - ۶۶۷۱۳۴۷۲ - ۶۶۵۷۵۹۵۱ - ۸۸۹۰۶۹۰۹ - ۸۸۹۰۴۰۰۲

کد تهران ۰۲۱

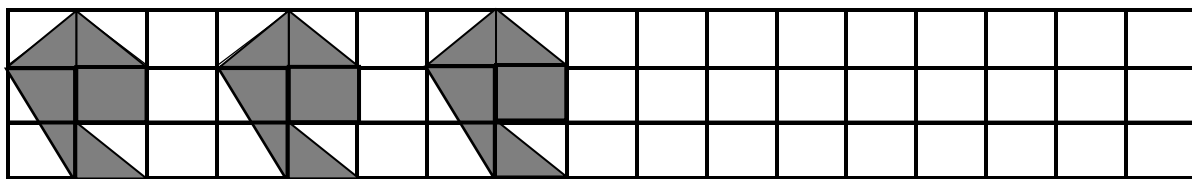
زمان: (۶۰ دقیقه)

۱ - هر عدد را به چوب خطی که با آن برابر است وصل کنید.

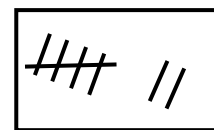
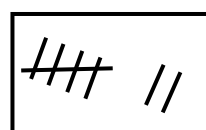
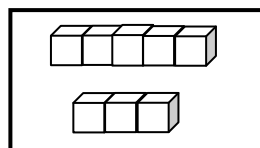
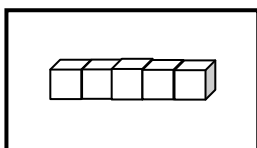


۲ - علی ۸ گل دارد. یکی بیش‌تر از گل‌های او دایره بکشید.

۳ - مانند نمونه ادامه دهید:



۴ - عدد هر دسته را بنویسید. سپس از علامت < یا > یا = استفاده کنید.



.....




.....

.....

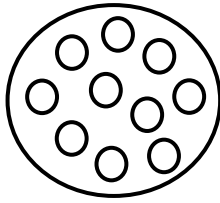


.....


۵ - یکی کم‌تر از عددی که هر شکل نشان می‌دهد را بنویسید.



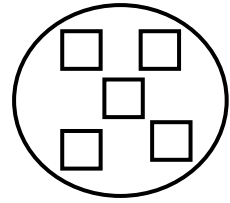
....



....



....



....

۶ - حاصل هر عبارت را بنویسید.

$$5 + 3 = \square$$

$$4 + 6 = \square$$

$$7 + 2 = \square$$

$$4 + 4 = \square$$


۷ - در هر جای خالی عدد مناسب بنویسید.

$$8 \text{ (<) } \dots$$


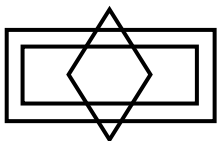
$$3 \text{ (>) } \dots$$

$$5 \text{ (=) } \dots$$

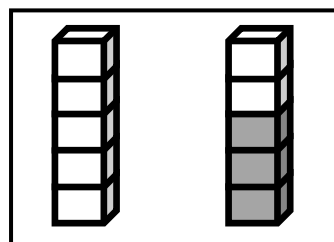
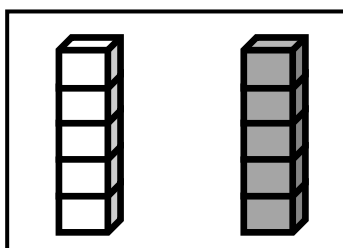
۸ - شکل زیر را طوری کامل کنید که دو نیمه‌ی شکل مثل هم باشند.





۹ - عددهای مثل هم را با خط‌کش به هم وصل کنید تا شکل سمت چپ به دست آید.



۱۰ - دو تا کم‌تر از چینه‌های سمت راست، از چینه‌های سمت چپ رنگ کنید:



۱۱- اگر به تعداد شکل‌های سمت چپ از شکل‌های سمت راست برداریم چند شکل باقی می‌ماند؟



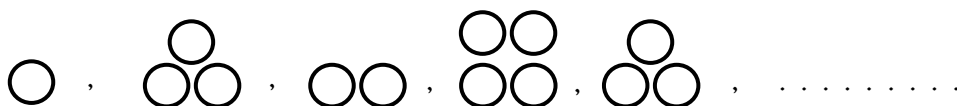
....

....

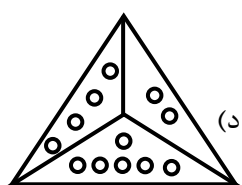
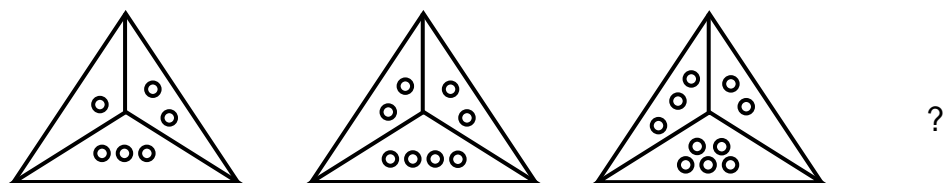
۱۲- کامل کنید.

۱	۸	۵	۳	۹	۶	۷	۲	۴
۳	۹	۶	۷	۲	۴	۱	۸	۵
۷	۲			۸	۵	۳	۹	۶
۸	۵			۶	۳	۲	۴	۷
۹	۶	۳	۲				۵	۱
۲	۴	۷	۸	۵	۱		۶	۳
۵	۱	۸	۶	۳			۷	۲
۶	۳	۹	۴	۷	۲	۵	۱	۸
۴	۷	۲	۵	۱	۸	۶	۳	۹

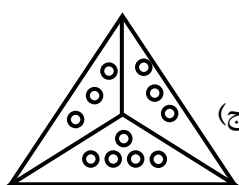
۱۳- شکل بعدی را بکشید:



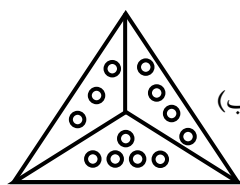
۱۴- شکل بعدی کدام است؟



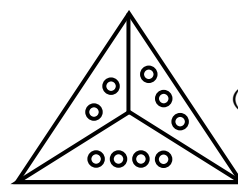
(د)



(ج)



(ب)



(الف)

نیاز به تلاش بیشتر

قابل قبول

خوب

خیلی خوب

موفق باشید.