

نام :

به نام خدا

تاریخ :



نام خانوادگی :

پایه : اول

ثبت نام در کل تهران ۰۸۱۰۸۵۷۰۳۹

مرکز تخصصی ریاضیات ویژن

آغاز سال تمصیلی جدید را به دانش پژوهان عزیز و اولیاء ممتزم تبریک عرض می‌نماییم.

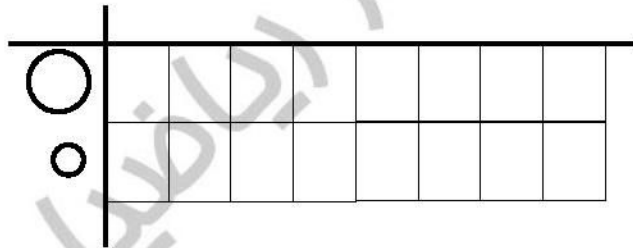
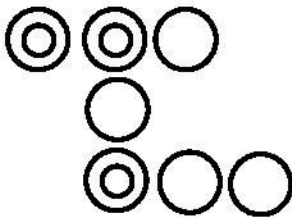
آینده تکنولوژی در دستان کسانیست که ریاضی را در زندگی به‌کار می‌برند.

به ریاضی عمیق تر نگاه کن

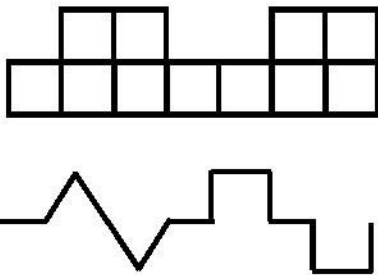
موفق باشید.

۹۶ - ۹۷ :

۱- از تعداد دایره‌های بزرگ یکی کم کنید و به تعداد دایره‌های کوچک یکی اضافه کنید سپس به اندازه حاصل، از خانه‌های زیر رنگ کنید.


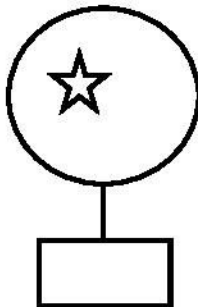


۲- الگوهای زیر را ادامه دهید.



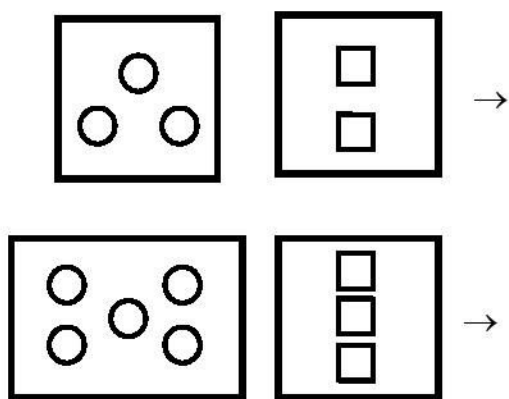
۳- فرض کنید در شکل‌های زیر به اندازه ستاره‌ها، ماه داریم. در هر دسته از شکل‌ها به اندازه ماه و ستاره‌ها چوب خط

بکشید.



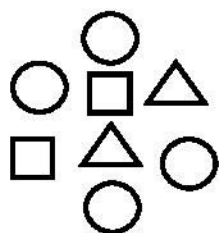
کلاسهای ریاضی مقدماتی ویژن

۴- به تعداد مربع‌ها از دایره‌ها کم کنید و حاصل را با مربع نشان دهید.

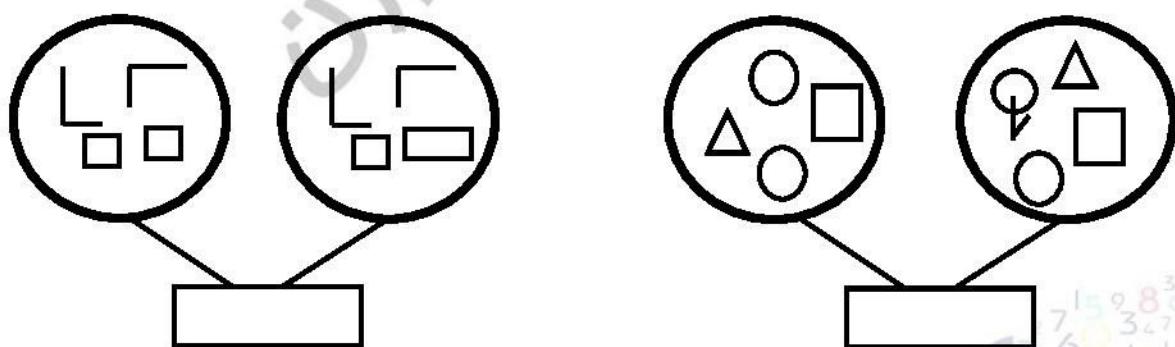


۵- جدول زیر را کامل کنید.

۶- شکل‌های زیر را طوری مرتب کنید که یک الگو داشته باشیم.



۷- در دایره‌های بزرگ، شکل‌هایی که مشابهی ندارند باهم جمع کنید و با دایره نشان دهید.




۸- مینا ۳ مداد و سارا ۲ مداد دارند. هر کدام یکی از مدادهایشان را استفاده کرده‌اند. حالا تعداد مدادهای باقی‌مانده سارا و مینا روی هم چقدر است؟

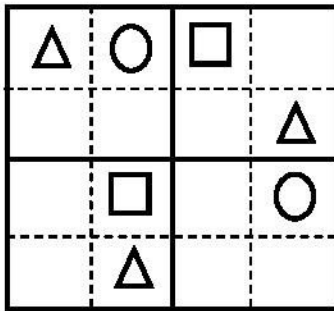
کلاسهای ریاضی مقدماتی ویژن

۹- آقای احمدی و خانمشان، ۱ فرزند دارند. امشب ۴ نفر از دوستانشان را برای شام دعوت کردند. ولی ۲ نفر فقط آمدند.
برای شام چند نفر دور میز می‌نشینند؟ (با شکل)

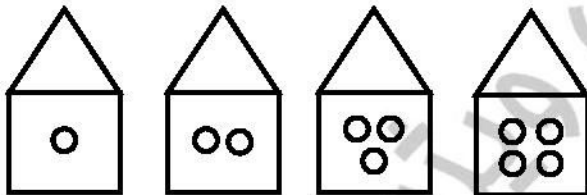
۱۰- به تعداد شاخه‌های گلدان‌ها از مربع‌ها رنگ بزنید.




۱۱- جدول را کامل کنید.



۱۲- شکل بعدی را کامل کنید.



۱۳- الگوی زیر را ادامه دهید.



۱۴- اگر از تعداد دست و پاهای ۳ نفر، یک دست و پا کم کنیم، چند دست و پا می‌ماند؟



به ریاضی عزیزم تو نگاه کن
مركز تخصصی ریاضیات و زبان موفق باشید.

کلاسهای ریاضی مقدماتی ویزن