

نام :

به نام خدا

تاریخ :

نام خانوادگی :

پایه : دوم )



ثبت نام در کل تهران ۰۸۱۰۰۴۵۷۰۲۴

### مرکز تخصصی ریاضیات ویژن

آغاز سال تمصیلی جدید را به دانش پژوهان عزیز و اولیاء ممتنم تبریک عرض می‌نماییم.

آینده تکنولوژی در دستان کسانیست که ریاضی را در زندگی به‌کار می‌برند.

به ریاضی عمیق تر نگاه کن

موفق باشید.

قیمت آزمون ۵۰۰۰ تومان

۱- جاهای خالی را پر کنید.

- یک دسته ده تایی به همراه یک دسته ده تایی دیگر و ۵ یکی می‌شود .....
- سه دسته ده تایی و ۸ یکی به همراه ۵ یکی دیگر می‌شود .....

۲- برنامه ورزشی اولین دوره علی به این صورت می‌باشد.

سه روز ورزش، ۱ روز استراحت، دوباره ۴ روز ورزش، ۱ روز استراحت

امروز روز نهم ماه است. اگر علی دیروز ورزش را شروع کرده باشد، این دوره را در چندمین روز ماه تمام می‌کند؟

۳- سامان یک کتاب ۳۰ صفحه ای دارد، و می‌خواهد در روزهای چهارشنبه و پنج‌شنبه و جمعه آن را بخواند. اگر روز

چهارشنبه ۶ صفحه و در روزهای بعدی یک صفحه بیشتر از شب قبل بخواند، چند صفحه خوانده است؟

چند صفحه باقی مانده است؟

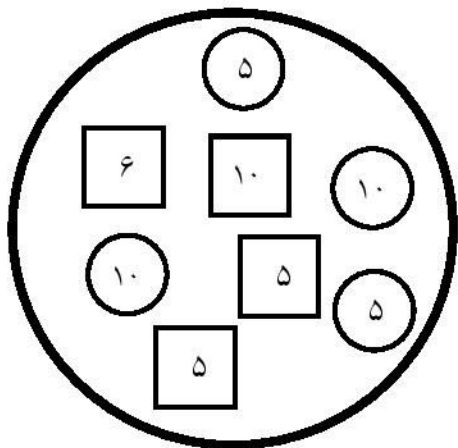


کلاسهای ریاضی مقدماتی ویژن



به نام خدا شروع روزانه آزمون  
مرکز تخصصی ریاضیات ویژن

۴- ابتدا مجموع دایره‌ها و سپس مجموع مربع‌ها را پیدا کنید و سپس اختلاف عدد دایره‌ها و مربع‌ها را حساب کنید.



۵- چند عدد دورقمی می‌توان نوشت که یکان آن‌ها ۱، ۵ و ۳ و دهگان آن‌ها ۱ و ۹ باشد.

۴۰-۵۱-۶۰-۷۱- \_\_\_\_\_

۲۳-۲۵-۲۶-۲۸- \_\_\_\_\_

۶- الگوها را ادامه دهید.

۷- با کشیدن عقربه‌ها ساعت زیر را نشان دهید.


۱۰ دقیقه مانده به ساعت ۹

۸- سعید ۴۱ ساله می‌باشد و امیر ۲۷ سال دارد. چند سال بگذرد تا امید هم به سن ۴۱ سال برسد؟ در این زمان سعید چند ساله شده است؟

کلاسهای ریاضی مقدماتی ویژن

۹- اگر ضلع های یک مستطیل برابر شوند، چه شکلی حاصل می شود؟

۱۰- الگو های زیر را تا دو مرحله ادامه دهید.



۱۱- یک ساعت و ۲۰ دقیقه بعد از ساعت ۵ چه ساعتی می شود؟

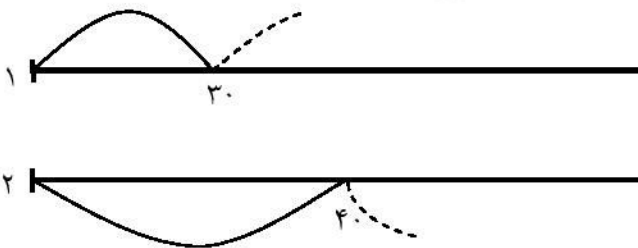
$$\begin{cases} 4 + 8 = 12 \\ 12 - 3 = 9 \end{cases}$$

$$(4 + 8) - 3 =$$

۱۲- برای عبارت زیر یک مسئله بنویسید.

۱۳- دو تا قورباغه داریم. قورباغه اول با هر پرش ۳۰ سانتی متر و قورباغه دوم ۴۰ سانتی متر به جلو می پرند. اولین نقطه ای

که هر دو در یک مکان هستند، چه فاصله ای دارد؟



۱۴- آقای رضایی در بانک است و حدوداً هر ۸ دقیقه یکبار شماره جدید خوانده می شود. شماره آقای رضایی ۵۱ می باشد

و شماره ۴۸ خوانده شده است. حدوداً چند دقیقه دیگر نوبت آقای رضایی می شود؟

کلاسهای ریاضی مقدماتی ویزن



موسسه تخصصی ریاضیات ویزن

موفق باشید.

نیاز به تلاش بیشتر

قابل قبول

خوب

خیلی خوب