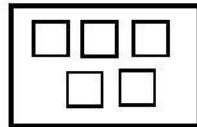
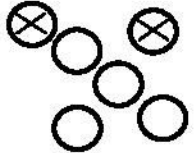


۱ -

حل:



۲ -

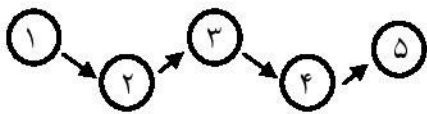
حل:



۳ -

حل:

۵، ۴، ۳، ۲، ۱



۴ -

حل: الف)

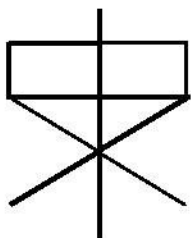


ب)




۵ -

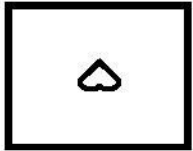
حل:



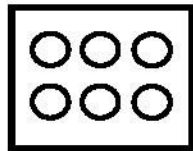
۶ - حل:




۷ - حل:



— —



— ۵ —

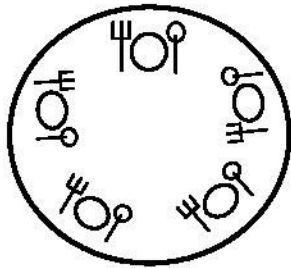


— ۲ —



— ۴ —

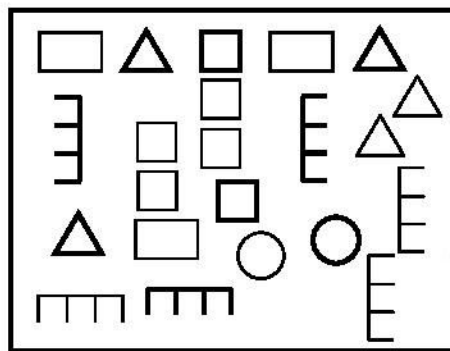
۸ - حل:



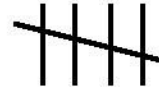
۹ - حل: ۳



۱۰ - حل:



۱۱ -
حل:



۱۲ -

حل:

۶	۵	۲	۱	۳	۴
۴	۳	۱	۲	۵	۶
۱	۳	۵	۴	۶	۲
۲	۶	۴	۵	۱	۳
۱	۴	۳	۶	۲	۵
۵	۲	۶	۳	۴	۱

۱۳ -

حل: ۴۰

۱۴ -

حل: ۸

مکتب ریاضیات ویتنام

