

نام :

به نام خدا

تاریخ :



نام خانوادگی :

پایه : اول

به ریاضی عمیق تر نگاه کن

مرکز تخصصی ریاضیات ویژن

ویژن باور دارد هر دانش آموزی درون خود یک نابغه دارد، ما کمک می‌کنیم آن را پیدا کنید، نابغه درون تو پیدا کن.

برای ثبت نام در کلاس‌های تیزهوشان ورودی مدارس نمونه دولتی همین الان ثبت نام کنید.

تدریس خصوصی در کل تهران

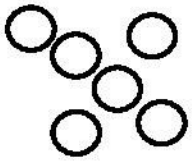
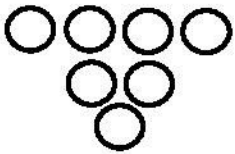
۲۶۵۷۰۸۱۰

موفق باشید.

زمان : ۶۰ دقیقه

۱ - به اندازه چوب خطها از دایره‌ها خط بزنید. سپس یک واحد به تعداد باقی‌مانده اضافه کنید

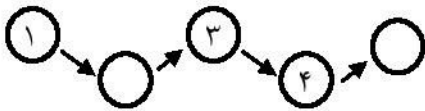
و حاصل را با مربع نشان دهید.



۲ - ۲ انگشت از دست راست و ۴ انگشت از دست چپ بسته‌ایم. به اندازه انگشت‌های باز چوب خط رسم کنید.

۵, ---, ---, ۲, ۱

۳ - جاهای خالی را پر کنید.



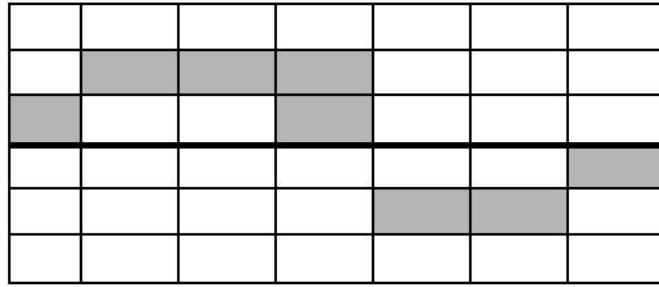
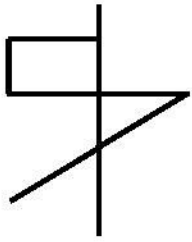
۴ - الف) با توجه به رنگ آمیزی‌ها چوب خط بکشید.



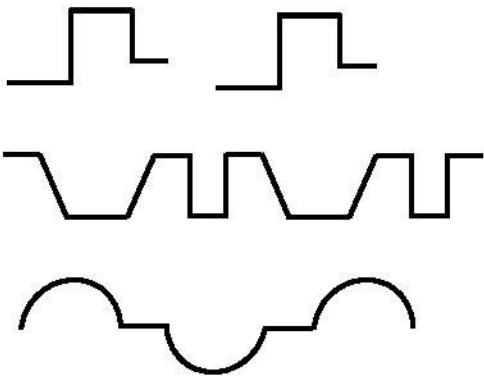
ب) با توجه به چوب خطها خانه‌های مربع را رنگ کنید.



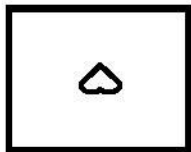
۵ - با توجه به خط تقارن نیمه دیگر شکل‌ها را رسم کنید.



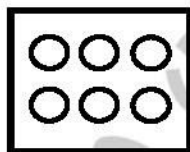
۶ - الگوهای زیر را ادامه دهید.




۷ - یک واحد از هر شکل کم کنید و حاصل را با عدد نشان دهید.



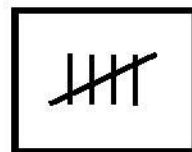
- -



- -



- -



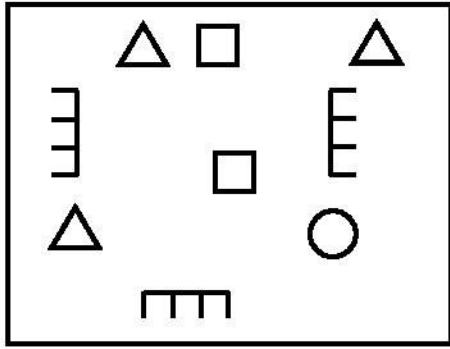
- -

۸ - آقای احمدی و همسرشان ۳ نفر مهمان دارند. اگر بخواهند دور میز شام بخورند بشقاب و قاشق و چنگال‌ها را شما برایشان بچینید.

۹ - ۳ تا فیل و ۲ زرافه در یک باغ وحش بودند. اگر از هر نوع حیوان، یکی کم شود، چندتا می‌ماند؟ (با شکل)

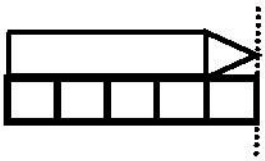
کلاسهای ریاضی تیزهوشان ویژن

۱۰- شکل زیر را طوری کامل کنید که با جدول زیر متناسب باشد؟



□	
○	
△	
▭	
≡	

۱۱- طول ضلع مداد برابر با چند مربع می‌باشد؟ با چوب خط نشان دهید.



۱۲- جدول شگفت انگیز زیر را کامل کنید.

		۲			۴
		۱		۵	
		۵		۶	۲
۲	۶		۵		
	۴		۶		
۵			۳		

۱۳- به تعداد انگشت‌های دستان و پای ۲ نفر دایره بکشید.

۱۴- علی زیر میز قایم شده بود که ۴ نفر دور میز نشستند. علی چند پا در زیر میز می‌بیند؟



- خیلی خوب
 خوب
 قابل قبول
 نیاز به تلاش بیشتر

موفق باشید.