

نام :

به نام خدا

تاریخ :

نام خانوادگی :

پایه : اول



مرکز تخصصی ریاضیات ویژن

ثبت نام در کل تهران ۰۸۱۰۷۰۵۷۰۲۶

ویژن باور دارد هر دانش آموزی درون خود یک نابغه دارد، ما کمک می‌کنیم آن را پیدا کنید، نابغه درون تو پیدا کن.

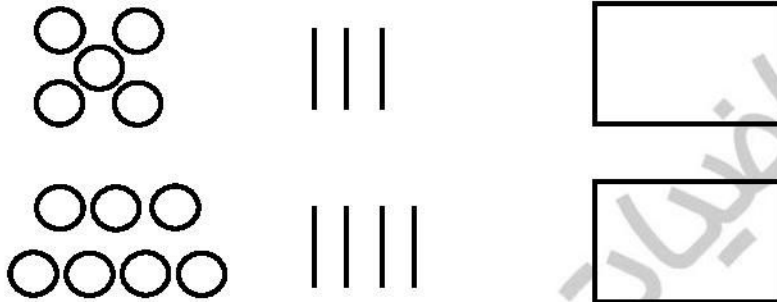
برای ثبت نام در کلاس‌های تیزهوشان ورودی مدارس نمونه دولتی همین الان ثبت نام کنید.

به ریاضی عمیق تر نگاه کن

موفق باشید.

زمان : ۶۰ دقیقه

۱ - به اندازه چوب خطها از دایره‌ها خط بزنید و حاصل را با مربع نشان دهید.



۲ - ۴ انگشت از دست راست و ۲ انگشت از دست چپ را باز کرده ایم. حاصل را با چوب خط نشان دهید.

۱, ---, ---, ۴, ---

۳ - جاهای خالی را پر کنید.

۱, ۲, ---, ۴, ۵

۴ - الف) با توجه به رنگ آمیزی‌ها چوب خط بکشید.

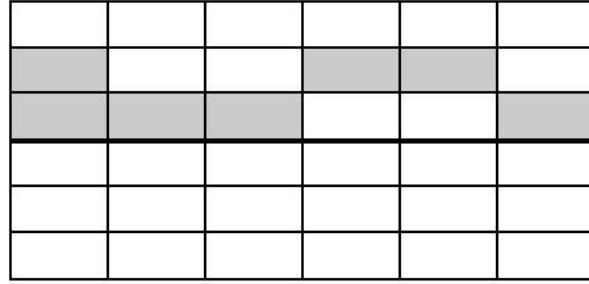
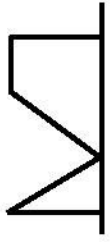


ب) با توجه به چوب خطها در خانه‌های مربع مشخص کنید.

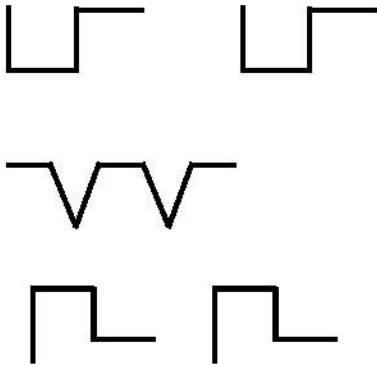
کلاسهای ریاضی تیزهوشان ویژن




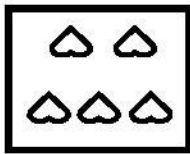
۵ - با توجه به خط تقارن نیمه دیگر شکل‌ها را رسم کنید.



۶ - الگوهای زیر را ادامه دهید.



۷ - عدد مناسب با هر شکل را بنویسید.




- -

- -


- -

- -

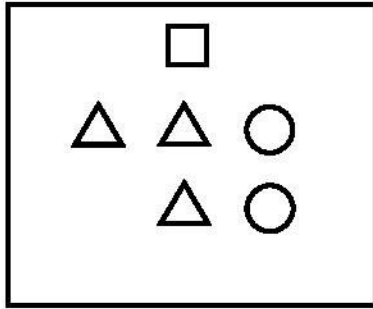
۸ - اشرف خانم ۴ نفر مهمان دارد. اگر همگی دور میز بنشینند شما بشقاب‌های و قاشق چنگال‌ها را بکشید.



۹ - از ۵ کبوتر روی درخت فقط ۲ کبوتر مانده است. چند کبوتر پرواز کرده است؟ (با شکل)



۱۰- شکل زیر را طوری کامل کنید که متناسب با جدول زیر باشد.



□	
△	
○	

۱۱- طول ضلع مداد برابر با چند مربع می‌باشد؟ با چوب خط نشان دهید.



۱۲- جدول شگفت انگیز زیر را کامل کنید.

			۶	۲	
				۵	
۲			۵	۴	
	۳	۵			۲
	۱				
	۴	۶			

۱۳- به تعداد انگشت‌های دستان ۲ نفر دایره بکشید.

۱۴- ۲ تا گربه هرکدام ۲ موش خورده اند. چند موش خورده شده است؟



به یادمانده، به یادمانده، به یادمانده
مرکز تخصصی ریاضیات و فیزیک



نیاز به تلاش بیشتر

قابل قبول

خوب

خیلی خوب

موفق باشید.