

نام :

به نام خدا

به ریاضی عمیق تر شاه کن



نام خانوادگی :

پایه : اول (مقدماتی)

مرکز تخصصی ریاضیات ویژن

آزمون های ادواری شماره ۸

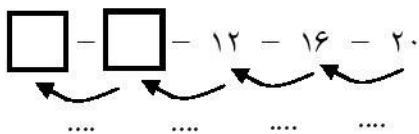
یکی از مهم ترین عوامل یادگیری درس ریاضی پیوستگی در فراگیری آن است. دانش آموزانی که ارتباط خود را با درس ریاضی مخصوصاً در تابستان قطع می کنند نسبت به سایر دانش آموزانی که در این کلاس ها شرکت می کنند از فراگیری کمتری برخوردارند و باعث عدم اعتماد به نفس آن ها در مدرسه می شود.

کلاس های تابستانه موسسه ریاضی ویژن ثبت نام می کند.


ثبت نام: ۸۸۹۰۴۰۰۲

۱ - جاهای خالی را با اعداد مناسب کامل کنید. (۱ نمره)

زمان : (۶۰ دقیقه)



۲ - نام هر یک از شکل های زیر را بنویسید. (۱ نمره)

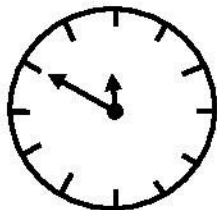


۳ - جدول زیر را کامل کنید. (۲ نمره)

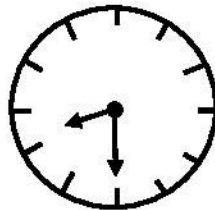
۵	۹	۱	۶	۲	۴	۷	۸	۳
۷	۸	۳	۵	۹	۱	۶	۲	۴
۶	۲	۴	۷	۸	۳	۵	۹	۱
۹	۱	۵	۲		۶	۸	۳	۷
۸	۳	۷	۹	۱			۴	۶
۲	۴	۶	۸	۳				۵
۱	۵	۹	۴					۸
۳	۷	۸	۱	۵	۹	۴	۶	۲
۴	۶	۲	۳	۷	۸	۱	۵	۹

۴ - سعید ۱۸ سیب داشت. او ۹ سیب را داخل ظرف گذاشت. حالا سعید چند سیب دارد؟ (۱ نمره)

۵ - کامل کنید. (۱ نمره)



کمی به ساعت مانده است.



ساعت از گذشته است.

۶ - الف) اعداد زیر را به رقم بنویسید. (۲ نمره)

چهل و یک

پنجاه و هشت

نود و سه

سی و نه

ب) اعداد زیر را به حروف بنویسید.

۷۴

۱۴

۲۸

۶۶



به ریاض عمیق تر نگاه کن
مرکز تخصصی ریاضیات و ویژن

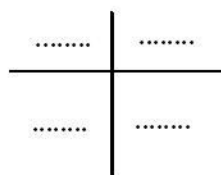

۷ - مقایسه کنید. (۱ نمره)

$۲۵ + ۷$ $۱۴ + ۱۰$

$۲۸ - ۹$ $۳۰ - ۱۰$

۸ - عددی بنویسید که از ۲۳ کوچکتر و از ۲۱ بزرگتر باشد. (۱ نمره)

۹ - با شکل زیر دسته‌های ده‌تایی درست کنید. سپس جدول زیر را کامل کنید و عدد مربوط به شکل را به رقم و حروف بنویسید. (۲ نمره)



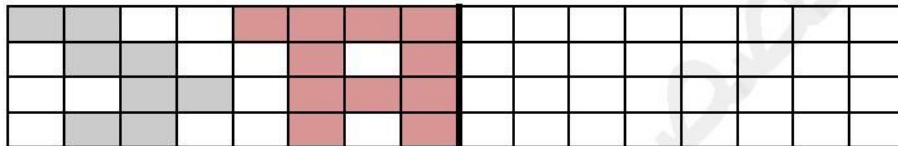
: عدد به رقم

: عدد به حروف


۱۰ - از عدد ۲۰ تا ۶۰ را ۵ تا ۵ تا بنویسید. (۱ نمره)

۱۱ - یک اتوبوس ۴۴ صندلی دارد. ۳۰ نفر مسافر در اتوبوس بودند که به ایستگاه رسید. ۹ نفر از اتوبوس پیاده شدند. حالا اتوبوس چند صندلی خالی دارد؟ (۲ نمره)

۱۲ - نیمه‌ی دیگر شکل زیر را طوری کامل کنید که هر دو نیمه قرینه‌ی یکدیگر باشند. (۱ نمره)



۱۳ - برای محور زیر عملیات مناسب بنویسید. (۲ نمره)



۱۴ - علی ۵ بسته‌ی ۴ تایی شکلات گردویی و ۳ بسته‌ی ۳ تایی شکلات فندقی دارد. علی روی هم چند شکلات دارد؟ (۲ نمره)