

نام :

به نام خدا

تاریخ :



نام خانوادگی :

پایه : اول ( مقدماتی )

آزمون های ادواری شماره ۷

### مرکز تخصصی ریاضیات ویژن

یکی از مهم‌ترین عوامل یادگیری درس ریاضی پیوستگی در فراگیری آن است. دانش آموزانی که ارتباط خود را با درس ریاضی مخصوصاً در تابستان قطع نمی‌کنند نسبت به سایر دانش آموزانی که در این کلاس‌ها شرکت نمی‌کنند از فراگیری بهتری برخوردارند و همچنین کلاس‌های تابستانه باعث می‌شود دانش آموزان در سال تمصیلی جدید با اعتماد به نفس بیشتر و پایه‌ای قوی‌تر در مدرسه حاضر شوند. کلاس‌های گروهی تابستانه مرکز تخصصی ویژن در کلیه مقاطع با هدف مروری بر پایه‌ی سال تمصیلی جدید که پیش رو دارد برگزار می‌گردد.

ثبت نام: ۰۲۰۰۴۰۰۸۸۹۰

۱ - ۵ تا سیب بود. علی ۳ سیب خورد. چند سیب باقی مانده است؟ ( با رسم شکل ) ( ۸ نمره )

زمان : ( ۶۰ دقیقه )

۲ - سارا ۱۰ گل خرید. ۶ تا از گل‌ها سفید بود. بقیه‌ی گل‌ها قرمز بود. سارا چند گل قرمز خریده است؟ ( با محور ) ( ۸ نمره )

۳ - در تنگ ۴ ماهی قرمز و ۸ ماهی سفید بود. ۹ تا از ماهی‌ها مردند. چند ماهی باقی مانده است؟ ( ۹ نمره )

۴ - در جاهای خالی اعداد مناسب بنویسید. ( ۸ نمره )

□ □ □ □ □ □ □ □ □ □ □ □

□ □ □ □ □ □ □ □ □ □ □ □

□ □ □ □ □ □ □ □ □ □ □ □

□ □ □ □ □ □ □ □ □ □ □ □

.....	.....
.....	.....

عدد به رقم: .....

عدد به حروف: .....

۵ - چند عدد بین ۶۳ تا ۶۷ وجود دارد؟ آن اعداد را بنویسید. ( ۶ نمره )

۶ - حسین سه دسته‌ی ۱۰ تایی مداد رنگی داشت. پدرش به او ۶ مداد رنگی داد. اکنون حسین چند مداد رنگی دارد؟ ( ۸ نمره )

۷ - حاصل هر عبارت را بنویسید. ( ۸ نمره )

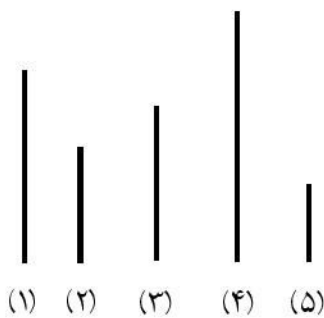
$$۲۰ + ۶ + ۱۰ = \square$$

$$۲۰ + ۱۰ + ۲ + ۳ + ۵ = \square$$

$$۱۰ + ۱۰ + ۱۰ + ۵ + ۵ = \square$$

$$۲۰ + ۳۰ + ۶ + ۴ = \square$$

۸ - به خط‌های زیر نگاه کنید: ( ۹ نمره )




الف) خط شماره‌ی (۱) کوتاه‌تر از خط شماره‌ی ..... است.

ب) خط شماره‌ی (۲) بلندتر از خط شماره‌ی ..... است.

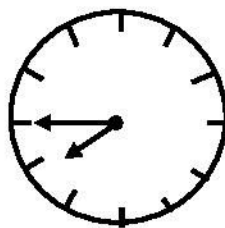
ج) خط شماره‌ی ..... بلندترین خط است.

۹ - کامل کنید: ( ۹ نمره )



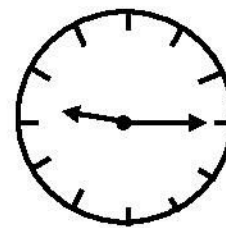
زمان بین

ساعت ..... و ..... است.



زمان بین

ساعت ..... و ..... است.



زمان بین

ساعت ..... و ..... است.

۱۰ - کامل کنید. ( ۸ نمره )

(الف) ..... - ..... - ..... - ۲۴ - ۳۰ - ۳۶  
.....  
.....  
.....

(ب) ..... - ..... - ..... - ۲۵ - ۳۰ - ۳۵  
.....  
.....  
.....

۱۱ - مقایسه کنید. ( ۹ نمره )

$< = >$

$۱۰ + ۳۰$    $۵ + ۵ + ۱۰ + ۲۰$

$۴۵ + ۵$    $۳۵ + ۱۰$

$۸ + ۶ + ۱۰$    $۲۰ + ۵ + ۲$

۱۲ - جواد ۳۶ شکلات داشت. ۸ تا را به دوستش علی داد. ۵ تای دیگر را به ایمان داد. حالا چند شکلات دیگر برای جواد باقی مانده است؟ ( به کمک شکل ) ( ۱۰ نمره )

۱۳ - کتابی ۲۸ صفحه دارد. مریم ۱۵ صفحه از این کتاب را خوانده است. چند صفحه باقی مانده است؟ ( ۵۰ نمره )

۱۴ - زهرا ۲۵ شکلات فندقی، ۱۰ شکلات گردویی و ۲۰ شکلات کره ای دارد. اگر زهرا ۳۰ شکلات به دوستش بدهد، چند شکلات برایش باقی می ماند؟ ( ۵۰ نمره )

موفق باشید.