

نام :

به نام خدا

تاریخ :

نام خانوادگی :



پایه : دوم

تدریس خصوصی در کل شهر تهران  
۲۶۵۷۰۸۱۰

مرکز تخصصی ریاضیات ویژن

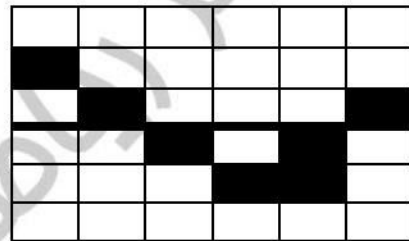
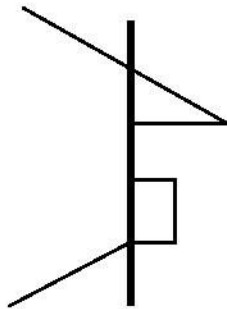
مرکز تخصصی ریاضیات ویژن با دبیران مجرب و متخصص آماده‌ی خدمات رسانی به شما دانش آموزان عزیز جهت کلاس‌های شب امتحانی می‌باشد.

موفق باشید.



به ریاضی عمیق تر نگاه کن

قیمت 5000 تومان

۱ - با توجه به خط تقارن نیمه دیگر شکل را بکشید.



۲ - خط‌های تقارن شکل زیر را رسم کنید.



۳ - ساعت پنج و نیم را روی ساعت نشان دهید.

- یک ساعت قبل ساعت چند می‌شود؟

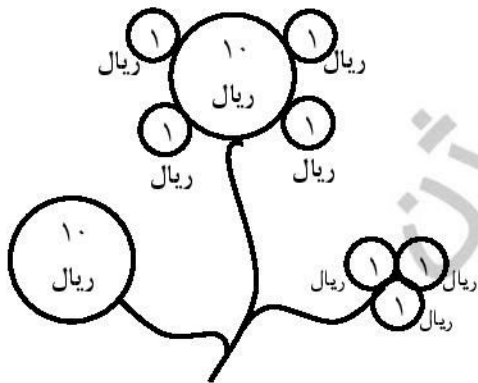
- یک ساعت و نیم قبل ساعت چند می‌شود؟

۴ - الگوهای زیر را تا دو مرحله ادامه دهید.




۵ - هم اکنون ساعت ۲۰ : ۴ می باشد. اگر سارا نیم ساعت پیش ورزش را شروع کرده باشد، در زمان شروع ساعت چند بوده است؟

۶ - جاهای خالی را پر کنید.  
- ۱۰ سکه ۱۰ ریالی برابر است با ..... سکه ۱ ریالی.  
- ..... سکه ۱ ریالی برابر است با ۳ سکه ۱۰ ریالی.



۷ - ارزش هر دسته از سکه ها چقدر می شود؟



۸ - جاهای خالی را با اعداد مناسب پر کنید.

$$۲۰ + \square + ۲۰ = ۷۰$$

$$۲۰ + \square - ۱۰ = ۵۰$$

$$۸۰ - \square = ۲۰ + ۲۰$$

$$۳۰ + \square = ۵۵$$



۹ جاهای خالی را پر کنید.

- ۵ دسته صدتایی و ۹ یکی و ۳ دسته دهتایی می شود.....
- ۱ دسته دهتایی و ۵ دسته صدتایی می شود.....
- ۳۴۰ یعنی ..... یکی و ..... صدتایی و ..... دهتایی.
- ۵۰۱ یعنی ..... صدتایی و ..... یکی و ..... دهتایی.

۱۰- با ارقام ۷ و ۲ و ۴ چند عدد سه رقمی می توان نوشت که یکان آن ها فقط ۲ یا ۴ باشد؟

۱۱- یک عدد سه رقمی بنویسید که یکان آن ۲ واحد کمتر از صدگان، و دهگان آن برابر با مجموع یکان و صدگان باشد.

۱۲- الگوهای زیر را ادامه دهید.

----- و ----- و ۱۹ و ۱۸ و ۲۲ و ۲۱ و ۲۵

----- و ----- و ۱۱ و ۸ و ۶ و ۵



به ریاضی عمیق تو نگاه کن  
مرکز تخصص ریاضیات ویژن

موفق باشید.

نیاز به تلاش بیشتر

قابل قبول

خوب

خیلی خوب