

نام :

به نام خدا

تاریخ :



نام خانوادگی :

پایه : اول

تدریس خصوصی در کل شهر تهران
۲۶۵۷۰۸۱۰

مرکز تخصصی ریاضیات ویژن

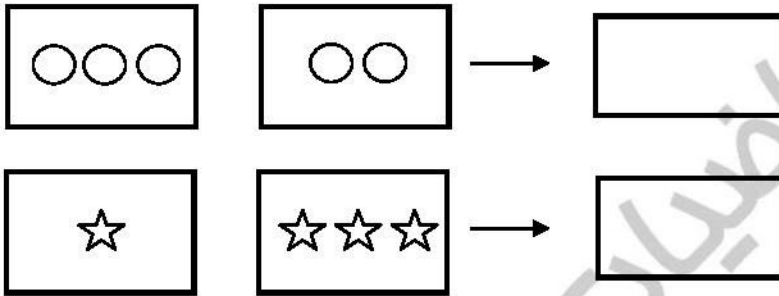
مرکز تخصصی ریاضیات ویژن با دبیران مجرب و متخصص آماده‌ی خدمات رسانی به شما دانش آموزان عزیز جهت کلاس‌های شب امتحانی می‌باشد.

موفق باشید.


به ریاضی عمیق تر نگاه کن

تدریس لاین تدریس آنلاین

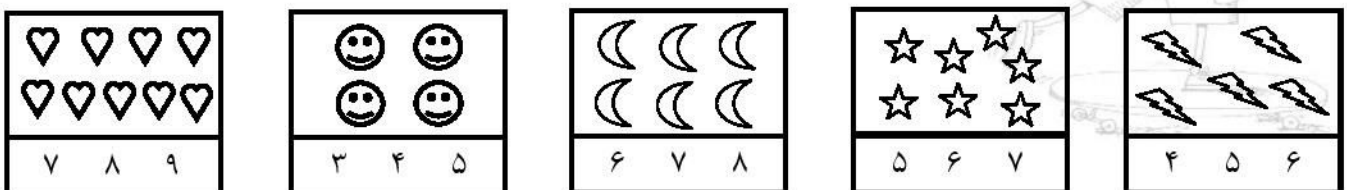
۱- با کشیدن چوب خط حساب کنید شکل‌های سمت چپ و راست روی هم چندتا هستند؟



۲- از چینه‌های رنگی به تعداد چوب‌خط‌ها خط بزن. به تعداد باقی‌مانده از چینه‌های سمت راست رنگ کن:



۳- دور عدد درست خط بکشید.



۴ - جدول زیر را کامل کنید.


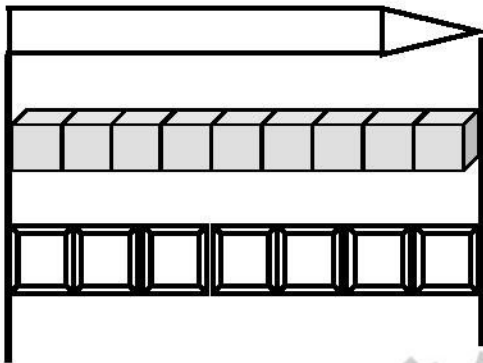
۶	۴	۵	۱	۳	۲
۱			۶	۴	۵
۴	۵				۱
۳	۲		۴	۵	۶
۵	۶		۲	۱	۳
۲	۱	۳	۵	۶	۴

۵ - برای شکل‌های زیر یک جمع بنویسید:

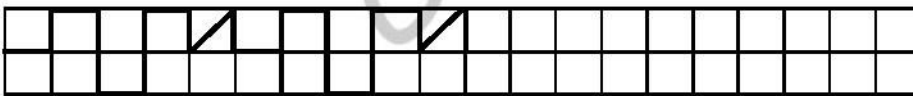


..... + =

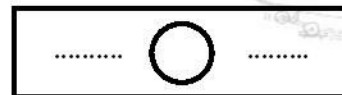
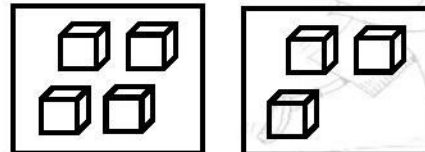
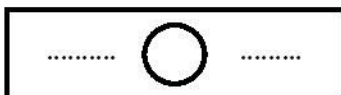
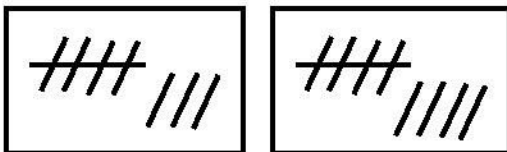
۶ - اندازه مداد چند شکل کوچک است؟



۷ - با توجه به نمونه ادامه دهید.



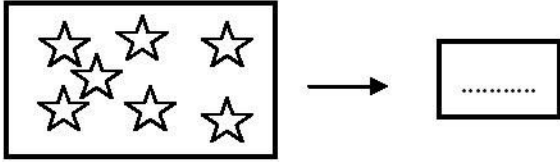
۸ - از علامت کمتر، بیشتر (<) یا مساوی (=) استفاده کنید:




۹ - مانند نمونه ادامه دهید:



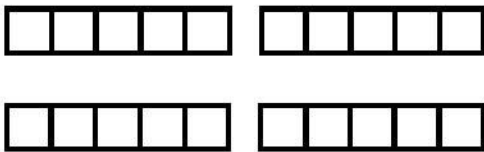
۱۰ - عددی بنویسید که ۴ تا کمتر از ستاره‌ها باشد؟



۱۱ - مربع‌ها را طوری رنگ کنید که دو نیمه‌ی مثل هم به وجود آید.



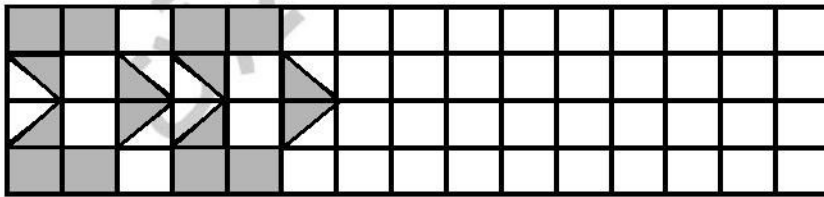
۱۲ - با رنگ کردن شکل‌ها به هر سوال پاسخ مناسب دهید.




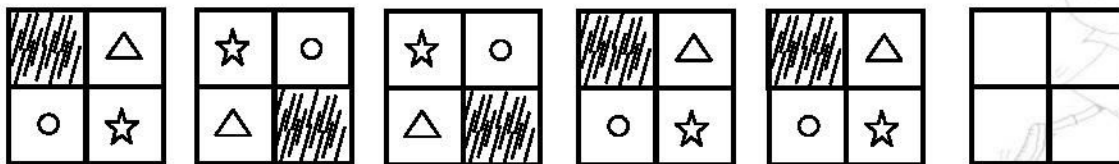
$8 + 2 = \dots\dots\dots$

$5 + 4 = \dots\dots\dots$


۱۳ - ادامه دهید:




۱۴ - شکل بعدی کدام است؟




(د)



(ج)



(ب)



(الف)

نیاز به تلاش بیشتر موفق باشید.

قابل قبول

خوب

خیلی خوب