

۱- یک فوتبالیست زمان انجام تمرینات خود را در یک هفته نوشته است. جدول او به صورت زیر کامل شده است.


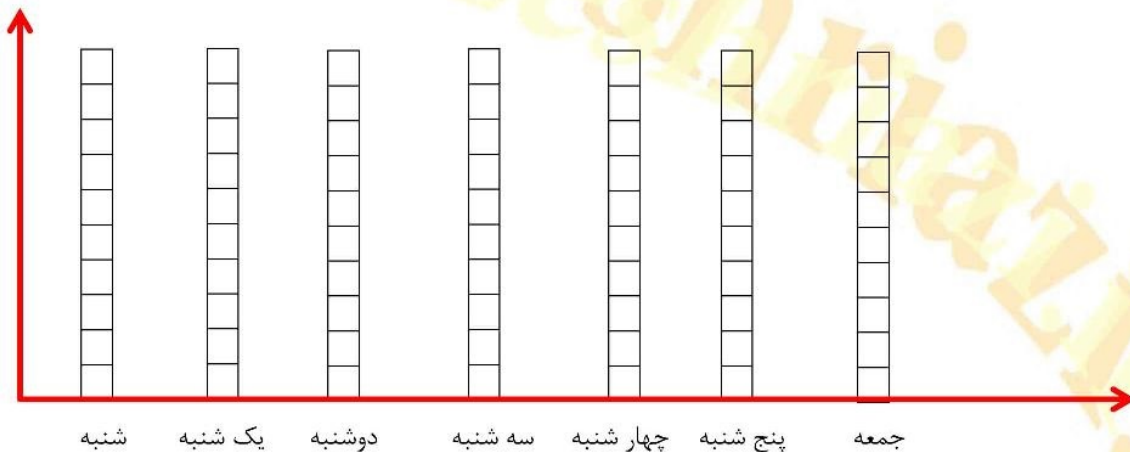
روز	شنبه	یکشنبه	دوشنبه	سه شنبه	چهارشنبه	پنج شنبه	جمعه
ساعت	۳	۱	۳	۵	۳	۲	۲

- در کدام روز بیشترین مقدار تمرین را انجام داده است؟

- در کدام روز کمترین مقدار تمرین را انجام داده است؟

- در این هفته چند ساعت تمرین کرده است؟

حالا نمودار ستونی ساعات انجام تمرینات این فوتبالیست را با رنگ کردن یک مربع برای هر ساعت کامل کنید.



۲- ساعت چند است؟ .....

۱۵ دقیقه بعد ساعت چند می شود؟ .....

مقدار چرخش آن چند قسمت از صفحه است؟ رنگ کنید.

۳- با رقم های ۳ و ۸ و ۶ همه ی عدد های سه رقمی را بنویسید.

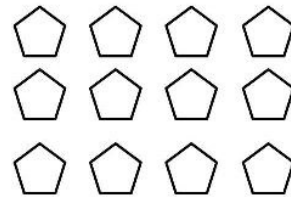

بین عدد هایی که نوشته اید دور عدد های فرد خط بکشید.

.....

۴- باغبانی در پارک ۷۰ گل لاله ی قرمز و سفید کاشته است . اگر ۴۷ گل لاله قرمز باشد تعداد لاله های سفید را حساب کنید .



۵- برای هر شکل ۲ عبارت ضرب بنویسید .



..... تا ..... تایی می شود .....

..... تا ..... تایی می شود .....

..... تا ..... تایی می شود .....

..... تا ..... تایی می شود .....

۶- این اردک کوچولو از چند راه می تواند پیش دوستانش برود . ( با رنگ های مختلف نشان دهید )

